



Exercice 2: Soit les processus présenter ci-dessous:

Processus	Temps arrivées	Durée d'exécution	Priorité
P1	0	5u	4
P2	2	4u	2
P3	2	2u	2
P4	4	4u	3

① Diagramme d'exécution pour un ordonnancement "Avec priorité sans préemption"



② Diagramme d'exécution pour un ordonnancement "Avec priorité Avec préemption":

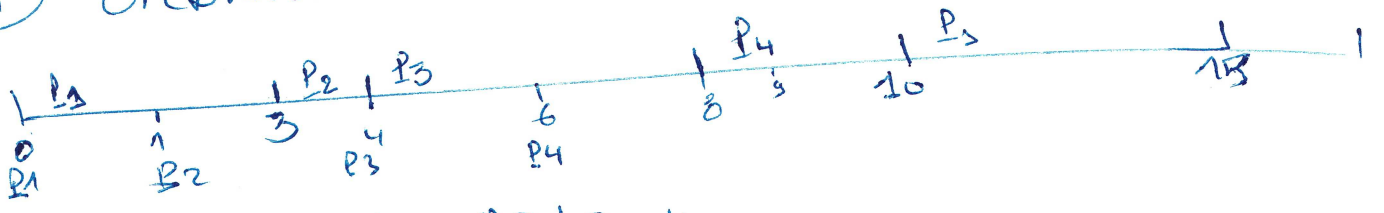


Exercice 3

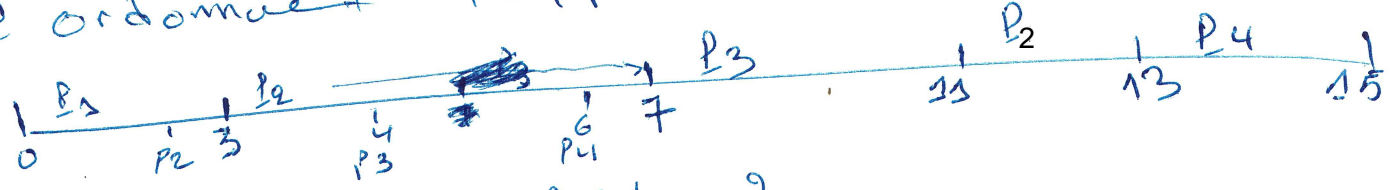
Processus	Temps arrivées	Durée d'exécution
P1	0	3
P2	1	6
P3	4	2
P4	6	2

Diagramme de Gantt dans ces cas:

① Ordonnement SRTP



② Ordonnement RR | Q=4



③ Ordonnement RR | Q=2

