

| الصفحة | المحتويات |
|---|--|
| 6 – 1 | الفهرس..... |
| 8 و 7 | تقديم..... |
| الفصل الأول: مدخل للإحصاء الوصفي | |
| 09 | تمهيد..... |
| 10 | I. عرض البيانات الإحصائية..... |
| 10 | 1. بعض المفاهيم الإحصائية..... |
| 10 | 1.1 الوحدة الإحصائية..... |
| 10 | 2.1 المجتمع الإحصائي..... |
| 10 | 3.1 العينة..... |
| 11 | 2. أنواع الصفات أو المتغيرات..... |
| 11 | 1.2 الصفة الكيفية النوعية..... |
| 11 | 2.2 الصفة الكمية..... |
| 11 | 3. الجداول الإحصائية..... |
| 11 | 1.3 تكوين الجدول الإحصائي..... |
| 12 | 2.3 شروط تكوين الجدول الإحصائي..... |
| 12 | 3.3 طريقة (Sturge) لتحديد طول الفئات..... |
| 13 | 4. التمثيل البياني..... |
| 13 | 1.4 التمثيل البياني في حالة الصفة الكيفية..... |
| 15 | 2.4 التمثيل البياني في حالة الصفة الكمية..... |
| 16 | II. مقاييس النزعة المركزية..... |
| 17 | 1. الوسط أو المتوسط الحسابي..... |
| 18 | 2. المتوسط الهندسي..... |
| 19 | 3. المتوسط التوافقي..... |
| 20 | 4. المتوسط التريبيعي..... |
| 20 | 5. الوسيط..... |
| 20 | 1.5 الوسيط حالة البيانات غير المبوبة..... |

| | |
|----|--|
| 21 | 2.5 الوسيط حالة البيانات المبوبة |
| 23 | 6. الربيعيات |
| 23 | 1.6 الربيع الأول Q_1 |
| 26 | 2.6 الربيع الثالث Q_3 |
| 28 | 7. العشريات |
| 28 | 1.7 العشير D_1 |
| 29 | 2.7 تعميم: العشير D_i |
| 30 | 8. المائنيات |
| 30 | 1.8 المئني الأول P_1 |
| 31 | 2.8 تعميم: المئني الأول P_i |
| 32 | 9. المنوال |
| 32 | 1.9 المنوال حالة البيانات غير المبوبة |
| 33 | 2.9 المنوال حالة البيانات المبوبة |
| 35 | III. مقاييس التشتت والشكل |
| 35 | 1. مقاييس التشتت |
| 35 | 1.1 المدى العام |
| 35 | 2.1 المدى الربيعي |
| 35 | 3.1 نصف المدى الربيعي |
| 36 | 4.1 الانحراف المتوسط |
| 37 | 5.1 التباين |
| 38 | 6.1 معامل التغير أو الاختلاف |
| 39 | 7.1 العزوم |
| 39 | 2. مقاييس الشكل |
| 40 | 1.2 مقاييس الالتواء |
| 41 | 2.2 مقاييس التفلطح |
| 42 | IV. التوزيعات ذات المتغيرتين |
| 42 | 1. الجداول الثنائية (الجدول الإحصائي ذو بعدين) |
| 43 | 1.1 جداول التكرارات النسبية الشرطية للمتغير الإحصائي X |
| 44 | 2.1 جداول التكرارات النسبية الشرطية للمتغير الإحصائي Y |

| | |
|----|---|
| 44 | 3.1 المتوسط الحسابي..... |
| 44 | 4.1 التغيرات أو التباين المشترك..... |
| 45 | 2. الانحدار الخطي البسيط والارتباط..... |
| 45 | 1.2 سحابة النقاط..... |
| 46 | 2.2 تقدير المعادلة الانحدار..... |
| 47 | 3.2 معامل الارتباط..... |
| 49 | V. الأرقام القياسية..... |
| 49 | 1. مفهوم الرقم القياسي..... |
| 50 | 2. خصائص الأرقام القياسية..... |
| 50 | 3. الرقم القياسي التجميعي..... |
| 50 | 1.3 الرقم القياسي التجميعي البسيط..... |
| 51 | 2.3 الرقم القياسي التجميعي المرجح..... |
| 51 | 4. الأرقام التجميعية المرجحة المستعملة..... |
| 51 | 1.4 الرقم القياسي لاسبير (Laspeyres)..... |
| 52 | 2.4 الرقم القياسي لباش (Paasche)..... |
| 52 | 3.4 الرقم القياسي لفيشر (Fischer)..... |
| 53 | VI. مسائل وتمارين مع الحل..... |

تقديم

لقد دفعنا إلى كتابة ونشر كتاب الأساليب الكمية وتطبيقاتها في العلوم الاقتصادية الرغبة بشكل أساسي في إفادة الطلبة الجامعيين سواء للذين هم بصدد التحضير لشهادة الليسانس أو الماستر في الاقتصاد والإحصاء التطبيقي وكل التخصصات ذات الصلة، إضافة إلى إثراء وتزويد المكتبة الجزائرية بالمناهج الكمية في علم الاقتصاد والتي شهدت رواجاً واهتماماً كبيرين في مجالات البحث العلمي في السنوات الأخيرة، وتعتبر الأساليب الكمية الدعامة الأساسية التي يركز عليها الاقتصاد التطبيقي أو الكمي ولهذا السبب ارتأينا أن يكون هذا الكتاب بين أيدي الطلبة والباحثين ليوضح لهم المبادئ الأساسية لهذا المنهج.

ويعتبر تطبيق الأساليب الكمية ضمن العلوم الاقتصادية من أهم المناهج التي ظهرت وتطورت في العصر الحديث، فهي تعمل على جمع البيانات المتعلقة بظاهرة اقتصادية ما وصياغتها بشكل رقمي وكمي بهدف تحديد مسيبتها وتحديد اتجاهها وضبط سلوكها وتطويرها في المستقبل. وضمن هذا الكتاب قمنا بمناقشة النظريات والمفاهيم الأساسية الكامنة وراء كل موضوع دون اللجوء للكثير من البراهين الرياضية غير ضرورية وهذا بغرض تسهيل استعمال الطرق والأساليب الكمية ضمن العلوم الاقتصادية، بحيث تما شرح وتوضيح أهم النظريات التي تدخل ضمن عناصر هذا الكتاب مع أمثلة تطبيقية تدعم وتوضح كيفية التعامل مع هذه النظريات أو النماذج في الجانب التطبيقي حيث تما الاستعانة بالبرنامج الإحصائي Eviews إذا اقتضى الأمر ذلك مع تقديم شرح مفصل للنتائج وربطها بوقائع اقتصادية.

وضمن الأساليب الكمية يمكننا أن نميز بين نوعين من الإحصاء، وهما الإحصاء الوصفي (Descriptive statistics) والإحصاء الرياضي أو الاستدلالي (Inferential statistics)، فالإحصاء الوصفي يعتبر المرحلة أو الخطوة الأولى في الطريقة والدراسة الإحصائية، فهو يهتم بالبحث عن المعلومات حول الظاهرة المدروسة وعرض المشاهدات سواء كانت كمية أو كيفية ومعالجتها لتكون قابلة للدراسة والتحليل، فهو إذا يعتمد على المعطيات العددية، أما الإحصاء الاستدلالي والذي يمثل الجزء الأكبر من علم الإحصاء الحديث ولوجود معطيات غير عددية فيعتمد على مجموعة النظريات والمفاهيم في مجال الرياضيات والقوانين الاحتمالية وهذا لوضع أسس وفرضيات يهدف من خلالها بناء وتحديد نماذج رياضية وتقديرها، حيث تدرس العلاقات واتجاهاتها (طردية أو عكسية) بين مختلف الظواهر ومدى ارتباطها ببعضها البعض أو التنبؤ القيم ظاهرة ما مستقبلاً، وبهذا يعتبر الإحصاء الاستدلالي الأساس في اتخاذ القرارات المناسبة لرسم الخطط والسياسات المختلفة للمجتمع محل الدراسة. إن من أهم أهداف علم الإحصاء هو استقراء النتائج واتخاذ القرارات السليمة والموثوقة، فمن خلال تطبيق أدوات الإحصاء وبناء على المعطيات التي تمثل الواقع المدروس وهذا في أي مجال، يمكن البحث ودراسة العلاقات بين أهم المتغيرات وحساب تأثيراتها، وانطلاقاً من نتائج التحليل الإحصائي يمكن فهم الظاهرة المدروسة ومعرفة أهم العوامل المرتبطة بها أو المؤثرة فيها ويساعد هذا في اتخاذ القرار المناسب ورسم السياسات الملائمة مستقبلاً، ففي المجال الاقتصادي وعلى المستوى الكلي عند دراسة ظاهرة الاستهلاك الخاص بقطاع العائلات الجزائرية مثلاً وباستعمال طرق القياس الاقتصادي (Econometric) وبناء على المعطيات الممثلة لواقع الأسر الجزائرية يمكن تحديد النموذج الأفضل المفسر لسلوك استهلاك الأسر حيث لوحظ في

هذه الدراسة أن الدخل هو العامل الرئيسي المحدد للاستهلاك الأسر الجزائرية وبالتالي إذا أرادت الدولة أن ترفع من حجم الاستهلاك كاعتبارات اقتصادية منها طبعاً زيادة حجم الطلب على السلع والخدمات حتى ترفع من وتيرة النشاط الاقتصادي فترفع من مستوى الأجور حتى يتحقق ذلك، ولاشك أن هذه السياسة كانت مبنية على الدراسة القياسية لظاهرة الاستهلاك، وعلى المستوى الجزئي إذا أرادت مؤسسة ما التنبؤ بالحجم مبيعاتها حتى تتجنب الخسائر وتحافظ أو تحاول تحسين مستوى أدائها مستقبلاً يستعمل في مجال التنبؤ نماذج السلاسل الزمنية (Time series models) وهذا انطلاقاً من سلسلة المعطيات السابقة الخاصة بقيم حجم المبيعات فتمكن المؤسسة وبمستوى ثقة أكبر من معرفة قيمة الطلب على منتجاتها في الفترة القادمة مما يمكنها من التحكم في مواردها أو البرمجة والتخطيط لمستقبلها عموماً، وهكذا وفي جميع المجالات يلاحظ هنا مدى فاعلية استخدام طرق الإحصاء.

ومن أجل الصياغة المنهجية والعلمية لهذا الكتاب قمنا بتقسيمه إلى ثلاثة فصول، ففي الفصل الأول نضع مدخل للإحصاء الوصفي حيث في البداية نتم بطريقتنا عرض وتنضيد البيانات الإحصائية ثم نقدم أهم مقاييس النزعة المركزية ومقاييس التشتت والشكل، ونتطرق فيما بعد للتوزيعات ذات المتغيرين ضمن الجداول الإحصائية ذات البعدين لنختم هذا الفصل بالأرقام القياسية وخصائصها مدعماً بأمثلة توضيحية. وضمن الفصل الثاني نجد بعض المفاهيم الأساسية المتعلقة بالمجموعات وكيفية تشكيل أجزاء المجموعات وهذا كمدخل لنظرية الاحتمالات، كما أننا نوضح طرق العد أي كيفية تشكيل المجموعات الجزئية وحساب عدد عناصرها ويعتبر هذا ضروري للانتقال لنظرية الاحتمالات والتي نتم من خلالها بشرح مفهوم الاحتمال وخصائصه وعندئذ نتطرق لاحتمال الشرطي ونظرية الاحتمال الكلي، ولقد خصصنا الجزء الأخير من هذا الفصل للمتغيرات العشوائية والتوزيعات الاحتمالية الأكثر استخداماً.

أما بخصوص الفصل الثالث والأخير ضمن هذا الكتاب فإننا نعمل على تلخيص أهم الخطوات الضرورية في عملية نمذجة الظواهر الاقتصادية وتحديد النموذج الملائم والمناسب لبيانات عينة الدراسة، كما أننا نتم باختبار صلاحية نتائج التقدير ومدى توافقها مع الفرضيات الأساسية للنموذج ثم نتطرق لأهم خطوة وهي شرح النتائج اقتصادياً وتقديم تفسير للنتائج ومدى توافقها مع النظرية الاقتصادية ويكون ذلك عن طريق مثال تطبيقي للتوضيح.

الفصل الأول:

مدخل للإحصاء الوصفي

تمهيد

إن كلمة الإحصاء باللغة الإنجليزية هي (Statistics) وهي مشتقة من كلمة (State) وتعني باللغة العربية الدولة أو كلما يتعلق بشؤون الدولة (الحقائق المرتبطة بأموال الدولة من الناحية التنظيمية) أي ارتباط هذا العلم منذ نشأته بالتوصيف الرقمي لأوضاع الاقتصادية والسياسية والسكانية والاجتماعية للدولة، وترجع أصول كلمة (Statistics) على يد العالم الألماني أشن فال (G.Achenwalle) وهذا فيمنتصف القرن الثامن عشر، وظهرت كلمة (Statistics) لأول مرة في الموسوعة البريطانية سنة 1797، وتخطت الدراسات المرتبطة بهذا العلم حدود الدولة لتشمل مختلف المجالات الأخرى، فتطور هذا المفهوم وأصبح متعلق بجميع مجالات المعرفة (الطبيعية، الاجتماعية، الإنسانية، كما توسعت أهداف، هذا العلم لتسعى في فهم وإدراك حقائق ما يعرف بما وراء الأرقام أو ما يعرف كذلك بالتحليل الإحصائي وباللغة الفرنسية كلمة الإحصاء هي (La Statistique) أي علم الإحصاء أما كلمة (Les Statistiques) فتعني مجموعة المعلومات أو المعطيات أو البيانات. يعرف علم الإحصاء (The statistics) على أنه مجموعة الأدوات العلمية والطرق الرياضية التي تهتم بجمع وترتيب وتنظيم المعطيات المعلومات حول ظاهرة معينة سواء كانت هذه الظاهرة اجتماعية أو اقتصادية أو طبيعية وذلك في جداول إحصائية ثم تمثيلها في أشكال بيانية مناسبة، كما يحسب في هذا المجال بعض المقاييس العددية تساعد على تحليل وتفسير الظاهرة المدروسة وبالتالي أخذ الصورة أو الفكرة العامة حولها، والهدف هنا يكمن أساسا في اتخاذ قرارا سليما ومناسبا في المجال المدروس.

I. عرض البيانات الإحصائية

1. بعض المفاهيم الإحصائية

1.1 الوحدة الإحصائية (Statistical unit): هي الوحدة الأساسية لتكوين المجتمع الإحصائي.

2.1 المجتمع الإحصائي (The statistical population): هو مجموعة الوحدات الإحصائية التي من خلالها يقوم الباحث بدراساتها.

3.1 العينة (Sample): هي جزء من المجتمع الإحصائي والذي يمثل المجتمع أحسن تمثيل، وهي مجموعة جزئية من البيانات أو القيم الخاصة بالظاهرة المدروسة، حيث يختلف حجم العينة حسب أهمية الدراسة وحسب الإمكانيات المادية والبشرية المتاحة، وأسلوب العينة متبع في أغلب الدراسات الميدانية، وهذا لعدم إمكانية جمع المعلومات الإحصائية من كل الوحدات التي تشكل المجتمع المدروس أو ما يسمى بالحصص الشامل (المسح الشامل). هنالك عدة أنواع من العينات وهي:

أ. العينة العشوائية (Random sample)

وهي أكثر العينات استعمالاً وهي جزء لا على تعيين من المجتمع المدروس، حيث يتم اختيار عناصرها بطريقة عشوائية، مع إعطاء فرص متكافئة (نفس الاحتمال) لجميع مفردات المجتمع عند السحب، كما أن طريقة الاختيار تتم وفق قواعد وأسس معروفة، ولاختيار هذا النوع من العينات تتبع الخطوات التالية: .

- ترتب عناصر المجتمع ترتيباً عشوائياً، حيث نعطي لكل عنصر من عناصر المجتمع رقماً متسلسلاً من 0 إلى N، فإذا كان حجم المجتمع 1000، نعطي لكل عنصر الأرقام التسلسلية التالية، 0001، 0002،، 1000.
- نستعمل جدول الأرقام العشوائية، ثم نقرأ من هذا الجدول عمودياً، حيث نختار الأعداد المكونة من 4 أرقام نقبل الأعداد المذكورة في الأرقام التسلسلية، ونرفض العدد غير المذكور في الأرقام التسلسلية، كما نرفض العدد الذي أخذنا في القراءة السابقة، وتنتهي عملية الاختيار عند حجم العينة المطلوب. إن أسلوب اختيار العينة العشوائية قد يكون سحبا بالإرجاع (إمكانية اختيار عنصراً اختير في المرة السابقة)، أو قد يكون سحبا بدون إرجاع (نرفض العدد الذي اختير في القراءة السابقة). العينة العشوائية المجتمعات المتجانسة أي التي لها خصائص متشابهة أو متقاربة.

- نختار ولاية من ولايات الوطن، نختار دائرة من دوائر الولاية المختارة، نختار ثانوية من ثانويات الدائرة، نختار قسم من أقسام الثانوية، ثم تجرى الدراسة على القسم المختار من الثانوية.

ب. العينة العنقودية (Cluster sample)

لقد أشرنا سابقاً أنه يتعذر على أغلب الدراسات الميدانية اللجوء إلى طريقة المسح الشامل نظراً للظروف المرتبطة بعوامل الزمن والجهد والتكاليف (مستوى الإمكانيات المادية والبشرية المتوفرة)، لهذا يلجأ الباحثون في بعض الدراسات إلى أسلوب العينة العنقودية، ولاختيار هذا النوع من العينات نقوم في البداية بتقسيم المجتمع إلى مجموعات جزئية، يسمى كل جزء منها عنقوداً، ثم نختار من كل عنقود عينة عشوائية، والعينة المتحصل عليها ككل هي عينة

عنقودية. فمثلا عند دراسة السلوك الاستهلاكي للعائلات تجاه منتج معين في منطقة ما (محافظة أو ولاية)، ولاختيار عينة مكونة من مجموعة من العائلات نحدد دوائر الولاية، ثم نحدد بلديات الدوائر، بعدها نسجل أحياء كل بلدية، فتصبح كل (دائرة- بلدية-حي) عنقودا، وفي المرحلة الأخيرة نختار من كل حي مجموعة من الأسر وبالتالي تغطي عينة العائلات التي ستجرى عليها الدراسة تراب الولاية أو المحافظة.

ت. العينة المعيارية (Standard sample)

يسعى الباحثون عند تحديد عينة الدراسة أن تكون هذه العينة ممثلة للمجتمع أحسن تمثيل (تمثيلا صادقا)، والتمثيل الصادق إحصائيا هو أن تتقارب المقاييس الإحصائية (الوسط والانحراف المعياري) للعينة مع المقاييس ذاتها للمجتمع، ويسمى هذا النوع من العينات بالعينة المعيارية.

2. أنواع الصفات أو المتغيرات (الخصائص)

1.2 الصفة الكيفية النوعية (Qualitative variable): هي تلك المتغيرات التي لا يمكن قياسها أو غير قابلة للقياس، مثلا: الجنسية، اللون، المستوى التعليمي، .. إلخ.

2.2 الصفة الكمية (Quantitative variable): هي تلك الخصائص التي يمكن قياسها وهي أكثر استعمالا وانتشارا، مثلا: الطول، الوزن، المساحة، .. إلخ.

3. الجداول الإحصائية (Statistical tables)

1.3 تكوين الجدول الإحصائي

إذا كان لدينا مجتمع إحصائي مكون من N وحدة إحصائية، حيث يدرس هذا المجتمع من عدة صفات أو متغيرات (كمية أو كيفية) فيمكن تمثيل هذه المعطيات أو المعلومات في جدول مكون من أعمدة وأسطر وهذا حسب عدد المتغيرات وعدد الوحدات الإحصائية التي تحمل الصفة.

ملاحظة:

في الجدول الإحصائي دائما يمثل العمود الأول المتغير المدروس.

مثال: توزيع سكنات حي 100 سكن حسب عدد الغرف.

| المتغير X_i : (عدد الغرف) | التكرار المطلق n_i (عدد السكنات) | التكرار النسبي f_i | التكرار المتجمع الصاعد $F \uparrow$ | التكرار المتجمع النازل $F \downarrow$ |
|--------------------------------|---------------------------------------|-------------------------|--|--|
| 02 | 25 | 0.25 | 25 | 100 |
| 03 | 30 | 0.30 | 55 | 75 |
| 04 | 30 | 0.30 | 85 | 45 |
| 05 | 15 | 0.15 | 100 | 15 |
| المجموع | 100 | 01 | - | - |

من خلال الجدول الإحصائي السابق نلاحظ أن:

- أن نسبة السكنات التي لها 3 غرف هي 25 بالمائة.
- أن نسبة السكنات التي لها 4 غرف هي 30 بالمائة.
- أن نسبة السكنات التي لها 3 غرف على الأكثر هي 55 بالمائة (أنظر التكرار المتجمع الصاعد).
- أن نسبة السكنات التي لها 4 غرف على الأكثر هي 85 بالمائة (أنظر التكرار المتجمع الصاعد).
- أن نسبة السكنات التي لها 3 غرف على الأقل هي 75 بالمائة (أنظر التكرار المتجمع النازل).
- أن نسبة السكنات التي لها 4 غرف على الأقل هي 45 بالمائة (أنظر التكرار المتجمع النازل).

2.3 شروط تكوين الجدول الإحصائي

إن شروط تكوين الجدول الإحصائي هي كالتالي:

- عنوان واضح في أعلى الجدول يعطي فكرة واضحة عن البيانات التي يحتويها هذا الجدول؛
- ذكر وتحديد عنوان لكل عمود، مع ترتيب المعطيات ترتيباً تصاعدياً أو تنازلياً (من الأفضل تصاعدياً)؛
- ذكر وحدة القياس المستعملة؛
- ذكر مصدر البيانات في أسفل الجدول حتى يتمكن القارئ من الرجوع إلى المصدر الأصلي للمعلومة؛
- وضع رقم الجدول (حالة وجود عدة جداول في دراسة ما).

3.3 طريقة (Sturge) لتحديد طول الفئات

في حالة الصفة الكمية المستمرة فإن أغلب الدراسات في هذه الحالة تتطلب وضع مجالات أو فئات (Classes) وهذا بسبب وجود عدد كبير من القيم للمتغير الإحصائي X ، حيث يحدد عدد الفئات وطولها حسب حجم العينة المأخوذة من المجتمع الإحصائي، فهناك طريقة تجريبية لتحديد طول الفئة وضعها العالم الإحصائي (Sturge)، حيث:

$$a = \frac{E}{1 + 3.33 \times \text{Log}(N)} \quad \text{أو} \quad a = \frac{E}{1 + 3.33 \times \text{Ln}(N)}$$

a : هو طول الفئة

E : هو المدى العام وهو الفرق بين الحد الأقصى والحد الأدنى لقيم المتغير الإحصائي ($X_{\max} - X_{\min}$)

مثال

ليكن لدينا توزيع الأجر الساعي (الوحدة 10 دج) لعمال شركة النسيج كالتالي:

16 20 12 17 20 18 15 12 22 25 19 13 15 18 16 15 14 13 12 11 10 12 23 12 18 18 14
15 20 17 16 13 28 20 15 12 13 14 11 15 14 17 13 21 20 18 27 18 10 23

المطلوب: ترتيب هذه المعطيات في جدول إحصائي و ذلك باستعمال طريقة (Sturge) في تحديد أطوال الفئات.

$$a = \frac{28-10}{1+3.33 \times \ln(50)} \quad \text{يكون} \quad a = \frac{E}{1+3.33 \times \ln(50)}$$

ومنه: $3 \approx 2.7 = a$ وهو طول الفئة، وفي الجدول التالي وفي الفئة الأولى نبدأ بأقل قيمة وهي 10.

| الأجور X_i | التكرار المطلق عدد العمال n_i |
|--------------|---------------------------------|
| 13-10 | 10 |
| 16-13 | 15 |
| 19-16 | 12 |
| 22-19 | 07 |
| 25-22 | 03 |
| 28--25 | 03 |
| المجموع | 50 |

4. التمثيل البياني (Graphic representation)

يساعد ويسمح التمثيل البياني بعرض المشاهدات أو المعطيات بطرق مختصرة وسهلة (أشكال ورسوم) تعكس تطور الظاهرة المدروسة في الزمان والمكان، حيث تساعد القارئ في أخذ صورة أو فكرة عامة عن الظاهرة المدروسة، كما تساعده على التحليل والفهم.

1.4 التمثيل البياني في حالة الصفة الكيفية

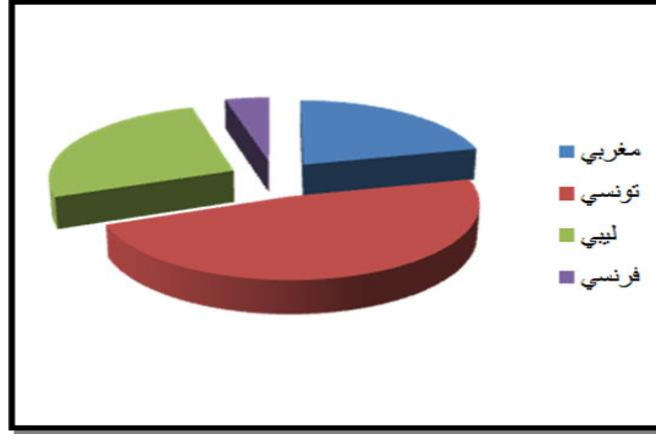
أ. طريقة الدائرة (Circular diagram)

هي عبارة عن دائرة مقسمة إلى عدة أجزاء يمثل كل جزء منها خاصية من الخصائص المدروسة، ونستعمل هنا قياس الزاوية، حيث: $\alpha_i = 360^0 \times f_i$

مثال

يمثل الجدول التالي توزيع الأجانب في الجزائر العاصمة حسب الجنسية (المجتمع الإحصائي هو الأجانب، الوحدة الإحصائية: أجنبي، المتغير: الجنسية، طبيعته: كيفي).

| الجنسية | التكرار المطلق: عدد الأجانب n_i | التكرار النسبي f_i | قيس الزاوية α_i |
|---------|-----------------------------------|----------------------|------------------------|
| مغربي | 200 | 0.2 | 72 |
| تونسي | 450 | 0.45 | 162 |
| ليبي | 250 | 0.25 | 90 |
| فرنسي | 40 | 0.04 | 14.4 |
| إيطالي | 60 | 0.06 | 21.6 |
| المجموع | 1000 | 01 | 360 |



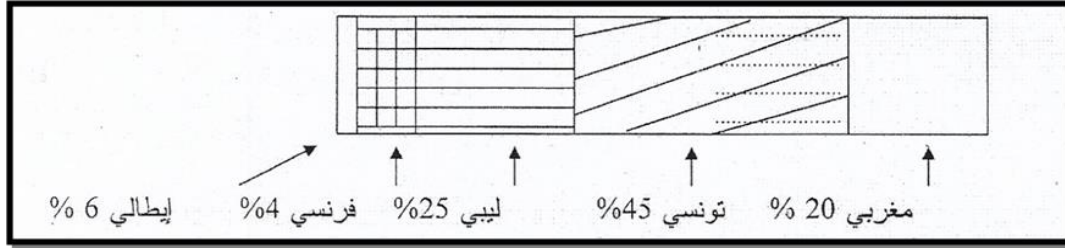
ملاحظة:

نستعمل نفس الطريقة إذا أَرانا رسم نصف الدائرة (Semicircular diagram) وإنما قيس

$$\alpha_i = 180^0 \times f_i$$

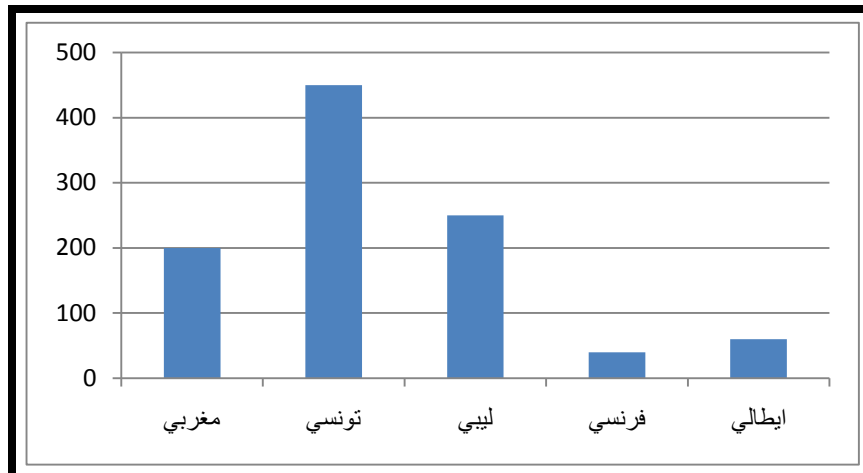
ب. طريقة العمود المجرأ (Rectilinear diagram)

وهو عبارة عن عمود مقسم إلى عدة أجزاء، يمثل كل جزء منه خاصية من خصائص المتغير المدروس، وإذا أردنا تمثيل المعطيات المتعلقة بتوزيع الأجانب في الجزائر العاصمة مستعملين هذا النوع من التمثيل البياني يكون لدينا: توزيع الأجانب في الجزائر العاصمة حسب الجنسية



ج. طريقة الأعمدة المستطيلة (Rectangular columns chart)

وهو عبارة عن مستطيلات لها قواعد متساوية ومتباعدة عن بعضها البعض بمسافات متساوية، ويتناسب طولها حسب تكرار كل خاصية من الخصائص المدروسة، وانطلاقاً من المثال السابق (توزيع الأجانب في الجزائر العاصمة حسب الجنسية) يكون لدينا الشكل التالي:



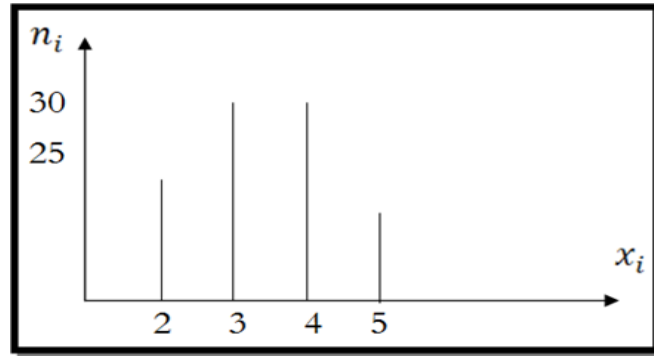
2.4 التمثيل البياني في حالة الصفة الكمية

أ. طريقة الأعمدة البسيطة (Simple columns chart)

في حالة الصفة الكمية المنفصلة (المتقطعة)، يكون التمثيل البياني المناسب طريقة الأعمدة البسيط، وهي عبارة عن خطوط عمودية يتناسب أطوالها حسب كل خاصية أو قيمة من قيم المتغير الإحصائي X_i ، وإذا رجعنا إلى المثال السابق الخاص بتوزيع سكنات حي 100 سكن حسب عدد الغرف.

| المتغير: عدد الغرف X_i | التكرار المطلق: عدد السكنات n_i | التكرار النسبي f_i | التكرار المتجمع الصاعد $f_i \uparrow$ | التكرار المتجمع النازل $f_i \downarrow$ |
|--------------------------|-----------------------------------|----------------------|---------------------------------------|---|
| 2 | 25 | 0.25 | 25 | 100 |
| 3 | 30 | 0.30 | 55 | 75 |
| 4 | 30 | 0.30 | 85 | 45 |
| 5 | 15 | 0.15 | 100 | 15 |
| المجموع | 100 | 1 | - | - |

ويمكن تمثيل التكرار المتجمع الصاعد والنازل في الشكل التالي:



ب. المدرج التكراري (Histogram)

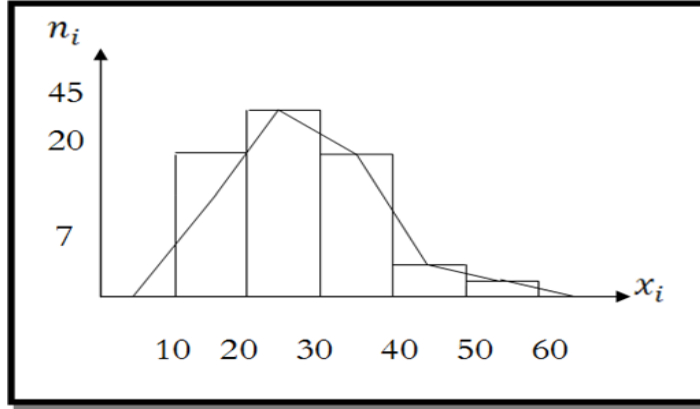
في حالة الصفة الكمية المتصلة (المستمرة)، نعلم أن المتغير الإحصائي يأخذ قيما عديدة وتكون المشاهدات في شكل فئات (مجالات) وعلى هذا الأساس يكون التمثيل البياني المناسب المدرج التكراري، وهو عبارة عن تمثيل كل فئة من فئات التوزيع التكراري بمستطيل حدود قاعدته هي الحدود الفعلية لتلك الفئة وارتفاعه يتناسب مع تكرارها.

مثال

يمثل الجدول التالي توزيع عمال شركة النسيج حسب الأجر (الوحدة 10^3 دج):

| الأجر X_i | التكرار: عدد العمال n_i |
|-------------|---------------------------|
| 20-10 | 20 |
| 30-20 | 45 |
| 40-30 | 25 |
| 50-40 | 07 |
| 60-50 | 03 |
| المجموع | 100 |

توزيع عمال شركة النسيج حسب الأجر ومن خلال هذا التمثيل البياني أيضا يمكن رسم المضلع التكراري، ونحصل عليه بإيصال منتصفات الأضلاع العلوية للمدرج التكراري مع افتراض فئتين الأولى من 0 إلى 10 والثانية من 60 إلى 70 وتكرارهما يساوي الصفر.



من خلال الشكل أعلاه نلاحظ أن مساحة المضلع التكراري هي نفسها مساحة المدرج التكراري.

II. مقاييس النزعة المركزية (Measures of central tendency and position)

تمهيد

لقد رأينا في النقطة الأولى كيف يمكن ترتيب المعطيات في جداول إحصائية مع تمثيلها في أشكال بيانية مناسبة، وهي خطوة مهمة في أخذ فكرة أو صورة عامة حول تطور قيم الظاهرة المدروسة، لكن من أجل التحليل الدقيق والسريع للظاهرة المدروسة هناك خطوة أخرى مهمة تتمثل في حساب بعض المقاييس العددية تسمى بمقاييس النزعة المركزية (أو المتوسط أو المعدلات)، حيث تصف هذه المقاييس البيانات الخاصة بالمتغير المدروس من خلال الدلالة على ميل البيانات للتجمع حول قيمة مركزية معينة.

حيث سميت بالنزعة المركزية لأن جميع قيم المتغير الإحصائي x_i أو المشاهدات تميل وتنزع نحو قيمة معينة تسمى بالقيمة المركزية، هذه القيمة المركزية تمثل المجتمع أو العينة المدروسة، وقد تكون هذه القيمة المركزية الوسط الحسابي، أو المنوال أو الوسيط، ولحساب مقاييس النزعة المركزية لابد من توفر الشروط التالية أو ما تسمى كذلك بشروط يول (YUL):

- يجب أن يكون المتوسط معرفاً تعريفاً دقيقاً؛
- يجب أن يحسب أو يبني من جميع المشاهدات؛
- يجب أن يكون من السهل فهمه وتفسيره؛
- يمكن حسابه بطريقة سهلة وسريعة؛
- يخضع للعمليات الجبرية بسهولة؛
- لا يتأثر كثيراً بالقيم المتطرفة أو الشاذة؛
- لا يتأثر كثيراً باختلاف العينات من المجتمع الواحد. والمتوسطات هي: المتوسط الحسابي، المتوسط الهندسي، المتوسط الترتيبي، المتوسط التوافقي، الوسيط، المنوال.

1. الوسط أو المتوسط الحسابي (The arithmetic mean or Average)

إذا كان لدينا مجموعة من المشاهدات : $x_1, x_2, x_3, \dots, x_k$ فإن متوسطها الحسابي يعرف بالعلاقة التالية:

$$\bar{X} = \frac{\sum_{i=1}^k x_i}{k}$$

وإذا كانت المشاهدات مرتبة في جدول إحصائي وبوجود التكرارات تصبح علاقة المتوسط الحسابي كالتالي:

$$\bar{X} = \sum_{i=1}^k f_i \times x_i \quad \text{أو} \quad \bar{X} = \frac{\sum_{i=1}^k n_i \times x_i}{N} \quad \wedge \quad N = \sum_{i=1}^k n_i$$

أما إذا كانت المشاهدات في شكل فئات يعبر C_i عن مركز الفئة.

مثال

يمثل الجدول التالي أجور عمال مؤسسة للهاتف النقال والموضح كآآتي:

الوحدة: 10^3 دج

| $f_i \times C_i$ | | مركز الفئة C_i | التكرار النسبي | عدد العمال (التكرار) n_i | الأجور X_i |
|------------------|------|------------------|----------------|----------------------------|--------------|
| 3 | 300 | 15 | 0.2 | 200 | 20-10 |
| 8.75 | 875 | 25 | 0.35 | 350 | 30-20 |
| 14 | 1400 | 35 | 0.4 | 400 | 40-30 |
| 13.5 | 1350 | 45 | 0.3 | 30 | 50-40 |
| 11 | 1100 | 55 | 0.2 | 20 | 60-50 |
| 50.25 | 5025 | -- | 1 | 1000 | المجموع |

وباستعمال علاقة المتوسط الحسابي يصبح لدينا :

$$\bar{X} = \sum_{i=1}^k f_i \times C_i = 50.25 \quad \text{أو مباشرة وباستعمال العلاقة الثانية نحصل على}$$

ملاحظة:

إذا كان لدينا المتغير الإحصائي الممرکز y_i وهو عبارة عن: $y_i = x_i - \bar{X}$ فإن متوسطه معدوم: $\bar{Y} = 0$

البرهان

$$\bar{Y} = \frac{\sum_{i=1}^k n_i y_i}{N} = \frac{\sum_{i=1}^k n_i (x_i - \bar{X})}{N} = \frac{\sum_{i=1}^k n_i x_i}{N} - \frac{\bar{X} \times \sum_{i=1}^k n_i}{N} = \bar{X} - \bar{X} = 0$$

■ خصائص المتوسط الحسابي

أ. إذا كان لدينا عدد ثابت و \bar{X} هو المتوسط الحسابي للملاحظات:، وكان لدينا المتغير y_i حيث:
فإن: $y_i = a \times x_i$ ، $\bar{Y} = a \times \bar{X}$.

البرهان

$$\bar{Y} = \frac{\sum_{i=1}^k n_i \times y_i}{N} = \frac{\sum_{i=1}^k n_i \times (a \times x_i)}{N} = \frac{a \times \sum_{i=1}^k n_i \times x_i}{N} = a \times \bar{X}$$

ب. إذا كان لدينا عدد ثابت و هو المتوسط الحسابي للملاحظات:، وكان لدينا المتغير y_i حيث: $y_i = b + x_i$
فإن: $\bar{Y} = b + \bar{X}$.

البرهان

$$\bar{Y} = \frac{\sum_{i=1}^k n_i \times y_i}{N} = \frac{\sum_{i=1}^k n_i \times (b + x_i)}{N} = \frac{\sum_{i=1}^k n_i \times b + \sum_{i=1}^k n_i \times x_i}{N} = b + \bar{X}$$

يمكن جمع الخاصيتين في خاصية واحدة: إذا كان لدينا a وعددين ثابتين و هو المتوسط الحسابي للملاحظات:، وكان لدينا المتغير حيث: $y_i = b + a \times x_i$ فإن:

$$\bar{Y} = b + a \times \bar{X}$$

ت. إذا كان لدينا عينتين حيث: متوسط العينة الأولى هو وحجمها هو والعينة الثانية متوسطها وحجمها هو ،
فيمكن دمج العينتين وتصبح عينة ذات حجم: ويصبح متوسطها الحسابي:

$$\bar{X} = (n_1 \times \bar{X}_1 + n_2 \times \bar{X}_2) / (n_1 + n_2)$$

2. المتوسط الهندسي (Geometric mean)

إذا كان لدينا مجموعة من المشاهدات التالية : فإن متوسطها الهندسي يعرف بالعلاقة

$$G = \bar{X}_G = \sqrt[k]{x_1 \times x_2 \times x_3 \times \dots \times x_k} = (x_1 \times x_2 \times x_3 \times \dots \times x_k)^{1/k}$$

وإذا كانت المشاهدات مرتبة في جدول إحصائي وبوجود التكرارات تصبح علاقة المتوسط الهندسي كالتالي:

$$G = \bar{X}_G = \sqrt[N]{x_1^{n_1} \times x_2^{n_2} \times x_3^{n_3} \times \dots \times x_k^{n_k}} \quad \wedge \quad N = \sum_{i=1}^k n_i$$

من خلال علاقة المتوسط الهندسي نجد مايلي:

$$G = \bar{X}_G = \sqrt[N]{x_1^{n_1} \times x_2^{n_2} \times \dots \times x_k^{n_k}} \Rightarrow \ln(G) = \frac{\ln(x_1^{n_1} \times x_2^{n_2} \times \dots \times x_k^{n_k})}{N}$$

$$\ln(G) = \frac{n_1 \times \ln(x_1) + n_2 \times \ln(x_2) + \dots + n_k \times \ln(x_k)}{N}$$

$$\ln(G) = \frac{\sum_{i=1}^k n_i \times \ln(x_i)}{N} = \sum_{i=1}^k f_i \times \ln(x_i)$$

$$G = \text{EXP} \left\{ \sum_{i=1}^k f_i \times \ln(x_i) \right\} \text{ يكون كذلك:}$$

مثال

عرف بلد ما معدلات نمو اقتصادي خلال الفترة 1998-2018 وهي كالتالي: 2.2 1.1 1.5 1.3 3 2.3 2
2.1 3.1 1.3 2.2 1.1 1.2 2.3 1.1 3 1.3 1.1 2.3 1.3 2.3 1.3
المطلوب: ماهو متوسط هذه المعدلات خلال الفترة 1998-2018؟

بعد ترتيب هذه المعطيات يكون لدينا الجدول التالي:

| معدل النمو X_i | 1.1 | 1.2 | 1.3 | 1.5 | 2 | 2.1 | 2.2 | 2.3 | 3 | 3.1 | المجموع |
|------------------|-----|-----|-----|-----|---|-----|-----|-----|---|-----|---------|
| n_i التكرار | 4 | 1 | 5 | 1 | 1 | 1 | 3 | 3 | 2 | 1 | 22 |

باستعمال علاقة المتوسط الهندسي يكون لدينا:

$$G = \bar{X}_G = \sqrt[N]{x_1^{n_1} \times x_2^{n_2} \times \dots \times x_k^{n_k}} = \sqrt[22]{1.1^4 \times 1.2^1 \times \dots \times 3.1^1} = 1.17$$

ومنه فمتوسط هذه المعدلات خلال هذه الفترة هو 1.17

ملاحظة:

إن مجالات تطبيق المتوسط الهندسي تعتبر قليلة مقارنة مع المتوسط الحسابي، حيث يستعمل في حساب متوسط (معدلات الفائدة، معدلات النمو...)، كما يستعمل في حساب بعض الأرقام القياسية حيث يعتبر من أحسن المتوسطات في هذا المجال لأنه يحقق كل الخصائص الرياضية للأرقام القياسية.

3. المتوسط التوافقي (The Harmonic mean)

إذا كان لدينا مجموعة من المشاهدات التالية: فإن متوسطها التوافقي يعرف بالعلاقة التالية:

$$H = \bar{X}_H = \frac{k}{\sum_{i=1}^k x_i}$$

وإذا كانت المشاهدات مرتبة في جدول إحصائي وبوجود التكرارات تصبح علاقة المتوسط التوافقي كالتالي:

$$H = \bar{X}_H = \frac{N}{\sum_{i=1}^k \frac{n_i}{x_i}} \wedge N = \sum_{i=1}^k n_i$$

ملاحظة:

من خلال العلاقات السابقة فإن المتوسط التوافقي هو مقلوب المتوسط الحسابي لمقلوب قيم المتغير الإحصائي X_i .

إن مجالات تطبيق المتوسط التوافقي تعتبر أيضا قليلة مقارنة مع المتوسط الحسابي، حيث يستعمل في حساب متوسط السرعات. فمثلا إذا كان:

| $\frac{n_i}{X_i}$ | التكرار | السرعة X_i |
|-------------------|---------|--------------|
| 0.02 | 1 | 50 |
| 0.033 | 2 | 60 |
| 0.028 | 2 | 70 |
| 0.81 | 5 | المجموع |

وباستعمال علاقة المتوسط التوافقي:

$$H = \bar{X}_H = \frac{5}{\frac{1}{50} + \frac{2}{60} + \frac{2}{70}} = 61.72$$

ومنه فمتوسط هذه السرعات خلال فترة الرحلة هو 61.72 كلم/سا

4. المتوسط التربيعي (The Quadric mean)

إذا كان لدينا المشاهدات التالية: فإن متوسطها التربيعي يعرف بالعلاقة التالية:

$$Q = \bar{X}_Q = \sqrt{\frac{\sum_{i=1}^k x_i^2}{k}}$$

وإذا كانت المشاهدات مرتبة في جدول إحصائي وبوجود التكرارات تصبح علاقة المتوسط الهندسي كالتالي:

$$Q = \bar{X}_Q = \sqrt{\frac{\sum_{i=1}^k n_i \times x_i^2}{N}} \quad \wedge \quad N = \sum_{i=1}^k n_i$$

ومن خلال العلاقات السابقة فالمتوسط التربيعي هو جذر المتوسط الحسابي لمربعات قيم المتغير الإحصائي X_i .

ملاحظة:

عند حساب جميع المتوسطات السابقة لأي سلسلة إحصائية فإنه يكون لدينا العلاقة التالية وهي مرهنة تجريبيا:

$$H < G < \bar{X} < Q$$

5. الوسيط (The median)

يعرف الوسيط بأنه قيمة المتغير الإحصائي التي تقسم المجتمع الإحصائي إلى قسمين متساويين، بشرط أن تكون قيم المشاهدات مرتبة ترتيبا تصاعديا أو تنازليا، أي أن 50 بالمائة من المشاهدات أقل منه و50 بالمائة الأخرى أقل منه.

1.5 الوسيط حالة البيانات غير المبوبة

أ. حالة عدد المشاهدات فردي

إذا كانت لدينا المشاهدات التالية والتي تمثل نقاط طلبة الفوج 5 وهي مرتبة ترتيبا تصاعديا: 5 5 6 7 7 8 8 9 11 12 12 13 13 14 16 16 17 18، وباعتبار أن الوسيط يقسم المجتمع الإحصائي إلى

قسمين متساويين، فإن الوسيط هو 12، أي، فرتبة الوسيط عندما يكون عدد المشاهدات فردية هيوفي مثالنا نجد: أي رتبته العاشرة فنجد 9مشاهدات أقل منه و9 مشاهدات أكبر منه.

ب. حالة عدد المشاهدات زوجي

إذا كانت لدينا هذه المرة 20 مشاهدة: 5 6 7 7 8 8 9 11 12 12 13 13 14 15 16 16 17 17
 باعتبار أن الوسيط يقسم المجتمع الإحصائي إلى قسمين متساويين فإن الوسيط هذه الحالة هو المتوسط الحسابي للعددين الأوسطين ، هما 11 و12 أي فالوسيط عندما يكون عدد المشاهدات زوجيا هو المتوسط الحسابي لصاحب الرتبة $n/2$ وصاحب الرتبة $(n/2)+1$ ، أي المتوسط الحسابي لصاحب الرتبة 10 وصاحب الرتبة 11(لأن عدد المشاهدات $n=20$).

2.5 الوسيط حالة البيانات المبوبة

في حالة البيانات المبوبة أي وجود المعطيات في شكل فئات، نستعمل لحساب الوسيط العلاقة الرياضية التالية:

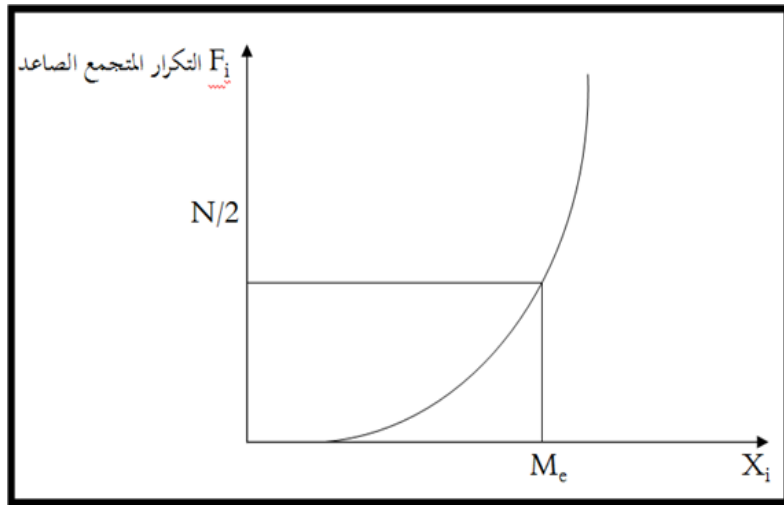
$$M_e = e_{i-1} + a_i \times \left(\frac{N/2 - F_{i-1}}{n_i} \right)$$

حيث أن: e_{i-1} يمثل الحد الأدنى للفئة الوسيطة، طول الفئة الوسيطة، حجم العينة أو مجموع التكرارات، التكرار المتجمع الصاعد الذي يسبق التكرار المتجمع الصاعد المقابل للفئة الوسيطة و: تكرار الفئة الوسيطة. وقبل تطبيق هذه العلاقة يجب أن نحدد مايلي:

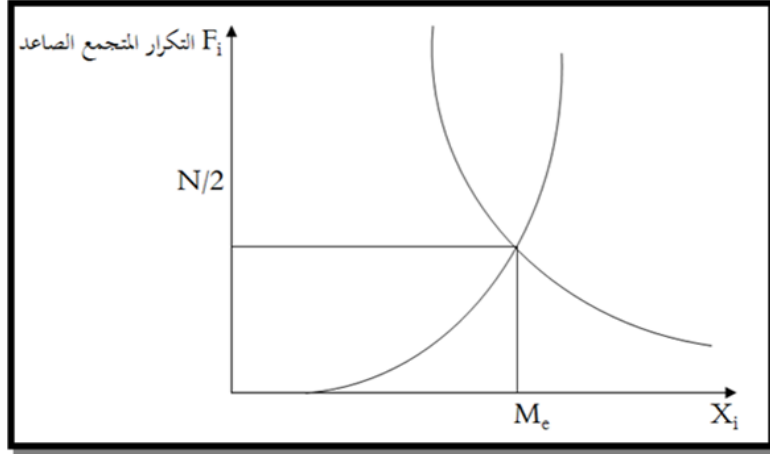
- تحديد التكرار المتجمع الصاعد؛
- تحديد الفئة الوسيطة، وهي الفئة التي تقابل $N/2$ في التكرار المتجمع الصاعد أو أكبر منه مباشرة؛
- حساب الوسيط بالعلاقة السابقة.

ملاحظة:

يحدد الوسيط بيانيا انطلاقا من الرسم البياني الخاص بالتكرار المتجمع الصاعد.



كما أن الوسيط بيانيا هو عندما يتقاطع منحنى التكرار المتجمع الصاعد مع منحنى التكرار المتجمع النازل. يحدد الوسيط بيانيا انطلاقا من الرسم البياني الخاص بالتكرار المتجمع الصاعد.



مثال

وبالرجوع للمثال السابق يمثل الجدول التالي أجور عمال مؤسسة للهاتف النقال والموضح كالاتي:
الوحدة: 10^3 دج

| المتغير: الأجور X_i | التكرار : عدد العمال | التكرار النسبي | التكرار المتجمع الصاعد $F \uparrow$ |
|-----------------------|----------------------|----------------|-------------------------------------|
| 20-10 | 200 | 0.2 | 200 |
| 30-20 | 350 | 0.35 | 550 |
| 40-30 | 400 | 0.4 | 950 |
| 50-40 | 30 | 0.3 | 980 |
| 60-50 | 20 | 0.2 | 1000 |
| المجموع | 1000 | 1 | / |

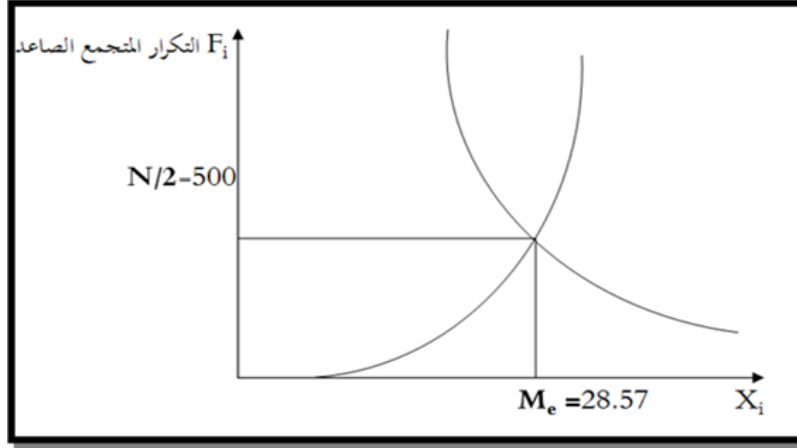
أولا نلاحظ بعد تحديد التكرار المتجمع الصاعد أن الفئة الوسيطة هي الفئة التي تقابل

$$\frac{N}{2} = \frac{1000}{2} = 500$$

لا يوجد العدد 500 في العمود الذي يمثل التكرار المتجمع الصاعد وإنما العدد الذي أكبر منه هو 550، أي أن الفئة الوسيطة هي : 30-20، والآن سنطبق العلاقة الرياضية للوسيط:

$$M_e = e_{i-1} + a_i \times \left(\frac{N/2 - F_{i-1}}{n_i} \right) = 20 + 10 \times \left(\frac{1000/2 - 200}{350} \right) = 28.57$$

ومنه فالوسيط هو: 28570 دج، ومنه نقول أن 50 بالمائة من العمال يتقاضون أجرا أعلى من 28570 دج، و50 بالمائة الأخرى يتقاضون أجرا أقل منه. وبيانيا نلاحظ:



ملاحظة:

إذا استعملنا التكرار المتجمع الصاعد النسبي تصبح علاقة الوسيط كما يلي:

$$M_e = e_{i-1} + a_i \times \left(\frac{0.5 - F_{i-1}}{f_i} \right)$$

حيث: f_i هي التكرار النسبي للفئة الوسيطة.

6. الربعيات (Quartiles)

1.6 الربع الأول Q_1

يعرف الربع الأول بقيمة المتغير الإحصائي التي تقسم المجتمع الإحصائي إلى قسمين، يتضمن القسم الأول 25 بالمائة من المشاهدات، أما القسم الثاني فيتضمن طبعاً 75 بالمائة من المشاهدات.

أ. الربع الأول في حالة البيانات غير المبوبة

قبل تحديد الربع الأول يجب أن تكون البيانات مرتبة ترتيباً تصاعدياً، ولتحديد رتبته نستعمل الطريقة التالية: نحسب ، حيث N هو عدد المشاهدات، فإذا كانت النتيجة عدداً صحيحاً N فالربع الأول رتبته تلك القيمة، أما إذا كانت النتيجة عدداً صحيحاً مضافاً له عدداً عشرياً مثلاً: N'

$$(N+1)/4 = N' + \alpha$$

فالربع الأول هو صاحب المرتبة مضافاً إليه جداء العدد α بالفرق بين صاحب المرتبة وصاحب المرتبة.

مثال (1)

إذا كانت لدينا المشاهدات التالية والتي تمثل نقاط طلبة الفوج 4 في مادة الإحصاء الوصفي وهي مرتبة ترتيباً تصاعدياً كما يلي: 3 3 55 76 7 98 11 12 12 13 13 14 15 16 16 17

لدينا $(N+1)/4 = (19+1)/4 = 5$ إن هذه النتيجة عبارة عن عدداً صحيحاً 5، ومنه الربع الأول هو صاحب المرتبة الخامسة $Q_1 = 6$.

مثال (2)

إذا كانت لدينا المشاهدات التالية وهي مرتبة ترتيبا تصاعديا:

3 3 55 6 7 7 988 11 12 12 1313 14 15 16 16 17

لدينا $(N+1)/4 = (20+1)/4 = 5.25$ إن هذه النتيجة عبارة عن عددا صحيحا مضافا إليه عددا عشريا $\alpha = 0.25$ ، ومنه فالربيع الأول هو صاحب المرتبة الخامسة مضافا إليه العدد 0.25 جداء الفرق بين صاحب المرتبة السادسة وصاحب المرتبة الخامسة، أي :

$$Q_1 = 6 + 0.25 \times (7 - 6) = 6.25$$

ب. الربيع الأول حالة البيانات المبوبة

في حالة البيانات المبوبة أي وجود المعطيات في شكل فئات، نستعمل لحساب الربيع الأول العلاقة الرياضية التالية:

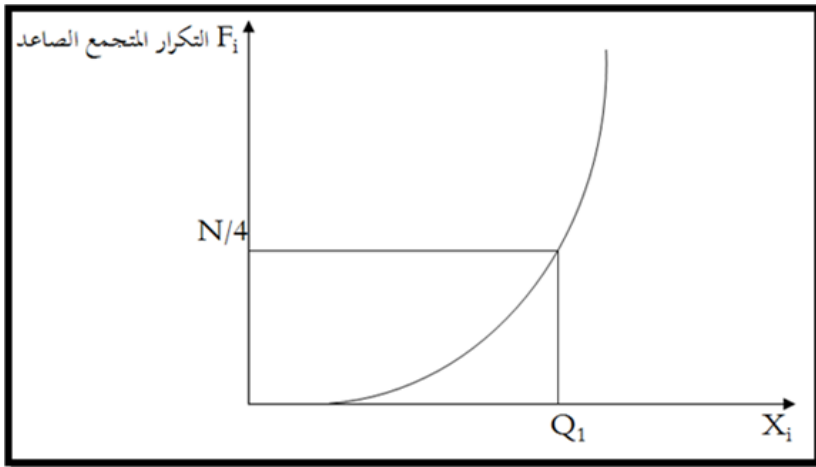
$$Q_1 = e_{i-1} + a_i \times \left(\frac{N/4 - F_{i-1}}{n_i} \right)$$

حيث أن: e_{i-1} يمثل الحد الأدنى لفئة الربيع الأول، طول فئة الربيع الأول، حجم العينة أو مجموع التكرارات، التكرار المتجمع الصاعد الذي يسبق التكرار المتجمع الصاعد المقابل لفئة الربيع الأول و: تكرار فئة الربيع الأول. وقبل تطبيق هذه العلاقة يجب أن نحدد مايلي:

- تحديد التكرار المتجمع الصاعد؛
- تحديد فئة الربيع الأول، وهي الفئة التي تقابل $N/4$ في التكرار المتجمع الصاعد أو أكبر منه مباشرة؛
- حساب الربيع الأول بالعلاقة السابقة.

ملاحظة:

يحدد الربيع الأول بيانيا انطلاقا من الرسم البياني الخاص بالتكرار المتجمع الصاعد.



مثال: من خلال المثال السابق

يمثل الجدول التالي أجور عمال مؤسسة للهاتف النقال والموضح كالاتي:

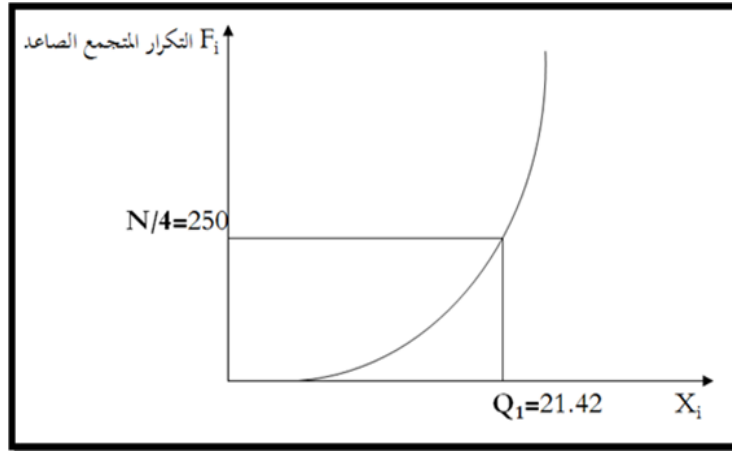
الوحدة: 10^3 دج

| المتغير: الأجور | التكرار: عدد العمال n_i | التكرار النسبي | التكرار المتجمع الصاعد $F \uparrow$ |
|-----------------|---------------------------|----------------|-------------------------------------|
| 20-10 | 200 | 0.2 | 200 |
| 30-20 | 350 | 0.35 | 550 |
| 40-30 | 400 | 0.4 | 950 |
| 50-40 | 30 | 0.3 | 980 |
| 60-50 | 20 | 0.2 | 1000 |
| المجموع | 1000 | 1 | -- |

أولاً نلاحظ بعد تحديد التكرار المتجمع الصاعد أن فئة الربع الأول هي الفئة التي تقابل: $N/4 = 1000/4 = 250$ لا يوجد العدد 250 في العمود الذي يمثل التكرار المتجمع الصاعد وإنما العدد الذي أكبر منه مباشرة هو 550، أي أن فئة الربع الأول هي: 30-20، والآن سنطبق العلاقة الرياضية للربع الأول:

$$Q_1 = e_{i-1} + a_i \times \left(\frac{N/4 - F_{i-1}}{n_i} \right) = 20 + 10 \times \left(\frac{1000/4 - 200}{350} \right) = 21.42$$

ومنه فالربع الأول هو: 21420 دج، ومنه نقول أن 25 بالمائة من العمال يتقاضون أجراً أقل من 21420 دج، و75 بالمائة الأخرى يتقاضون أجراً أكبر منه. وبيانياً نلاحظ:



ملاحظة:

إذا استعملنا التكرار المتجمع الصاعد النسبي تصبح علاقة الربع الأول كمايلي:

$$Q_1 = e_{i-1} + a_i \times \left(\frac{0.25 - F_{i-1}}{f_i} \right)$$

حيث: f_i هي التكرار النسبي لفئة الربع الأول.

2.6 الربع الثالث Q_3

يعرف الربع الثالث بقيمة المتغير الإحصائي التي تقسم المجتمع الإحصائي إلى قسمين، يتضمن القسم الأول 75 بالمائة من المشاهدات، أما القسم الثاني فيتضمن طبعاً 25 بالمائة من المشاهدات.

أ. الربع الثالث حالة البيانات غير المبوبة

قبل تحديد الربع الثالث كما قلنا سابقاً يجب أن تكون البيانات مرتبة ترتيباً تصاعدياً، ولتحديد رتبته نستعمل الطريقة التالية: نحسب، حيث هو عدد المشاهدات، فإذا كانت النتيجة عدداً صحيحاً فالربع الثالث رتبته تلك القيمة، أما إذا كانت النتيجة عدداً صحيحاً مضافاً له عدداً عشرياً مثلاً:

$$3(N+1)/4 = N' + \alpha$$

فالربع الثالث هو صاحب المرتبة مضافاً إليه جداء العدد α بالفرق بين صاحب المرتبة وصاحب المرتبة .

مثال: المثال السابق يتضمن الحالتين الآتيتين

الحالة الأولى

إذا كانت لدينا المشاهدات التالية والتي تمثل نقاط طلبة الفوج 4 في مادة الإحصاء الوصفي وهي مرتبة ترتيباً تصاعدياً: 3 5 5 6 7 7 8 8 9 11 12 12 13 13 13 15 16 16 17
لدينا $3(N+1)/4 = 3(19+1)/4 = 15$ إذا عدداً صحيحاً أي رتبته الخامسة عشر و منه $Q_3 = 13$ ونلاحظ أن 25 % من المشاهدات أقل منه و 75 % من المشاهدات أكبر منه.

الحالة الثانية

إذا كانت لدينا المشاهدات التالية وهي مرتبة ترتيباً تصاعدياً:

$$5 \ 6 \ 7 \ 7 \ 8 \ 8 \ 9 \ 11 \ 12 \ 12 \ 13 \ 14 \ 13 \ 15 \ 16 \ 16 \ 17 \ 5 \ 3 \ 5$$

لدينا $3(N+1)/4 = 3(20+1)/4 = 15.75$ إن هذه النتيجة عبارة عن عدداً صحيحاً مضافاً إليه عدداً عشرياً $\alpha = 0.75$ ، ومنه فالربع الثالث هو صاحب المرتبة الخامسة عشر مضافاً إليه 0.75 جداء الفرق بين صاحب المرتبة السادسة عشر و صاحب المرتبة الخامسة عشر، أي: $Q_3 = 13 + 0.75 \times (14 - 13) = 13.75$

ب. الربع الثالث حالة البيانات المبوبة

في حالة البيانات المبوبة أي وجود المعطيات في شكل فئات، نستعمل لحساب الربع الثالث العلاقة التالية:

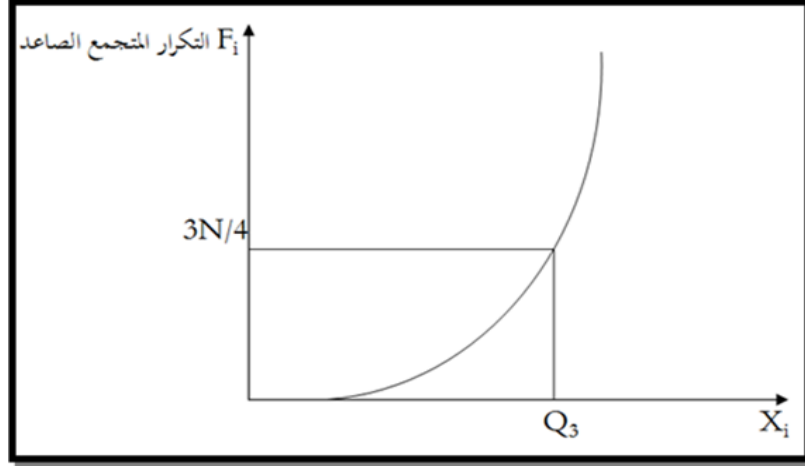
$$Q_3 = e_{i-1} + a_i \times \left(\frac{3N/4 - F_{i-1}}{n_i} \right)$$

حيث أن: e_{i-1} يمثل الحد الأدنى لفئة الربع الثالث، : طول فئة الربع الثالث، : حجم العينة أو مجموع التكرارات، التكرار المتجمع الصاعد الذي يسبق التكرار المتجمع الصاعد المقابل لفئة الربع الثالث و: تكرار فئة الربع الثالث. وقبل تطبيق هذه العلاقة يجب أن نحدد مايلي:

- تحديد التكرار المتجمع الصاعد؛
- تحديد فئة الربع الثالث و هي الفئة التي تقابل $3N/4$ في التكرار المتجمع الصاعد أو أكبر منه مباشرة.

ملاحظة:

يحدد الربيع الثالث بيانياً انطلاقاً من الرسم البياني الخاص بالتردد المتجمع الصاعد.



مثال: (مثال سابق)

يمثل الجدول التالي أجور عمال مؤسسة للهاتف النقال والموضح كالتالي:

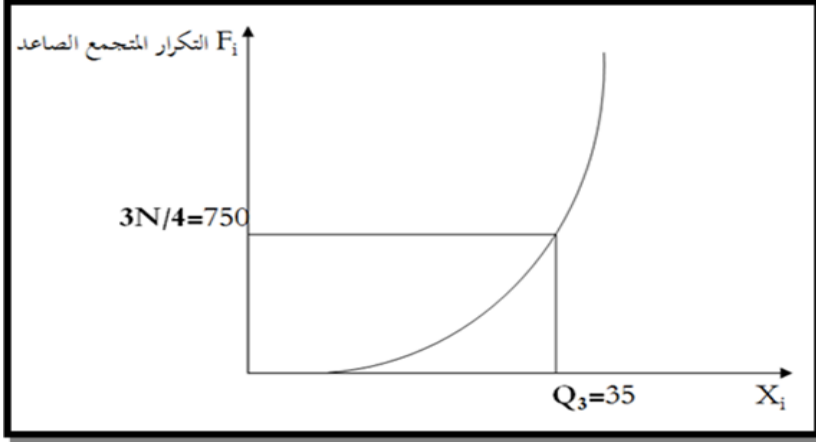
الوحدة: 10^3 دج

| المتغير: الأجر | التكرار: عدد العمال n_i | التكرار النسبي | التكرار المتجمع الصاعد $F \uparrow$ |
|----------------|---------------------------|----------------|-------------------------------------|
| 20-10 | 200 | 0.2 | 200 |
| 30-20 | 350 | 0.35 | 550 |
| 40-30 | 400 | 0.4 | 950 |
| 50-40 | 30 | 0.3 | 980 |
| 60-50 | 20 | 0.2 | 1000 |
| المجموع | 1000 | 1 | -- |

أولاً نلاحظ بعد تحديد التكرار المتجمع الصاعد أن فئة الربيع الثالث هي الفئة التي تقابل $3N/4 = 3(1000)/4 = 750$ لا يوجد العدد 750 في العمود الذي يمثل التكرار المتجمع الصاعد وإنما العدد الذي أكبر منه مباشرة هو 950 أي أن فئة الربيع الثالث هي 40-30 والآن سنطبق العلاقة الرياضية للربيع الثالث:

$$Q_3 = e_{i-1} + a_i \times \left(\frac{3N/4 - F_{i-1}}{n_i} \right) = 30 + 10 \times \left(\frac{3 \times 1000 / 4 - 550}{400} \right) = 35$$

ومنه فالربيع الثالث هو 350000 دج و منه نقول أن 25% من العمال يتقاضون أجر أكبر من 350000 دج و 75% الآخرون يتقاضون أجر أقل منه. وبيانياً نلاحظ:



ملاحظة:

إذا استعملنا التكرار المتجمع الصاعد النسبي تصبح علاقة الربع الثالث كمايلي:

$$Q_3 = e_{i-1} + a_i \times \left(\frac{0.75 - F_{i-1}}{f_i} \right)$$

حيث: هي التكرار النسبي لفئة الربع الثالث.

7. العشيريات (Deciles)

1.7. العشير D₁

يعرف العشير الأول بقيمة المتغير الاحصائي التي تقسم المجتمع الاحصائي إلى قسمين يتضمن القسم الأول 10 بالمائة من المشاهدات أما القسم الثاني فيتضمن طبعاً 90 بالمائة من المشاهدات ويوجد في السلسلة الاحصائية تسع عشيريات D_1, D_2, \dots, D_9 .

في حالة البيانات المبوبة أي وجود المعطيات في شكل فئات، نستعمل لحساب العشير الأول والعلاقة الرياضية التالية:

$$D_1 = e_{i-1} + a_i \times \left(\frac{N/10 - F_{i-1}}{n_i} \right)$$

حيث أن: e_{i-1} يمثل الحد الأدنى لفئة العشير الأول، : طول فئة العشير الأول، : حجم العينة أو مجموع التكرارات، : التكرار المتجمع الصاعد الذي يسبق التكرار المتجمع الصاعد المقابل لفئة العشير الأول و: تكرار فئة العشير الأول. وقبل تطبيق هذه العلاقة يجب أن نحدد مايلي:

- تحديد التكرار المتجمع الصاعد؛
- تحديد فئة العشير الأول، و هي الفئة التي تقابل $N/10$ في التكرار المتجمع الصاعد أو أكبر منه مباشرة؛
- حساب العشير الأول بالعلاقة السابقة.

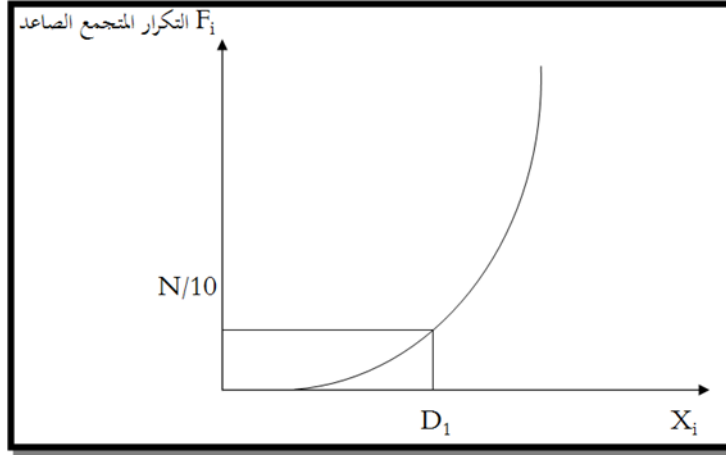
2.7. تعميم: العشير D_i

يمكن تعميم العلاقة السابقة وهذا لحساب أي عشير من العشيريات التسع كمايلي:

$$D_i = e_{i-1} + a_i \times \left(\frac{i \times N/10 - F_{i-1}}{n_i} \right) \wedge i = 1, \dots, 9$$

ملاحظة(1):

يحدد العشير الأول بيانيا انطلاقا من الرسم البياني الخاص بالتركرار المتجمع الصاعد وبيانيا نلاحظ:



ملاحظة(2):

إذا استعملنا التكرار المتجمع الصاعد النسبي تصبح علاقة العشير الأول:

$$D_1 = e_{i-1} + a_i \times \left(\frac{0.10 - F_{i-1}}{f_i} \right)$$

حيث: هي التكرار النسبي لفئة العشير الأول.

مثال: (مثال سابق)

يمثل الجدول التالي أجور عمال مؤسسة للهاتف النقال والموضح كآآتي:

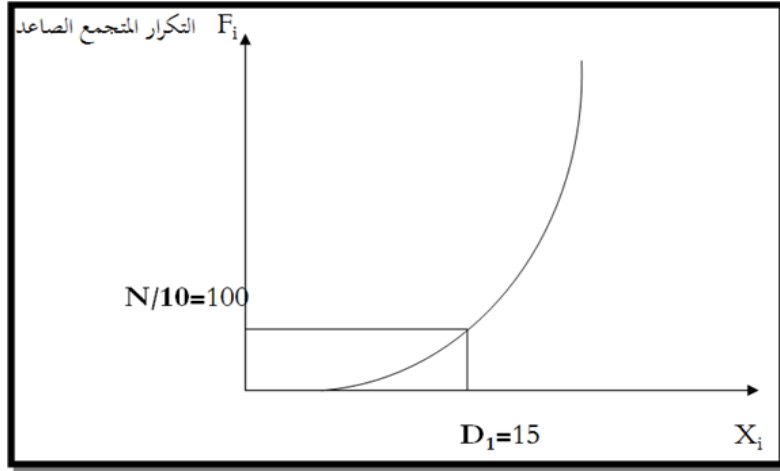
الوحدة: 10^3 دج

| التكرار المتجمع الصاعد $F \uparrow$ | التكرار النسبي | التكرار: عدد العمال n_i | المتغير: الأجور |
|-------------------------------------|----------------|---------------------------|-----------------|
| 200 | 0.2 | 200 | 20-10 |
| 550 | 0.35 | 350 | 30-20 |
| 950 | 0.4 | 400 | 40-30 |
| 980 | 0.3 | 30 | 50-40 |
| 1000 | 0.2 | 20 | 60-50 |
| -- | 1 | 1000 | المجموع |

أولا نلاحظ بعد تحديد التكرار المتجمع الصاعد أن فئة العشير الأول هي الفئة التي تقابل: $N/10=1000/10=100$ لا يوجد العدد 100 في العمود الذي يمثل التكرار المتجمع الصاعد وإنما العدد الذي أكبر منه مباشرة هو 200، أي أن فئة العشير الأول هي 10-20 والآن سنطبق العلاقة الرياضية للعشير الأول:

$$D_1 = e_{i-1} + a_i \times \left(\frac{N/10 - F_{i-1}}{n_i} \right) = 10 + 10 \times \left(\frac{1000/10 - 0}{n_i} \right) = 15$$

ومنه فالعشير الأول هو 15000 دجو منه نقول أن 10% من العمال يتقاضون أجرا أقل من 15000 دجو 75% الأخرى يتقاضون أجر أكبر منه . وبياننا نلاحظ:



8. المئينيات (Percentiles)

1.8 المئيني الأول P_1

يعرف المئيني الأول بقيمة المتغير الإحصائي التي تقسم المجتمع الإحصائي إلى قسمين يتضمن القسم الأول 1% من المشاهدات أما القسم الثاني فيتضمن طبعاً 99% من المشاهدات ويوجد في السلسلة الإحصائية تسع وتسعون مئيني، في حالة البيانات مبوبة أي وجود المعطيات في شكل فئات ، نستعمل لحساب المئيني الأول العلاقة الرياضية التالية:

$$P_1 = e_{i-1} + a_i \times \left(\frac{N/100 - F_{i-1}}{n_i} \right)$$

حيث أن: e_{i-1} يمثل الحد الأدنى لفئة المئيني الأول، : طول فئة المئيني الأول، : حجم العينة أو مجموع التكرارات، التكرار المتجمع الصاعد الذي يسبق التكرار المتجمع الصاعد المقابل لفئة المئيني الأول و: تكرار فئة المئيني الأول. وقبل تطبيق هذه العلاقة يجب أن نحدد مايلي:

- تحديد التكرار المتجمع الصاعد؛
- تحديد فئة المئيني الأول وهي الفئة التي تقابل $N/100$ في التكرار المتجمع الصاعد أو أكبر منه مباشرة؛
- حساب المئيني الأول بالعلاقة السابقة.

2.8 تعميم: المئيني الأول P_i

يمكن تعميم العلاقة وهذا لحساب أي مئيني من المئينيات التسعة والتسعون كمايلي:

$$P_i = e_{i-1} + a_i \times \left(\frac{i \times N/100 - F_{i-1}}{n_i} \right) \wedge i = 1, \dots, 99$$

مثال: يمثل الجدول التالي أجور عمال مؤسسة للهاتف النقال والموضح كآلاتي: الوحدة: 10^3 دج

| المتغير: الأجور | التكرار: عدد العمال n_i | التكرار النسبي | التكرار المتجمع الصاعد $F \uparrow$ |
|-----------------|---------------------------|----------------|-------------------------------------|
| 20-10 | 200 | 0.2 | 200 |
| 30-20 | 350 | 0.35 | 550 |
| 40-30 | 400 | 0.4 | 950 |
| 50-40 | 30 | 0.3 | 980 |
| 60-50 | 20 | 0.2 | 1000 |
| المجموع | 1000 | 1 | -- |

أولا نلاحظ بعد تحديد التكرار المتجمع الصاعد أن فئة المئيني الأول هي الفئة التي تقابل $N/100=1000/100=10$ لا يوجد العدد 10 في العمود الذي يمثل التكرار المتجمع الصاعد وإنما العدد الذي أكبر منه مباشرة هو 200، أي أن فئة المئيني الأول هي: 10-20، والآن سنطبق العلاقة الرياضية للمئيني الأول:

$$P_1 = e_{i-1} + a_i \times \left(\frac{N/100 - F_{i-1}}{n_i} \right) = 10 + 10 \times \left(\frac{1000/100 - 0}{200} \right) = 1.5$$

ومنه فالمئيني الأول هو: 1500 دج ، ومنه نقول أن 1 بالمائة من العمال يتقاضون أجرا أقل من 1500 دج، و 99 بالمائة الأخرى يتقاضون أجرا أكبر منه.

ملاحظة:

إذا استعملنا التكرار المتجمع الصاعد النسبي تصبح علاقة المئيني الأول:

$$P_1 = e_{i-1} + a_i \times \left(\frac{0.01 - F_{i-1}}{f_i} \right)$$

حيث: هي التكرار النسبي لفئة المئيني الأول.

نلاحظ عندما تكون المشاهدات مرتبة ترتيبا تصاعديا، يمكن تحديد مراتب الوسيط والربيعيات والعشيريات والمئينيات حسب الشكل التالي:

$$x_1, x_2, x_3, \dots, x_n$$

$$x_1, x_2, x_3, \dots, M_e, \dots, x_n$$

$$x_1, x_2, x_3, \dots, D_5, \dots, Q_3, \dots, x_n$$

$$x_1, x_2, x_3, \dots, P_{50}, \dots, Q_3, \dots, x_n$$

أي أن:

9. المنوال (The mode)

يعرف المنوال بأنه قيمة المتغير الإحصائي الأكثر انتشارا وشيوعا في مجموعة البيانات، وهو قيمة المتغير الإحصائي التي تقابل أعلى تكرار في جدول التوزيع التكراري، ونرمز له بالرمز M_0 .

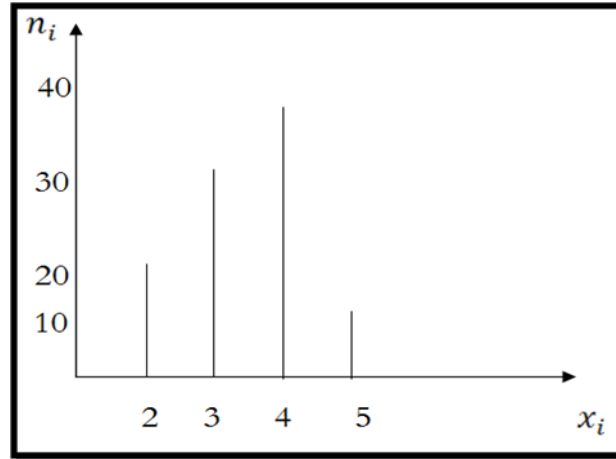
1.9 المنوال حالة البيانات غير المبوبة

مثال: (مثال سابق)

توزيع سكنات حي 100 سكن حسب عدد الغرف.

| المتغير: عدد الغرف X_i | التكرار: عدد السكنات n_i |
|--------------------------|----------------------------|
| 2 | 20 |
| 3 | 30 |
| 4 | 40 |
| 5 | 10 |
| المجموع | 100 |

من خلال الرسم البياني يمكن معرفة المنوال، قيمة المنوال هي: أي السكنات الأكثر وجودا في الحي هي السكنات ذو 4 غرف.

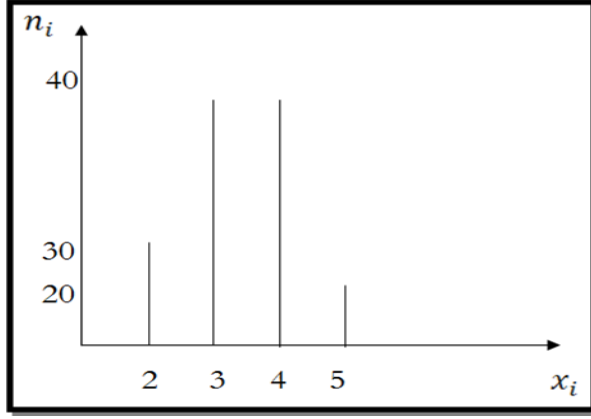


ملاحظة (1):

قد يكون للتوزيع التكراري أكثر من منوال، فمثلا يكون لدينا الجدول التالي:

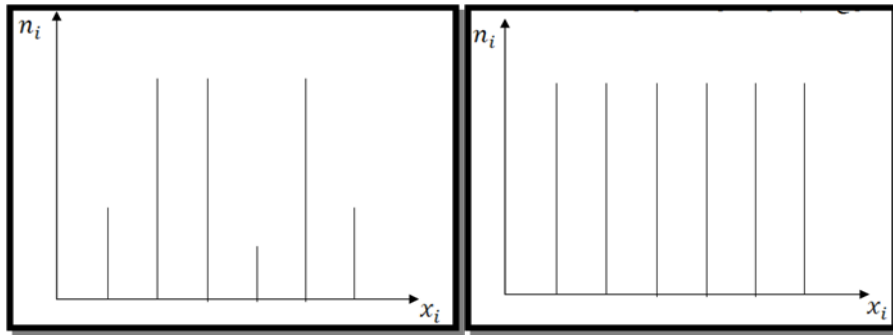
| المتغير: عدد الغرف X_i | التكرار: عدد السكنات n_i |
|--------------------------|----------------------------|
| 2 | 20 |
| 3 | 40 |
| 4 | 40 |
| 5 | 10 |
| المجموع | 110 |

ففي هذا المثال لدينا منوالين: و



ملاحظة (2):

قد يكون لدينا توزيع متعدد المنوال وقد يكون لدينا توزيع عديم المنوال مثل كما هو موضع في هذين الشكلين:



2.9 المنوال حالة البيانات المبوية

عندما تكون البيانات مبوية يعني في حالة وجود فئات فإن المنوال يحدد وفق المرحلتين التاليتين:

المرحلة الأولى: تتضمن هذه المرحلة تحديد الفئة المنوالية: وهي الفئة التي تقابل أعلى تكرار.

المرحلة الثانية: يحسب بالعلاقة التالية:

$$M_0 = e_{i-1} + a_i \times \left(\frac{\alpha_1}{\alpha_1 + \alpha_2} \right)$$

حيث أن: e_{i-1} يمثل الحد الأدنى للفئة المنوالية، a_i طول الفئة المنوالية، α_1 الفرق بين تكرار الفئة المنوالية وتكرار الفئة السابقة لها و α_2 الفرق بين تكرار الفئة المنوالية وتكرار الفئة اللاحقة لها.

مثال: (مثال سابق)

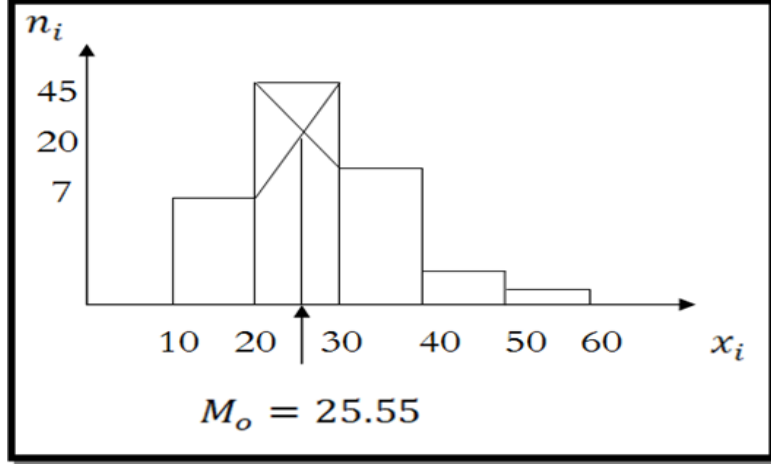
يمثل الجدول التالي توزيع عمال شركة النسيج حسب الأجر (الوحدة 10^3 دج).

| المتغير: عدد الغرف X_i | التكرار: عدد السكنات n_i |
|--------------------------|----------------------------|
| 20-10 | 20 |
| 30-20 | 45 |
| 40-30 | 25 |
| 50-40 | 07 |
| 60-50 | 03 |
| المجموع | 100 |

ولمعرفة الأجر السائد في هذه الشركة طبعا سنحسب المنوال، ولدينا الفئة المنوالية هي الفئة التي تقابل أعلى تكرار: 30-20، وانطلاقا من علاقة المنوال يكون لدينا:

$$M_0 = 20 + 10 \times \left(\frac{25}{25 + 20} \right) = 25.55$$

ومنه فالأجر السائد في هذه الشركة هو: 25550 دج، وبيانيا يحدد المنوال بالطريقة التالية والموضحة في الشكل التالي:



ملاحظة:

إذا كان أطوال الفئات غير متساوي فإننا نصحح التكرار، ولا يصحح التكرار إلا عند رسم المدرج التكراري وحساب المنوال.

مثال

يصحح التكرار على أساس انه لدينا طول فئة قاسم مشترك أكبر وهو 10 وعلى هذا الأساس عندما نجد فئة طولها ضعف العدد 10 نقسم تكرارها على العدد 2 وهكذا ونوضح هذا في هذا الجدول.

| الأجور X_i | التكرار: عدد العمال n_i | التكرار المصحح n'_i |
|--------------|---------------------------|-----------------------|
| 20-10 | 20 | 20 |
| 40-20 | 50 | $25 = 50/2$ |
| 70-40 | 60 | $20 = 60/3$ |
| 80-70 | 07 | 07 |
| 90-80 | 03 | 03 |
| المجموع | 100 | - |

لدينا الفئة المنوالية بعد تصحيح التكرار هي الفئة: 40-20. وانطلاقا من علاقة المنوال يكون لدينا:

$$M_0 = 20 + 10 \times \left(\frac{5}{5 + 5} \right) = 25$$

ومنه فالأجر السائد في هذه الشركة هو: 25000 دج.

III. مقاييس التشتت والشكل

1. مقاييس التشتت (Measures of dispersion)

يعتبر تحليل المعطيات الإحصائية باستعمال مقاييس النزعة المركزية محدود وغير كاف لتحديد خواص الظاهرة المدروسة، فلا يمكن أحيانا مثلا تقديم دراسة تسمح لنا بمقارنة بين سلسلتين إحصائيتين أو أكثر فمثلا إذا كانت لدينا السلسلتين الإحصائيتين التاليتين:

$$\begin{array}{cccccccccccc} 32 & 24 & 24 & 22 & 22 & 22 & 22 & 20 & 16 & 16 \\ 39 & 35 & 27 & 23 & 23 & 22 & 22 & 22 & 19 & 16 & 11 & 5 \end{array}$$

نلاحظ أن لهما نفس الخصائص الثلاثة للنزعة المركزية: $\bar{X} = M_e = M_0 = 22$

في هذه الحالة لا نستطيع أن نقارن بين هذين السلسلتين، لكن هناك مقاييس أخرى تسمح لنا بالمقارنة بينهم وتعتمد بالأساس على حساب الفروقات بين قيم المشاهدات والقيمة المركزية (قد تكون القيمة المركزية المنوال أو الوسيط أو المتوسط الحسابي، غالبا ما يكون المتوسط الحسابي)، إن هذه المقاييس تبين لنا كيفية توزيع انتشار قيم المتغير الإحصائي حول القيمة المركزية.

1.1 المدى العام (General range)

وهو الفرق بين أكبر قيمة وأقل قيمة في التوزيع الإحصائي، وهو كذلك الفرق بين الحد الأعلى للفترة الأخيرة والحد الأدنى للفترة الأولى:

$$E = X_{\max} - X_{\min}$$

ونلاحظ أن المدى العام يضم كل الوحدات الإحصائية التي تشكل المجتمع الإحصائي، وهو يتأثر بالقيم المتطرفة، ويستعمل المدى العام في المقارنة بين سلسلتين إحصائيتين أو أكثر، وبالرجوع لحالة السلسلتين السابقتين نلاحظ أن المدى العام للسلسلة الأولى هو: أما بالنسبة للسلسلة الثانية فهو: $E = 39 - 5 = 34$. ومنه يمكن القول أن السلسلة الثانية أكثر تشتتا مقارنة بالسلسلة الأولى.

2.1 المدى الربيعي (Interquartile range)

وهو الفرق بين الربيع الثالث والربيع الأول، ومنه المدى الربيعي يضم 50 بالمائة من المشاهدات، ويستعمل كذلك في المقارنة بين سلسلتين أو أكثر من حيث التشتت، أي:

$$IQ = Q_3 - Q_1$$

3.1 نصف المدى الربيعي (Semi-interquartile range)

نصف المدى الربيعي هو حاصل قسمة المدى الربيعي إلى العدد 2: $IQ/2 = (Q_3 - Q_1)/2$

مثال

لتكن لدينا السلسلة الإحصائية التالية والتي تمثل توزيع 11 عاملا في مؤسسة ما حسب الأجر اليومي:

$$1700 \ 1800 \ 1600 \ 1400 \ 1300 \ 1200 \ 1100 \ 1000 \ 900 \ 800 \ 700$$

لحساب المدى الربيعي لابد من حساب الربيع الأول Q_1 والربيع الثالث Q_3 نلاحظ أن رتبة الربيع الأول هي:

$$(N+1)/4 = (11+1)/4 = 3$$

رتبته 3 أي $Q_1 = 900$ ، أما رتبة الربيع الثالث فهي:

$$3(N + 1)/4 = 3(11 + 1)/4 = 9$$

رتبته 9 أي $Q_3 = 1600$ ومنه فنصف المدى الربيعي: $IQ/2 = (Q_3 - Q_1)/2 = (1600 - 900)/2 = 350$

ويمكن القول أن 50% من العمال أجورهم تتعد في المتوسط عن الوسيط بأقل من 350 دج.

4.1 الانحراف المتوسط (Mean deviation)

وهو المتوسط الحسابي لانحرافات المتغير الإحصائي X_i عن احد القيم المركزية للسلسلة (المنوال أو الوسيط أو المتوسط الحسابي)، وحسابيا نستعمل القيمة المطلقة حتى لا ينعدم هذا المتوسط عندما تكون القيمة المركزية هي المتوسط الحسابي. ونكتب الانحرافات التالية:

$$E_{M_e} = \frac{\sum_{i=1}^n n_i \times |x_i - M_e|}{N} \quad \blacksquare \text{ الانحراف المتوسط بالنسبة للوسيط:}$$

$$E_{M_o} = \frac{\sum_{i=1}^n n_i \times |x_i - M_o|}{N} \quad \blacksquare \text{ الانحراف المتوسط بالنسبة للمنوال:}$$

$$E_{\bar{X}} = \frac{\sum_{i=1}^n n_i \times |x_i - \bar{X}|}{N} \quad \blacksquare \text{ الانحراف المتوسط بالنسبة للمتوسط الحسابي:}$$

مثال

ليكن لدينا الجدول التالي والذي يبين توزيع عمال شركة النسيج الوطنية حسب الأجر:

الوحدة: 10^3 دج

| المتغير: الأجر X_i | مركز الفئة C_i | التكرار: عدد العمال n_i | $n_i \times C_i$ | التكرار المتجمع الصاعد $F \uparrow$ |
|----------------------|------------------|---------------------------|------------------|-------------------------------------|
| 40-20 | 30 | 20 | 600 | 02 |
| 60-40 | 50 | 30 | 1500 | 50 |
| 80-60 | 70 | 40 | 2800 | 90 |
| 100-80 | 90 | 7 | 630 | 97 |
| 120-100 | 110 | 3 | 330 | 100 |
| المجموع | - | 100 | 0658 | - |

وبحساب المتوسط الحسابي $\bar{X} = 5860/100 = 58.6$ والوسيط هو: $M_e = 40 + 10 \times (50 - 20)/30 = 50$ يكون:

| $n_i \times x_i - M_e $ | $ x_i - M_e $ | $n_i \times x_i - \bar{X} $ | $ x_i - \bar{X} $ |
|--------------------------|---------------|------------------------------|-------------------|
| 400 | 20 | 572 | 28.6 |
| 0 | 0 | 258 | 8.6 |
| 800 | 20 | 456 | 11.4 |
| 280 | 40 | 219.8 | 31.4 |
| 180 | 60 | 154.2 | 51.4 |
| 1660 | - | 1660 | - |

ومنه نحسب الانحراف المتوسط للوسط الحسابي:

$$E_{\bar{X}} = \frac{\sum_{i=1}^n n_i \times |x_i - \bar{X}|}{N} = \frac{1660}{100} = 16.6$$

ويمكن القول أن الأجر تبعد في المتوسط عن الوسط الحسابي بـ : 1660 دج

أما الانحراف المتوسط بالنسبة للوسيط:

$$E_{M_e} = \frac{\sum_{i=1}^n n_i \times |x_i - M_e|}{N} = \frac{1660}{100} = 16.6$$

ويمكن القول أن الأجر تبعد في المتوسط عن الوسيط بـ: 1660 دج

5.1 التباين (The variance)

يعتبر التباين هو أكثر مقاييس التشتت استعمالا وهو المتوسط الحسابي لمربعات الفروق بين قيم المتغير

الإحصائي X_i والمتوسط الحسابي أي:

$$V(X) = \frac{\sum_{i=1}^n n_i \times (x_i - \bar{X})^2}{N}$$

ومن خلال العلاقة نلاحظ أن:

$$V(X) = \frac{\sum_{i=1}^n n_i \times (x_i - \bar{X})^2}{N} = \frac{\sum_{i=1}^n n_i \times (x_i^2 - 2x_i\bar{X} + \bar{X}^2)}{N}$$

$$V(X) = \frac{\sum_{i=1}^n n_i \times x_i^2}{N} - \bar{X}^2 = \sum_{i=1}^n f_i \times x_i^2 - \bar{X}^2$$

أ. خصائص التباين

■ تباين عدد ثابت معدوم:

$$V(X) = \frac{\sum_{i=1}^n n_i \times (a - \bar{a})^2}{N} = \frac{\sum_{i=1}^n n_i \times 0}{N} = \frac{\sum_{i=1}^n n_i \times (a - a)^2}{N} = 0$$

وهذا باعتبار أن متوسط عدد ثابت a هو نفسه ذلك العدد a .

■ حساب تباين $V(aX)$:

$$V(aX) = \frac{\sum_{i=1}^n n_i \times (ax_i - a\bar{X})^2}{N} = a^2 \times \frac{\sum_{i=1}^n n_i \times (x_i - \bar{X})^2}{N} = a^2 \times V(X)$$

مثال: (المثال السابق)

| المتغير: الأجور X_i | مركز الفترة C_i | التكرار: عدد العمال n_i | التكرار النسبي f_i | $f_i \times C_i$ | $x_i - \bar{X}$ | $f_i \times (x_i - \bar{X})^2$ |
|--------------------------|----------------------|------------------------------|-------------------------|------------------|-----------------|--------------------------------|
| 40-20 | 30 | 20 | 0.2 | 6 | -28.6 | 163.59 |
| 60-40 | 50 | 30 | 0.3 | 15 | -8.6 | 22.18 |
| 80-60 | 70 | 04 | 0.4 | 28 | 11.4 | 51.98 |
| 100-80 | 90 | 7 | 0.07 | 6.3 | 31.4 | 69.01 |
| 120-100 | 110 | 3 | 0.03 | 3.3 | 51.4 | 79.25 |
| المجموع | - | 100 | 1 | 58.6 | - | 386.04 |

إذن فالتباين هو: $V(X) = 386.04$

ب. الانحراف المعياري (Standard deviation)

الانحراف المعياري هو جذر التباين فهو يعبر عن البعد المتوسط لمشاهدات المتغير الإحصائي X_i عن المتوسط الحسابي

$$SD = \sqrt{V(X)} = \sqrt{386.04} = 19.64$$

ومنه يمكن القول أن أجور العمال تبعد في المتوسط عن متوسط الأجر في المؤسسة بـ: 19.64 دج.

6.1 معامل التغير أو الاختلاف (Coefficient of variation)

هو معامل نسبي يستخدم في المقارنة بين تشتت بيانات ظاهرتين مختلفتين أو أكثر، ويستعمل عندما تكون السلاسل الإحصائية غير متجانسة أي وحدات القياس مختلفة ويحسب معامل الاختلاف بالعلاقة التالية:

$$CV = SD \times 100\% / \bar{X}$$

مثال

إذا كان متوسط الأجور في مؤسسة جزائرية E_1 هو والانحراف المعياري وكان متوسط الأجور في مؤسسة مغربية E_2

هو و الانحراف المعياري نلاحظ أن معامل الاختلاف عمال الشركة الجزائرية هو:

$$CV = SD \times 100\% / \bar{X} = 150 \times 100\% / 2000 = 7.5$$

أما بالنسبة للشركة المغربية فهو:

$$CV = SD \times 100\% / \bar{X} = 120 \times 100\% / 16000 = 7.5$$

ومنه نقول أن درجة تشتت الأجور بالنسبة لمتوسط الأجر متساوي بالنسبة للشركتين، وإذا كان وهذا كمثل معامل الاختلاف بالنسبة للأجور عمال الشركة الجزائرية اقل منه بالنسبة للشركة المغربية فنقول أن الأجور في الشركة الجزائرية أكثر تجانسا مقارنة بالشركة المغربية.

7.1 العزوم (The moments)

أ. العزوم البسيطة (Simple moments)

إذا كان لدينا مجموعة من المشاهدات التالية: ، فيعرف العزم البسيط من الدرجة k بالمتوسط الحسابي لقيم x_i وبالعلاقة التالية:

$$M_k = \frac{\sum_{i=1}^n n_i \times x_i^k}{N} \quad \wedge \quad N = \sum_{i=1}^n n_i$$

ب. العزوم المركزية (Central moments)

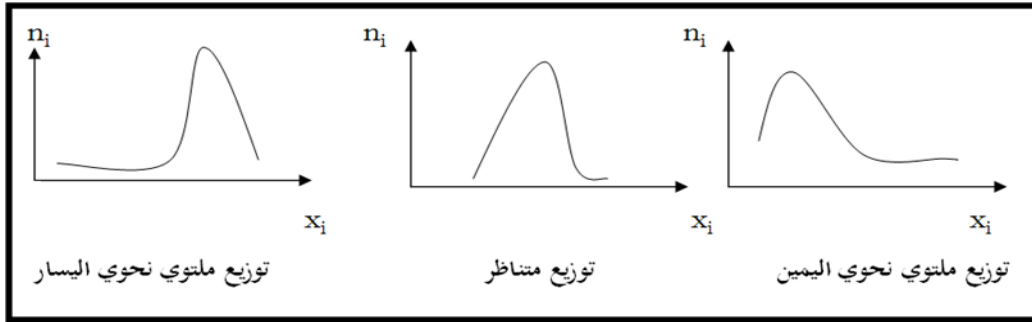
إذا كان لدينا مجموعة من المشاهدات: $x_1, x_2, x_3, \dots, x_n$ ، فيعرف العزم المركزي من الدرجة k بالمتوسط الحسابي لقيم $(x_i - \bar{X})^k$ وبحسب بالعلاقة التالية:

$$\mu_k = \frac{\sum_{i=1}^n n_i \times (x_i - \bar{X})^k}{N} = \sum_{i=1}^n f_i \times (x_i - \bar{X})^k$$

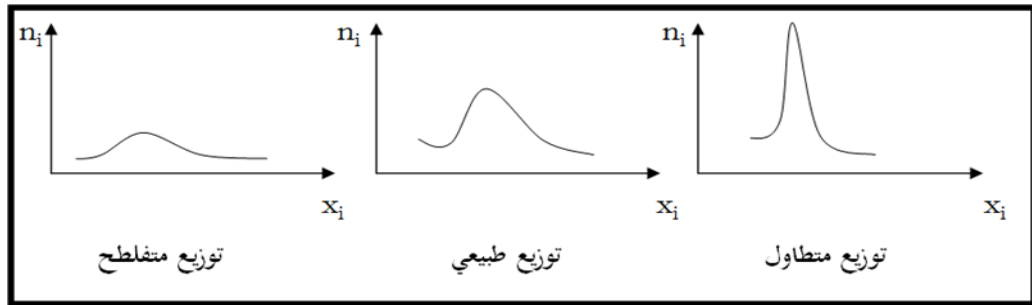
ونلاحظ أن التبيان هو عزم مركزي من الدرجة 2، ونكتب:

2. مقاييس الشكل (Measures of form)

إضافة إلى مقاييس الوضع (النزح المركزية) ومقاييس التشتت، هناك مقاييس أخرى تبين نوع شكل التوزيع الإحصائي، فمقاييس الالتواء تبين التواء الشكل هل هو ملتوي نحو اليمين أو اليسار أو متناظر، ومقاييس التفلطح تبين شكل التوزيع التكراري مقارنة مع التوزيع الطبيعي فيكون مثله (شكل جرس) أو متطاول أو متفلطح. بالنسبة للالتواء يأخذ التوزيع التكراري أحد الأشكال التالية:



وبالنسبة للتفلطح يأخذ التوزيع التكراري أحد الأشكال التالية:



1.2 مقاييس الالتواء (Skewness parameters)

أ. معامل بيرسن الأول (Coefficient de Karl Pearson)

يعرف مقياس بيرسن الأول للالتواء بالعلاقة التالية: $P_1 = (\bar{X} - M_o) / SD$

فإذا كان: $P_1 = 0$ نقول عندئذ عن التوزيع انه متناظر، $P_1 > 0$ فالتوزيع ملتوي نحو اليمين أما إذا كان $P_1 < 0$ فان التوزيع ملتوي نحو اليسار.

ب. معامل بيرسن الثاني

يعرف مقياس بيرسن الثاني للالتواء بالعلاقة التالية: $P_2 = \mu_3^2 / \mu_2^3$

فإذا كان: $P_2 = 0$ نقول عندئذ عن التوزيع انه متناظر، أما إذا كان $P_2 \neq 0$ فالتوزيع غير متناظر وتميز الحالتين التاليتين حسب إشارة العزم المركزي من الدرجة الثالثة، إذا كان $\mu_3 > 0$ فالتوزيع ملتوي نحو اليمين أما إذا كان $\mu_3 < 0$ فان التوزيع ملتوي نحو اليسار، وعموما تستعمل قيمة معامل بيرسن الثاني ككل مقارنته مع معامل آخر مرتبط بتوزيع آخر والذي له معامل كبير نقول أنه أكثر التواء من الآخر.

ج. معامل فيشر (Fisher coefficient)

يعرف مقياس فيشر للالتواء بالعلاقة التالية: $F = \mu_3 / SD^3$

فإذا كان: $F = 0$ نقول عندئذ عن التوزيع انه متناظر، $F > 0$ فالتوزيع ملتوي نحو اليمين أما إذا كان $F < 0$ فان التوزيع ملتوي نحو اليسار.

د. معامل يول (Yul coefficient)

يعرف مقياس يول للالتواء بالعلاقة التالية:

$$\gamma = \frac{(Q_3 - M_e) - (M_e - Q_1)}{(Q_3 - M_e) + (M_e - Q_1)}$$

فإذا كان: $\gamma = 0$ نقول عندئذ عن التوزيع انه متناظر، $\gamma > 0$ فالتوزيع ملتوي نحو اليمين أما إذا كان $\gamma < 0$ فان التوزيع ملتوي نحو اليسار.

مثال: ليكن لدينا التوزيع التكراري التالي:

| $f_i \times (x_i - \bar{X})^3$ | $f_i \times (x_i - \bar{X})^2$ | $x_i - \bar{X}$ | $f_i \times C_i$ | f_i | C_i | | X_i |
|--------------------------------|--------------------------------|-----------------|------------------|-------|-------|----|---------|
| -11.88 | 2.66 | -4.46 | 0.66 | 0.13 | 5 | 4 | 6-4 |
| -2.5 | 1.01 | -2.46 | 1.16 | 0.16 | 7 | 5 | 8-6 |
| -0.02 | 0.04 | -0.46 | 1.8 | 0.2 | 9 | 6 | 10-8 |
| 1.2 | 0.78 | 1.53 | 3.66 | 0.33 | 11 | 10 | 12-10 |
| 7.35 | 2.08 | 3.53 | 2.16 | 0.16 | 13 | 5 | 14-12 |
| $M_3 = -5.85$ | $M_2 = 6.58$ | - | | 1 | - | 30 | المجموع |

من خلال معطيات الجدول لدينا: $\bar{X} = 9.46$ ، $M_o = 10.72$ ، $SD = 2.56$

■ معامل بيرسن الأول للإلتواء: $P_1 = (\bar{X} - M_o) / SD = (9.46 - 10.72) / 2.56 = -0.49 > 0$ فالتوزيع ملتوي نحو اليسار .

■ معامل بيرسن الثاني للإلتواء: فالتوزيع ملتوي نحو اليسار .

■ معامل فيشر: $F = \mu_3 / SD^3 = -5.85 / 2.56^3 = -5.85 / 16.77 = -0.34$ فالتوزيع ملتوي نحو اليسار .

■ معامل يول: $\gamma = \frac{(Q_3 - M_e) - (M_e - Q_1)}{(Q_3 - M_e) + (M_e - Q_1)} = \frac{(11.5 - 10) - (10 - 7.4)}{(11.5 - 10) + (10 - 7.4)} = -0.26 < 0$

فالتوزيع ملتوي نحو اليسار .

2.2 مقاييس التفلطح (Kurtosis parameters)

أ. معامل بيرسن للتفلطح

يعرف مقاييس بيرسن للتفلطح بالعلاقة التالية: $K = \mu_4 / \mu_2^2$

فإذا كان التوزيع طبيعي يكون $K = 3$ ، أما إذا كان $K < 3$ نقول عندئذ عن التوزيع انه متفلطح كثيراً (Platykurtic) وكلما اقتربت قيمت المعامل K من الواحد زاد التفلطح، غير انه إذا كان $K > 3$ فالتوزيع ملتوي فالتوزيع يصبح غير مفلطح (Leptokurtic) وكلما ارتفعت قيمت المعامل K يضعف تفلطح التوزيع.

ب. معامل فيشر للتفلطح

يعرف مقاييس فيشر للتفلطح بالعلاقة التالية: $B = \mu_4 / \mu_2^2 - 3$

فإذا كان التوزيع طبيعي يكون $B = 0$ ، أما إذا كان $B < 0$ نقول عندئذ عن التوزيع انه متفلطح كثيراً (Platykurtic)، غير انه إذا كان $B > 0$ فالتوزيع ملتوي فالتوزيع يصبح غير مفلطح (Leptokurtic).

مثال

| $f_i \times (x_i - \bar{X})^4$ | $x_i - \bar{X}$ | f_i | C_i | | X_i |
|--------------------------------|-----------------|-------|-------|----|---------|
| 53.07 | -4.46 | 0.13 | 5 | 4 | 6-4 |
| 6.17 | -2.46 | 0.16 | 7 | 5 | 8-6 |
| 0.0094 | -0.46 | 0.2 | 9 | 6 | 10-8 |
| 1.84 | 1.53 | 0.33 | 11 | 10 | 12-10 |
| 25.97 | 3.53 | 0.16 | 13 | 5 | 14-12 |
| $M_4 = 87.07$ | - | 1 | - | 30 | المجموع |

■ معامل بيرسن للتفلطح: $K = \mu_4 / \mu_2^2 = 87.07 / 6.58^2 = 2.01 < 3$ فالتوزيع متفلطح .

■ معامل فيشر: $B = \mu_4 / \mu_2^2 - 3 = 2.01 - 3 = -0.99 < 0$

فالتوزيع متفلطح .

IV. التوزيعات ذات المتغيرتين (Joint distribution)

تمهيد

رأينا في ما سبق المسائل المتعلقة بقياسات ومشاهدات مرتبطة بمتغير واحد، وفي هذه النقطة، سنتطرق إلى دراسة بعض المسائل المرتبطة بمتغيرين اثنين و، فإذا كانت كل قيمة من قيم المتغير الإحصائي توجد قيمة مقابلة للمتغير الآخر فإن الأزواج المرتبة من هذه القيم تسمى مجتمعا ذو بعدين، والزوج المرتب يسمى متغيرا إحصائيا ذو بعدين، والأمثلة على المجتمعات ذات البعدين كثيرة وهي ذات أهمية كبيرة في مجالات التربية وعلم النفس وعلم الاجتماع والإدارة والاقتصاد. فمثلا دراسة مجتمع من عمال من حيث السن والأجر، والهدف من هذه دراسة هذه البيانات هو الإجابة عن السؤالين الرئيسيين:

- هل هناك علاقة بين المتغيرين السن والأجر (ارتباط واستقلالية)؟
- إذا كانت هناك علاقة بين المتغيرين فكيف نعبر عنها بمعادلة؟

1. الجداول الثنائية أو الجدول الإحصائي ذو بعدين (Contingency tables)

عندما ندرس مجتمع إحصائي ما من خلال متغيرين اثنين يأخذ الجدول الإحصائي الثنائي الشكل التالي:

| $Y \backslash X$ | Y_1 | Y_2 | | Y_j | | Y_m | المجموع |
|------------------|-----------------|-----------------|-------|-----------------|-------|-----------------|-----------------------|
| X_1 | n_{11} | n_{12} | | n_{1j} | | n_{1m} | $n_{1\bullet}$ |
| X_2 | n_{21} | n_{22} | | n_{2j} | | n_{2m} | $n_{2\bullet}$ |
| . | . | . | | . | | . | . |
| . | . | . | | . | | . | . |
| . | . | . | | . | | . | . |
| X_i | n_{i1} | n_{i2} | | n_{ij} | | n_{im} | $n_{i\bullet}$ |
| . | . | . | | . | | . | |
| . | . | . | | . | | . | |
| . | . | . | | . | | . | |
| X_k | n_{k1} | n_{k2} | | n_{kj} | | n_{km} | $n_{k\bullet}$ |
| المجموع | $n_{\bullet 1}$ | $n_{\bullet 2}$ | | $n_{\bullet j}$ | | $n_{\bullet m}$ | $n_{\bullet \bullet}$ |

حيث: : هي الخاصية رقم من متغير الإحصائي، : هي الخاصية رقم من متغير الإحصائي، : هي عدد الوحدات الإحصائية التي لها الخاصية و الخاصية، $n_{i\bullet}$: هي عدد الوحدات الإحصائية التي لها الخاصية، $n_{\bullet j}$: هي عدد الوحدات الإحصائية التي لها الخاصية، $n_{\bullet \bullet}$: هي عدد الوحدات الإحصائية محل الدراسة. ونكتب:

$$n_{i\bullet} = \sum_{j=1}^m n_{ij} \quad ; \quad n_{\bullet j} = \sum_{i=1}^k n_{ij} \quad ; \quad n_{\bullet \bullet} = \sum_{i=1}^k \sum_{j=1}^m n_{ij}$$

ملاحظات

■ تسمى التكرارات بالتكرارات الحدية للمتغير الإحصائي، ويكون لدينا جدول التكرارات الحدية الخاصة بهذا المتغير كمايلي:

| | | | | | | | |
|---------------|----------------|----------------|-------|----------------|-------|----------------|----------------------|
| المتغير X | X_1 | X_2 | | X_i | | X_k | الاجموع |
| التكرار الحدي | $n_{1\bullet}$ | $n_{2\bullet}$ | | $n_{i\bullet}$ | | $n_{k\bullet}$ | $n_{\bullet\bullet}$ |

■ تسمى التكرارات بالتكرارات الحدية للمتغير الإحصائي، ويكون لدينا جدول التكرارات الحدية الخاصة بهذا للمتغير كمايلي:

| | | | | | | | |
|---------------|-----------------|-----------------|-------|-----------------|-------|-----------------|----------------------|
| المتغير Y | Y_1 | Y_2 | | Y_j | | Y_m | الاجموع |
| التكرار الحدي | $n_{\bullet 1}$ | $n_{\bullet 2}$ | | $n_{\bullet j}$ | | $n_{\bullet m}$ | $n_{\bullet\bullet}$ |

■ بإمكان أن تكون تكرارات الجدول الثنائي تكرارات نسبية موضحة كمايلي:

| | | | | | | | |
|------------------|-----------------|-----------------|-------|-----------------|-------|-----------------|----------------|
| $Y \backslash X$ | Y_1 | Y_2 | | Y_j | | Y_m | الاجموع |
| X_1 | f_{11} | f_{12} | | f_{1j} | | f_{1m} | $f_{1\bullet}$ |
| X_2 | f_{21} | f_{22} | | f_{2j} | | f_{2m} | $f_{2\bullet}$ |
| · | · | · | | · | | · | · |
| · | · | · | | · | | · | · |
| · | · | · | | · | | · | · |
| X_i | f_{i1} | f_{i2} | | f_{ij} | | f_{im} | $f_{i\bullet}$ |
| · | · | · | | · | | · | |
| · | · | · | | · | | · | |
| · | · | · | | · | | · | |
| X_k | f_{k1} | f_{k2} | | f_{kj} | | f_{km} | $f_{k\bullet}$ |
| الاجموع | $f_{\bullet 1}$ | $f_{\bullet 2}$ | | $f_{\bullet j}$ | | $f_{\bullet m}$ | 1 |

حيث أن: $f_{i\bullet} = \sum_{j=1}^m f_{ij}$; $f_{\bullet j} = \sum_{i=1}^k f_{ij}$ $f_{ij} = \frac{n_{ij}}{n_{\bullet\bullet}}$

$$\sum_{i=1}^k f_{i\bullet} = \sum_{j=1}^m f_{\bullet j} = \sum_{i=1}^k \sum_{j=1}^m f_{ij} = 1$$

1.1 جداول التكرارات النسبية الشرطية للمتغير الإحصائي: (مثلا نختار العمود j)

| | | | | | | | |
|-------------------------|------------|------------|-------|------------|-------|------------|-----------------|
| المتغير X | X_1 | X_2 | | X_i | | X_k | الاجموع |
| التكرار الحدي بشرط j | n_{1j} | n_{2j} | | n_{ij} | | n_{kj} | $n_{\bullet j}$ |
| التكرار النسبي بشرط j | f_{1j}^j | f_{2j}^j | | f_{ij}^j | | f_{kj}^j | 1 |

وتقرأ f_{ij}^j التكرار النسبي للوحدة الإحصائية إذا كان j أو بشرط j ، حيث أن: $f_{ij}^j = \frac{n_{ij}}{n_{\bullet j}}$

2.1 جداول التكرارات النسبية الشرطية للمتغير الإحصائي: (مثلا نختار السطر i)

| المتغير Y | Y_1 | Y_2 | | Y_j | | Y_m | المجموع |
|-----------------------|----------|----------|-------|----------|-------|----------|----------------|
| التكرار الحدي بشرط i | n_{i1} | n_{i2} | | n_{ij} | | n_{im} | $n_{i\bullet}$ |
| التكرار النسبي بشرط i | f_1^i | f_2^i | | f_j^i | | f_m^i | 1 |

وتقرأ f_j^i التكرار النسبي للوحدة الإحصائية إذا كان i أو بشرط i، حيث أن: $f_j^i = \frac{n_{ij}}{n_{i\bullet}}$

3.1 المتوسط الحسابي

أ. المتوسط الحسابي لـ X: ويحسب بالعلاقة التالية: $\bar{X} = \sum_{i=1}^k \frac{n_{i\bullet} \times X_i}{n_{\bullet\bullet}}$

ب. المتوسط الحسابي لـ Y: ويحسب بالعلاقة التالية: $\bar{Y} = \sum_{j=1}^m \frac{n_{\bullet j} \times Y_j}{n_{\bullet\bullet}}$

4.1 التباين أو التباين المشترك (The covariance)

التباين أو التباين المشترك هو الوسط الحسابي لجداءات الفروق و نكتب:

$$Cov(X, Y) = \frac{1}{n} \sum_{i=1}^k \sum_{j=1}^m n_{ij} \times (X_i - \bar{X})(Y_j - \bar{Y})$$

$$Cov(X, Y) = \frac{1}{n} \sum_{i=1}^k \sum_{j=1}^m (n_{ij} \times X_i Y_j) - \bar{X}\bar{Y}$$

إذا كان التباين معدوم نقول أن المتغيرين ومستقلين فيما بينهما. ونكتب: $Cov(X, Y) = 0 \Rightarrow X \perp Y$
 مثال: ضمن عينة مكون من 100 فرد حاصلون على رخصة السياقة، ندرس علاقة العمر بعدد الحوادث.

| العمر X | عدد الحوادث Y | | | | المجموع |
|---------|---------------|----|----|----|---------|
| | 1 | 2 | 3 | 4 | |
| 30-18 | 18 | 16 | 8 | 3 | 45 |
| 42-30 | 16 | 10 | 8 | 4 | 38 |
| 54-42 | 8 | 4 | 2 | 3 | 17 |
| المجموع | 42 | 30 | 18 | 10 | 100 |

من خلال الجدول:

- عدد الأفراد الذين لهم حادث واحد هو 42 ونسبتهم هي $0.42 = 42/100$ أي 42%؛
- عدد الأفراد الذين لهم أربعة حوادث هو 10 ونسبتهم هي $0.10 = 10/100$ أي 10%؛
- عدد الأفراد الذين سنهم من 18 إلى 30 سنة هو 45 ونسبتهم هي $0.45 = 45/100$ أي 45%؛
- عدد الأفراد الذين لهم حادث واحد وسنهم من 18 إلى 30 هو 18 ونسبتهم هي $0.18 = 18/100$ أي 18%؛
- عدد الأفراد الذين لهم أربعة حوادث وسنهم من 42 إلى 54 هو 3 ونسبتهم هي $0.03 = 3/100$ أي 3%.

(1) المتوسط الحسابي لـ: (متوسط العمر للعينة، حيث نستعمل مراكز الفئات)

$$\bar{X} = \sum_{i=1}^k \frac{n_{i\bullet} \times X_i}{n_{\bullet\bullet}} = \frac{(45 \times 24) + (38 \times 36) + (17 \times 48)}{100} = 36.64$$

إذا متوسط العمر للعينة هو 36.64

(2) المتوسط الحسابي لـ: (متوسط عدد الحوادث)

$$\bar{Y} = \sum_{j=1}^m \frac{n_{\bullet j} \times Y_j}{n_{\bullet\bullet}} = \frac{(42 \times 1) + (30 \times 2) + (18 \times 3) + (10 \times 4)}{100} = 1.96$$

إذا متوسط عدد الحوادث في هذه العينة هو 1.96.

(3) التباين المشترك

انطلاقاً من معطيات الجدول السابق نحسب التباين وفق القانون:

$$Cov(X, Y) = \frac{1}{n} \sum_{i=1}^k \sum_{j=1}^m (n_{ij} \times X_i Y_j) - \bar{X} \bar{Y}$$

$$Cov(X, Y) = \frac{(18 \times 24 \times 1) + (16 \times 24 \times 2) + \dots + (2 \times 48 \times 3) + (3 \times 48 \times 4)}{100} - 36.64 \times 1.96$$

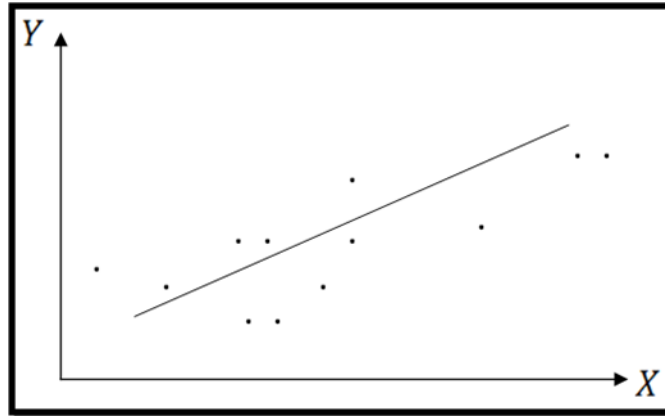
$$Cov(X, Y) = 6432 - 63.97 = 6368.02$$

2. الانحدار الخطي البسيط والارتباط (Simple regression and correlation)

إن من أهم أهداف طرق الإحصاء هو معرفة مدى العلاقة بين الظواهر المختلفة سواء كانت هذه الظواهر اقتصادية أو اجتماعية أو غيرها، حيث كما رأينا في هذا الفصل يتم أحيانا دراسة مجتمع إحصائي من خلال خاصيتين أو متغيرين والهدف الإجابة على السؤالين المذكورين سابقا هل هناك علاقة بين المتغيرين؟ وإذا كانت هناك علاقة بين المتغيرين فكيف نعبر عنها بمعادلة؟.

1.2 سحابة النقاط (Diffuse form of points)

بعد عملية جمع البيانات حول المتغيرات المعنية نقوم برسم المنحني البياني الذي يبين انتشار قيم المتغيرين Y , أو ما يسمى بسحابة النقاط، وهو تمثيل بياني للأزواج المرتبة :



2.2 تقدير المعادلة الانحدار

بناء على قيم المتغيرين حيث يكون لدينا من المشاهدات بالنسبة لهذين المتغيرين، نقوم تقدير معادلة الانحدار:

حيث أن i يعبر عن الخطأ العشوائي، وتسمى كل من a وبالمعلمات (a تمثل الثابت و b معامل X)، حيث أن معادلة الانحدار تمثل معادلة المستقيم المرسوم في الشكل السابق لسحابة النقاط، حيث تعرف المعلمة بالميل الحدي (أي إذا تغير المتغير الإحصائي بوحدة واحدة أو 1% فسيغير المتغير بقيمة تساوي أو %)، و تمثل تقاطع المستقيم مع محور العمودي.

وإن من أهم الطرق الإحصائية المعروفة بتقدير النماذج الإحصائية طريقة المربعات الصغرى (Ordinary least squares (OLS))، وتتلخص هذه الطريقة بإيجاد مقدرات a والتي تجعل مجموع مربعات الانحرافات أصغر ما يمكن ويصبح النموذج المقدر:

تمثل باقي النموذج وهو مقدر الخطأ أو الانحراف أي الفرق بين قيم الظاهرة الملاحظة وقيم المقدرة في النموذج ويحسب بالعلاقة: $e_i = Y_i - \hat{Y}_i$ ونكتب:

$$\text{Min} \sum_{i=1}^n e_i^2 = \text{Min} \sum_{i=1}^n (Y_i - \hat{Y}_i)^2 = \text{Min} \sum_{i=1}^n (Y_i - \hat{a} - \hat{b}X_i)^2 \dots\dots\dots (*)$$

ثم نشق المعادلة (*) بالنسبة ل \hat{a} ، ويكون لدينا المعادلات الطبيعية التالية:

$$\frac{\text{Min} \sum_{i=1}^n e_i^2}{\partial \hat{a}} = -2 \times \sum_{i=1}^n (Y_i - \hat{a} - \hat{b}X_i) = 0 \dots\dots\dots (**)$$

$$\frac{\text{Min} \sum_{i=1}^n e_i^2}{\partial \hat{b}} = -2 \times \sum_{i=1}^n (Y_i - \hat{a} - \hat{b}X_i)X_i = 0 \dots\dots\dots (***)$$

من المعادلة رقم (***) نحصل على قيمة المعلمة وهذا بدلالة المعلمة \hat{b} :

$$\hat{a} = \bar{Y} - \hat{b} \times \bar{X}$$

وبتعويض قيمة المعلمة في المعادلة (***) نحصل على المقدرة ونكتب:

$$\hat{b} = \frac{\sum_{i=1}^n X_i Y_i - n \bar{X} \bar{Y}}{\sum_{i=1}^n X_i^2 - n \bar{X}^2}$$

ملاحظات

- يجب حساب المعلمة أولاً ثم نستنتج؛
- من قانون حساب القيمة المقدرة ل وعند قسمة البسط والمقام على العدد n نحصل على:

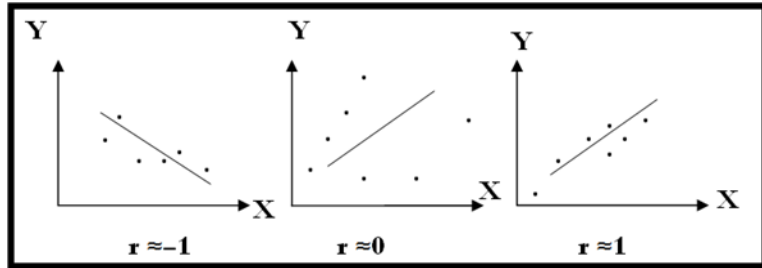
$$\hat{b} = \frac{\left[\sum_{i=1}^n X_i Y_i - n\bar{X}\bar{Y} \right] / n}{\left[\sum_{i=1}^n X_i^2 - n\bar{X}^2 \right] / n} = \frac{Cov(X, Y)}{V(X)}$$

3.2 معامل الارتباط (Correlation coefficient)

يقيس معامل الارتباط الخطي البسيط r مدى قوة أو ضعف العلاقة الخطية (الارتباط الخطي) بين المتغيرين الإحصائيين X وهو محصور بين -1 و 1 ، فإذا كان $r=0.75$ فالعلاقة بين المتغيرين أو قوة الارتباط بينهما 75% وهي علاقة خطية قوية وموجبة أما إذا كان $r=-0.85$ فالعلاقة بين المتغيرين أو قوة الارتباط بينهما 85% وهي علاقة قوية وسالبة وإذا كان $r=0$ فلا توجد علاقة بين المتغيرين أو نقول إن المتغيرين مستقلين.

$$r = \frac{Cov(X, Y)}{\sigma_X \times \sigma_Y} = \frac{\sum_{i=1}^n X_i Y_i - n\bar{X}\bar{Y}}{\sqrt{\sum_{i=1}^n X_i^2 - n\bar{X}^2} \times \sqrt{\sum_{i=1}^n Y_i^2 - n\bar{Y}^2}}$$

ويمكننا توضيح ذلك من خلال الرسم البياني التالي:



مثال:

يمثل الجدول التالي النفقات والأجر (الدخل) للأسر الجزائرية خلال الفترة 2010-2019 كما يلي: الوحدة: 10^6 دج

| السنوات | 2010 | 2011 | 2012 | 2013 | 2014 | 2015 | 2016 | 2017 | 2018 | 2019 |
|---------|------|------|------|------|------|------|------|------|------|------|
| النفقات | 12 | 14 | 14 | 16 | 17 | 17 | 20 | 22 | 24 | 25 |
| الدخل | 15 | 17 | 17 | 17 | 20 | 22 | 24 | 24 | 27 | 28 |

المطلوب:

- (1) قدر العلاقة بين المتغيرين وهذا باستعمال طريقة المربعات الصغرى (OLS).
- (2) أرسم المستقيم الذي يمثل المعادلة أو النموذج.
- (3) احسب معامل الارتباط ثم ماذا تلاحظ؟

الحل

(1) نستعمل الجدول التالي لحساب قيمة مقدرة المعلمتين و:

| $X_i \times Y_i$ | Y_i^2 | X_i^2 | النفقات | الدخل | السنوات |
|------------------|---------|---------|---------|-------|---------|
| 180 | 144 | 225 | 12 | 15 | 2010 |
| 238 | 196 | 289 | 14 | 17 | 2011 |
| 238 | 196 | 289 | 14 | 17 | 2012 |
| 272 | 256 | 289 | 16 | 17 | 2013 |
| 340 | 289 | 400 | 17 | 20 | 2014 |
| 374 | 289 | 484 | 17 | 22 | 2015 |
| 480 | 400 | 576 | 20 | 24 | 2016 |
| 528 | 484 | 576 | 22 | 24 | 2017 |
| 648 | 576 | 729 | 24 | 27 | 2018 |
| 700 | 625 | 784 | 25 | 28 | 2019 |
| 3 998 | 3 455 | 4 641 | 181 | 211 | المجموع |

يكون لدينا:

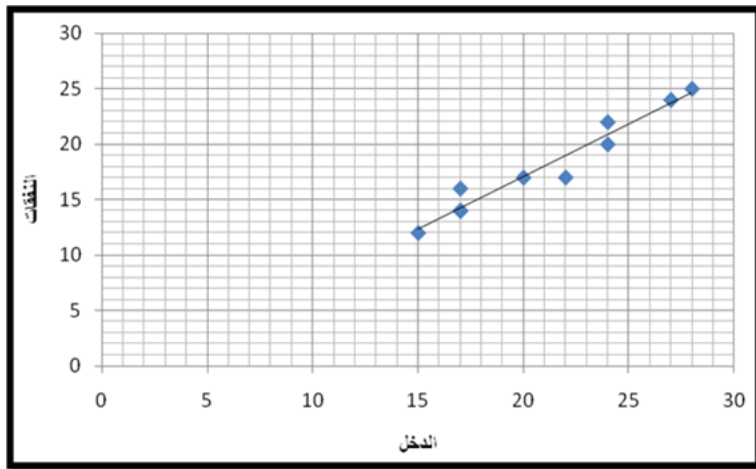
$$\bar{X} = \frac{\sum_{i=1}^n X_i}{n} = \frac{211}{10} = 21.1 \quad \text{و} \quad \bar{Y} = \frac{\sum_{i=1}^n Y_i}{n} = \frac{181}{10} = 18.1$$

$$\hat{b} = \frac{\sum_{i=1}^n X_i Y_i - n \bar{X} \bar{Y}}{\sum_{i=1}^n X_i^2 - n \bar{X}^2} = \frac{3998 - 10 \times 21.1 \times 18.1}{4641 - 10 \times 21.1^2} = 0.94$$

وباستعمال قيمة في علاقة التالية: $\hat{a} = 18.1 - 0.94 \times 21.1 = -1.73$

ومنه تصبح العلاقة المقدرة بين النفقات والدخل كالتالي: $Y_i = -1.73 + 0.94X_i + e_i$

(2) رسم المستقيم الذي يمثل المعادلة أو النموذج:



(3) حساب معامل الارتباط:

$$r = \frac{\sum_{i=1}^n X_i Y_i - n\bar{X}\bar{Y}}{\sqrt{\sum_{i=1}^n X_i^2 - n\bar{X}^2} \times \sqrt{\sum_{i=1}^n Y_i^2 - n\bar{Y}^2}} = \frac{3998 - 10 \times 21.1 \times 18.1}{\sqrt{4641 - 10 \times 21.1^2} \times \sqrt{3455 - 10 \times 18.1^2}} = 0.97$$

نلاحظ قوة الارتباط بين المتغيرين تقدر بـ 97% وهي علاقة قوية وموجبة.

V. الأرقام القياسية (Index numbers)

1. مفهوم الرقم القياسي

هناك الكثير من الظواهر المتغيرة التي تحدث في أزمنة مختلفة أو أماكن مختلفة مثل أسعار سلعة معينة أو أسعار خدمات أو عدد العمال، وقد نحتاج إلى مقارنة ظاهرة أو أكثر في زمان أو مكان معينين بمثلها في زمان أو مكان آخر وذلك لإظهار التغيرات التي تحدث أو تطرأ على الظواهر نتيجة اختلاف الزمان أو المكان، فتجري هذه المقارنة لإيجاد نسبة نسميها الرقم القياسي فإذا نسبنا قيمة ظاهرة ما في زمان معين إلى قيمتها في زمان آخر نتخذه أساساً فيسمى هذا الزمان فترة الأساس ونسبنا قيمة الظاهرة ما في زمان معين إلى قيمتها في مكان آخر نتخذه أساساً أو نعتبره مكان الأساس ونسبنا القيمة الأولى بمكان المقارنة، ويطبق على الأرقام في كل من الحالتين باسم الأرقام القياسية فالرقم القياسي هو عدد يقارن به التغير النسبي الذي يطرأ على أي قيمة ظاهرة نظراً لاختلاف الزمان والمكان، وتستعمل الأرقام القياسية مثلاً في مجال أسعار السلع أو في الكمية المطلوبة، المنتج السنوي، صادرات البترول، الاستهلاك السنوي لسلعة معينة، إلخ، ويعرف الرقم القياسي بالعلاقة التالية:

$$I_{t/b} = \frac{G_t}{G_b} \times 100\%$$

حيث: هي القيمة في الزمن t (فترة الدراسة أو المقارنة)، و هي القيمة في الزمن b (فترة الأساس).

ملاحظة:

تكون قيمة الرقم القياسي دائماً في سنة الأساس أو في مكان الأساس 100 (وتقارن النتيجة مع العدد 100 فإذا كانت أكبر من 100 فيعني زيادة أو ارتفاع وإذا كانت أقل من 100 يعني انخفاض).

أمثلة

(1) سعر 1 كغ من اللحم في الجزائر هو 900 دج في سنة 2000، و 1200 دج في سنة 2019، وإذا حسبنا نسبة التغير في سعر 1 كغ من اللحم في سنة 2019 مقارنة بسنة 2000 نجد:

$$I_{2019/2000} = \frac{1200}{900} \times 100\% = 133\%$$

ومن خلال هذه النتيجة نعتبر أن سعر 1 كغ من مادة اللحم ارتفع بنسبة 33% في سنة 2019 مقارنة بسنة 2000.

(2) سعر 1 كغ من السكر في بلد ما هو 60 دج في سنة 2000، و 40 دج في سنة 2019، وإذا حسبنا نسبة التغير في سعر 1 كغ من السكر في سنة 2019 مقارنة بسنة 2000 نجد:

$$I_{2019/2000} = \frac{40}{60} \times 100\% = 66\%$$

ومن خلال هذه النتيجة نعتبر أن سعر 1 كلغ من مادة السكر انخفض بنسبة 34% في سنة 2019 مقارنة بسنة 2000 في هذا البلد.

2. خصائص الأرقام القياسية

أ. خاصية المطابقة: $I_{t/t} = \frac{G_t}{G_t} \times 100\% = 100\%$

ب. خاصية الانعكاس: $I_{t/b} = \frac{G_t}{G_b} \times 100\% = \frac{1}{\frac{G_b}{G_t} \times 100\%} = \frac{1}{I_{b/t}}$

وعليه يكون: $I_{t/b} \times I_{b/t} = \frac{G_t}{G_b} \times \frac{G_b}{G_t} \times 100\% = 1$

ت. خاصية قابلية التحول:

إذا كانت لدينا القيم التالية: G_1 ، G_2 و G_3 أي القيم في الأزمنة 1، 2 و 3 يلاحظ أن:

$$I_{3/1} = \frac{G_3}{G_1} \times 100\% = \frac{G_3}{G_2} \times \frac{G_2}{G_1} \times 100\% = I_{3/2} \times I_{2/1}$$

3. الرقم القياسي التجميعي

1.3 الرقم القياسي التجميعي البسيط

يستعمل الرقم القياسي التجميعي البسيط مثلاً في قياس التغير العام لأسعار وهذا بتجميع الأسعار الفعلية في السنة المدروسة (فترة المقارنة) ونسبتها إلى مجموع أسعار المواد نفسها في سنة الأساس، ويعرف بالعلاقة التالية:

$$I_{t/b} = \frac{\sum_{i=1}^k P_{it}}{\sum_{i=1}^k P_{ib}} \times 100\%$$

حيث أنهو رقم السلعة، و P_t هو سعر السلعة في سنة الدراسة أو المقارنة، وهو سعر السلعة في سنة الأساس.

مثال

يبين الجدول التالي أسعار بعض المواد الأساسية في الجزائر وهذا في السنتين 2010 و 2019.

| المادة | الوحدة | سعر سنة 2010 | سعر سنة 2019 |
|--------|--------|--------------|--------------|
|--------|--------|--------------|--------------|

| | | | |
|---------|-------|---------|---------|
| السكر | 1 كلغ | 60 دج | 70 دج |
| الحليب | 1 كلغ | 250 دج | 300 دج |
| اللحم | 1 كلغ | 90 دج | 1200 دج |
| المجموع | - | 1210 دج | 1570 دج |

وبحساب الرقم القياسي التجميعي البسيط لهذه السلع (مقارنة المستوى العام للأسعار للمواد الأساسية لسنة 2019 بالمستوى العام لأسعار هذه المواد لسنة الأساس 2010):

$$I_{2019/2010} = \frac{\sum_{i=1}^3 P_{i2019}}{\sum_{i=1}^3 P_{i2010}} \times 100\% = \frac{1570}{1210} \times 100\% = 129.75$$

باعتبار أن المستوى العام للأسعار في سنة الأساس 2010 هو 100، يمكن القول أن المستوى العام للأسعار للمواد الأساسية لسنة 2019 مقارنة بسنة الأساس ارتفع بنسبة حوالي 30%.

2.3 الرقم القياسي التجميعي المرجح

يستعمل الرقم القياسي التجميعي المرجح في قياس التغير العام للأسعار أو الكميات، وهذا بترجيح أسعار أو كميات كل سلعة باستخدام معامل معين، ويعرف بالعلاقة التالية:

$$I_{t/b} = \frac{\sum_{i=1}^k P_{it} \times Q_{it}}{\sum_{i=1}^k P_{ib} \times Q_{ib}} \times 100\%$$

حيث هو حاصل جداء سعر السلعة في الكمية المطلوبة منها في الفترة، و $(P_{ib} \times Q_{ib})$ هو حاصل جداء سعر السلعة في الكمية المطلوبة منها في الفترة.

4. الأرقام التجميعية المرجحة المستعملة

1.4 الرقم القياسي للاسبير (Laspeyres)

أ. الرقم القياسي للاسبير للأسعار

يعرف الرقم القياسي بالنسبة للاسبير بالعلاقة التالية:

$$I_{t/b}(P) = \frac{\sum_{i=1}^k P_{it} \times Q_{ib}}{\sum_{i=1}^k P_{ib} \times Q_{ib}} \times 100\%$$

ب. الرقم القياسي للاسبير للكميات

يعرف الرقم القياسي للكميات بالنسبة للاسبير بالعلاقة التالية:

$$I_{t/b}(Q) = \frac{\sum_{i=1}^k P_{ib} \times Q_{it}}{\sum_{i=1}^k P_{ib} \times Q_{ib}} \times 100\%$$

2.4 الرقم القياسي لباش (Paasche)

أ. الرقم القياسي لباش للأسعار

يعرف الرقم القياسي للأسعار بالنسبة لباش بالعلاقة التالية:

$$I_{t/b}(P) = \frac{\sum_{i=1}^k P_{it} \times Q_{it}}{\sum_{i=1}^k P_{ib} \times Q_{it}} \times 100\%$$

ب. الرقم القياسي لباش للكميات

يعرف الرقم القياسي بالنسبة لباش للكميات بالعلاقة التالية :

$$I_{t/b}(Q) = \frac{\sum_{i=1}^k P_{it} \times Q_{it}}{\sum_{i=1}^k P_{it} \times Q_{ib}} \times 100\%$$

3.4 الرقم القياسي لفيشر (Fischer)

إن الرقم القياسي لفيشر هو الوسط الهندسي للرقمين القياسيين لاسبير و باش.

أ. الرقم القياسي لفيشر للأسعار:

يعرف الرقم القياسي للأسعار بالنسبة لفيشر بالعلاقة التالية:

$$F_{t/b}(P) = \sqrt{I_{t/b}(P)_{Laspeyres} \times I_{t/b}(P)_{Paasche}}$$

ب. الرقم القياسي لفيشر للكميات

يعرف الرقم القياسي للكميات لفيشر بالعلاقة التالية:

$$F_{t/b}(Q) = \sqrt{I_{t/b}(Q)_{Laspeyres} \times I_{t/b}(Q)_{Paasche}}$$

مثال

ليكن لدينا الجدول التالي والذي يمثل المعطيات الخاصة بأسعار وكميات الطلب على المواد الغذائية (الحليب، السكر، اللحم) وفي السنوات 2000، 2010، 2019 والمتعلقة بمنطقة الجزائر العاصمة:

| الكميات (بالمليون) | السعر (دج) | المواد | الفترات |
|--------------------|------------|---------------------|---------|
| 05 | 20 | الحليب (التر) | 2000 |
| 02 | 35 | السكر (الكيلو غرام) | |
| 1.5 | 800 | اللحم (الكيلو غرام) | |
| 5 | 30 | الحليب (التر) | 2010 |
| 2.5 | 40 | السكر (الكيلو غرام) | |
| 2 | 1000 | اللحم (الكيلو غرام) | |
| 10 | 35 | الحليب (التر) | 2019 |
| 3 | 70 | السكر (الكيلو غرام) | |
| 3 | 1200 | اللحم (الكيلو غرام) | |

VI. مسائل وتمارين مع الحل

1. الجداول الإحصائية، التمثيل البياني

التمرين (01)

(1) ماهي القواعد الواجب إتباعها الأساسية عند إنشاء الجدول الإحصائي؟

(2) لتكن لدينا المتغيرات الإحصائية التالية:

| | | | | | | | |
|----|----|----|----|----|----|----|---|
| 7 | 6 | 5 | 4 | 3 | 2 | 1 | x |
| 8 | 7 | 5 | 5 | 4 | 4 | 3 | y |
| 14 | 14 | 13 | 13 | 12 | 11 | 10 | z |

المطلوب: حساب ماييلي:

$$\sum_{i=1}^n (x_i + y_i)^2, \ln \left(\prod_{i=1}^n x_i \right), \sum_{i=1}^n x_i^2, \sum_{i=1}^n y_i^2, \sum_{i=1}^n x_i \times y_i, \sum_{i=1}^n x_i, \sum_{i=1}^n y_i$$

الحل

(1) القواعد التي يجب إتباعها عند إنشاء الجدول الإحصائي هي كالتالي:

- عنوان واضح في أعلى الجدول يعكس محتواه من المتغيرات وبياناتها؛
- ذكر عنوان أو المتغير الخاص بكل عمود، مع وحدة القياس؛
- يجب أن تكون معطيات المتغيرات مرتبة ترتيبا تصاعديا؛
- ذكر مصدر المعطيات في أسفل الجدول.

(2) سنستعمل الجدول الإحصائي لحساب المجاميع:

| | | | | | |
|-----------|------------------|---------|---------|-------|-------|
| $\ln x_i$ | $x_i \times y_i$ | y_i^2 | x_i^2 | y_i | x_i |
|-----------|------------------|---------|---------|-------|-------|

| | | | | | |
|-------------|------------|------------|------------|-----------|-----------|
| 0 | 3 | 9 | 1 | 3 | 1 |
| 0.69 | 8 | 16 | 4 | 4 | 2 |
| 1.09 | 12 | 16 | 9 | 4 | 3 |
| 1.38 | 20 | 25 | 16 | 5 | 4 |
| 1.6 | 25 | 25 | 25 | 5 | 5 |
| 1.79 | 42 | 49 | 36 | 7 | 6 |
| 1.94 | 56 | 64 | 49 | 8 | 7 |
| 8.52 | 166 | 204 | 140 | 36 | 28 |

يكون: $\sum_{i=1}^n x_i^2 = 140$ ، $\sum_{i=1}^n y_i^2 = 204$ ، $\sum_{i=1}^n x_i \times y_i = 166$ ، $\sum_{i=1}^n x_i = 28$ ، $\sum_{i=1}^n y_i = 36$

$$\ln \left(\prod_{i=1}^n x_i \right) = \sum_{i=1}^n \ln x_i = 8.52 \quad , \quad \sum_{i=1}^n (x_i + y_i)^2 = \sum_{i=1}^n x_i^2 + \sum_{i=1}^n y_i^2 + 2 \sum_{i=1}^n x_i y_i = 140 + 204 + 2 \times 166 = 676$$

التمرين (02)

(1) رتب قيم المتغير x_i الذي يمثل عدد الأولاد في الأسرة والذي حددت قيمه بعد اختيار 24 أسرة في جدول

إحصائي: 4 2 6 5 4 3 0 1 6 8 7 6 3 2 1 0 4 3 4 3 2 1 0 4

(2) ليكن لدينا توزيع أوزان طلبة السنة أولى جذع مشترك تخصص علوم اقتصادية، الوحدة: كلغ وهي كالتالي:

75 72 58 59 61 62 60 56 44 43 45 50 45 61 60 50 70 80 90 80 70 70 50
55 77 80 60 66 45 42 44 45 66 55 88 63 90 62 75 80 70 55 50 60 70 85
.63 58 56 55 45 42 44

المطلوب: ترتيب هذه المعطيات في جدول إحصائي و ذلك باستعمال طريقة (STURGE) في تحديد أطوال الفئات.

الحل

(1) ترتيب قيم المتغير x_i

| عدد الأولاد X_i | التكرار المطلق: عدد الأسر n_i | التكرار النسبي f_i |
|-------------------|---------------------------------|----------------------|
| 0 | 3 | 0.125 |
| 1 | 3 | 0.125 |
| 2 | 3 | 0.125 |
| 3 | 4 | 0.166 |
| 4 | 5 | 0.20 |
| 5 | 1 | 0.041 |
| 6 | 3 | 0.125 |

| | | |
|-------|----|---------|
| 0.041 | 1 | 7 |
| 0.041 | 1 | 8 |
| 1 | 24 | المجموع |

(2) ترتيب البيانات حسب طريقة (STURGE):

$$a = \frac{E}{1 + 1.33 \times \ln(N)}$$

لدينا العلاقة التالية:

E هو المدى العام وهو الفرق بين الحد الأقصى والحد الأدنى لقيم المتغير الإحصائي:

$$E = X_{\max} - X_{\min} = 90 - 42 = 48$$

$$a = \frac{E}{1 + 1.33 \times \ln(N)} = \frac{48}{1 + 1.33 \times \ln(50)} = 7.7 \cong 8$$

يكون:

عنوان جدول توزيع أوزان طلبة السنة أولى جذع مشترك تخصص علوم اقتصادية: الوحدة: كلغ

| عدد الطلبة (التكرار) n_i | الأوزان X_i |
|----------------------------|---------------|
| 11 | 50-42 |
| 9 | 58-50 |
| 12 | 64-58 |
| 6 | 72-64 |
| 4 | 80-72 |
| 5 | 88-80 |
| 3 | 96-88 |
| 50 | المجموع |

التمرين (03)

المعطيات التالية تمثل أطوال حياة خمسين بطارية سيارة (الوحدة شهر): 38 39 35 34 28 29 25 26 26 25 27 33 31 32 30 32 31 33 30 34 31 31 30 33 34 32 31 30 34 48 44 49 40 45 41 39 43 38 42 37 44 36 40 35 36 37 35 39 36 37

المطلوب:

- حدد المجتمع الإحصائي، الوحدة الإحصائية المتغير الإحصائي وطبيعته؟
- رتب المعطيات السابقة في جدول إحصائي (عدد الفئات يساوي 5).
- أحسب التكرار النسبي و التكرار التجميعي الصاعد والنازل (مع العرض البياني لهما).
- مثل بيانيا معطيات الجدول الإحصائي.

الحل

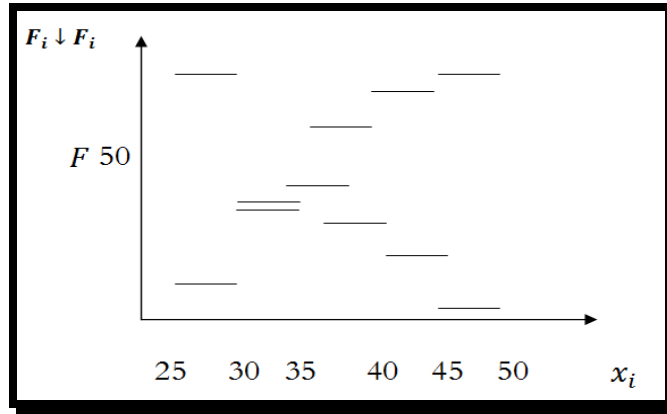
(1) المجتمع الإحصائي هو بطاريات السيارات، الوحدة الإحصائية بطارية سيارة، المتغير حياة البطارية بالأشهر x_i ، طبيعتها كمي مستمر.

$$(2) \text{ تحديد طول الفئة بالعلاقة التالية: } a = \frac{E}{5} = \frac{49-25}{5} 4.8 \cong 5$$

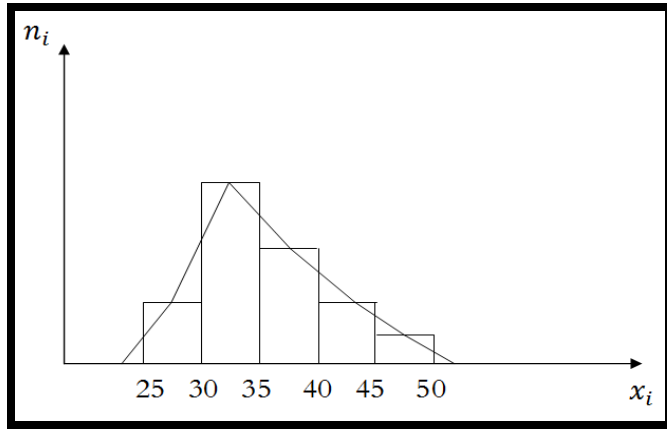
(3) العنوان: توزيع حياة 50 بطارية سيارة. الوحدة: شهر

| التكرار التجميعي النازل $F_i \downarrow$ | التكرار التجميعي الصاعد $F_i \uparrow$ | التكرار النسبي f_i | التكرار: عدد البطاريات n_i | حياة البطارية X_i |
|---|---|-------------------------|---------------------------------|------------------------|
| 50 | 7 | 0.14 | 7 | 30--25 |
| 43 | 26 | 0.38 | 19 | 35--30 |
| 24 | 40 | 0.28 | 14 | 40--35 |
| 10 | 47 | 0.14 | 7 | 45--40 |
| 3 | 50 | 0.06 | 3 | 50--45 |
| - | - | 1 | 50 | المجموع |

العرض البياني للتكرار المتجمع الصاعد والنازل:



(3) التمثيل البياني المناسب هو المدرج التكراري والمضلع التكراري



ملاحظة: نلاحظ أن مساحة المضلع التكراري هي نفس مساحة المدرج التكراري.

التمرين (04)

يبين الجدول التالي أعداد الطلبة من مختلف الاختصاصات الذين تقدموا لامتحان شهادة الثانوية خلال السنوات: 2020-2019-2018

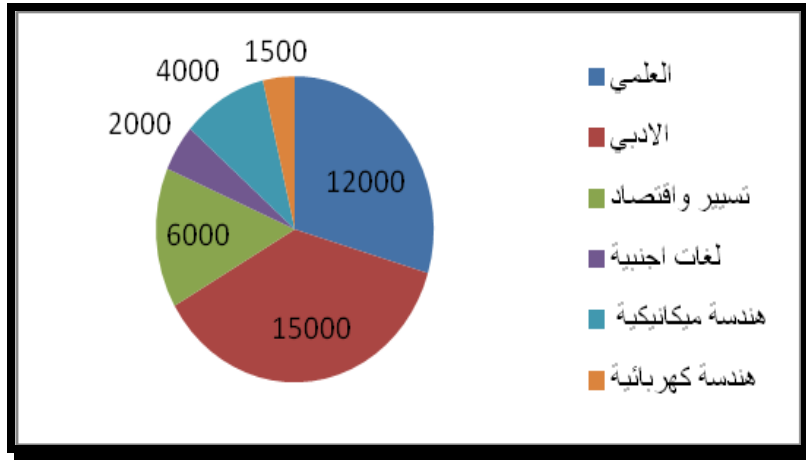
| عدد الطلبة خلال السنوات | | | | الفرع / السنة |
|-------------------------|-------|-------|-------|-----------------|
| المجموع | 2020 | 2019 | 2018 | |
| 47000 | 20000 | 15000 | 12000 | علمي |
| 55000 | 22000 | 18000 | 15000 | أدي |
| 25000 | 1000 | 9000 | 6000 | تسيير واقتصاد |
| 9200 | 4200 | 3000 | 2000 | لغات أجنبية |
| 17000 | 7000 | 6000 | 4000 | هندسة ميكانيكية |
| 5600 | 2300 | 1800 | 1500 | هندسة كهربائية |
| 158800 | 65500 | 52800 | 40500 | المجموع |

المطلوب: تمثيل معطيات الجدول بيانياً؟

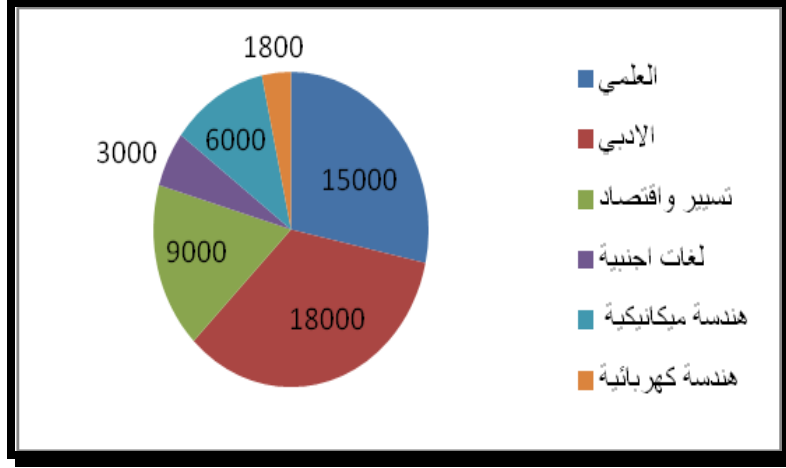
الحل

سنستعمل طريقة الدائرة وهي الأفضل مادام المتغير طبيعته كيفي.

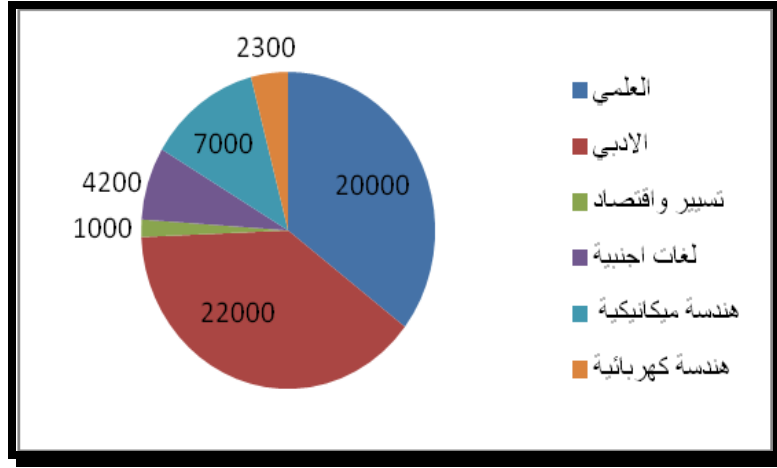
عنوان الشكل عداد الطلبة من مختلف الاختصاصات الذين تقدموا لامتحان الشهادة الثانوية خلال سنة 2018:



عنوان الشكل عداد الطلبة من مختلف الاختصاصات الذين تقدموا لامتحان الشهادة الثانوية خلال سنة 2019



عنوان الشكل عدد الطلبة من مختلف الاختصاصات الذين تقدموا لامتحان الشهادة الثانوية خلال سنة 2020



التمرين (05)

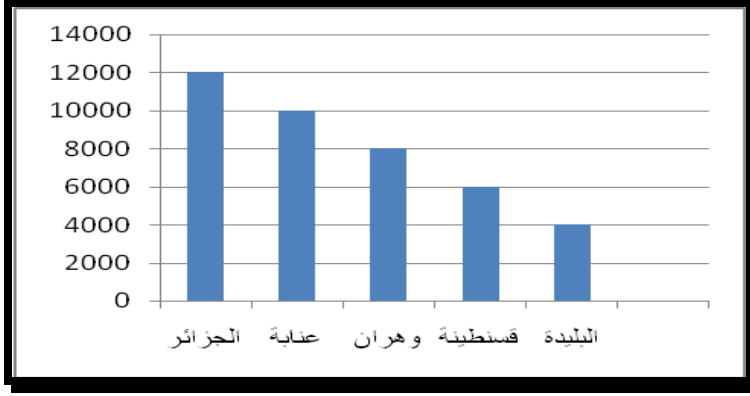
يظهر الجدول التالي عدد المهندسين المتقدمين لامتحان مسابقة توظيف في إحدى المعاهد المتخصصة من خمس ولايات جزائرية:

| الولايات | الجزائر | عنابة | وهران | قسنطينة | البلدية | المجموع |
|------------|---------|-------|-------|---------|---------|---------|
| عدد الطلبة | 12000 | 10000 | 8000 | 6000 | 4000 | 40000 |

المطلوب: التمثيل البياني لمعطيات الجدول.

الحل

بإمكاننا استعمال طريقة الأعمدة المستطيلة وهي الأفضل مادام المتغير طبيعته كيفي.



التمرين (06)

يمثل الجدول التالي توزيع 100 طالب حسب معاملات الذكاء:

| التكرار n_i | الفئات X_i |
|---------------|----------------|
| 4 | 60-50 |
| 7 | 70-60 |
| 10 | 80-70 |
| 14 | 90-80 |
| 17 | 100-90 |
| 21 | 110-100 |
| 23 | 120-110 |
| 4 | 130-120 |
| 100 | المجموع |

المطلوب:

- أحسب التكرار النسبي والتكرار التجميعي الصاعد والنازل (ثم مثل ذلك بيانيا).
- ماهي نسبة الطلبة الذين لديهم معدل ذكاء: ما بين 90 و 100، ما بين 100 و 110، ما بين 110 و 120، ما بين 120 و 130، ما بين 130 و 100 على الأكثر، 90 على الأقل، 100 على الأقل، 110 على الأقل، لا يقل معامل الذكاء لديهم عن 90؟
- مثل معطيات الجدول بيانيا.

الحل

(1) حساب التكرار النسبي والتكرار التجميعي الصاعد والنازل:

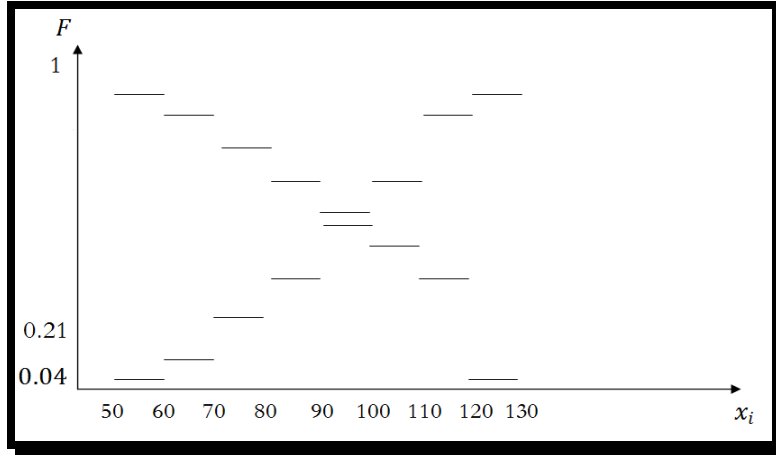
| التكرار النسبي التجميعي النازل $f_i \downarrow$ | التكرار النسبي التجميعي الصاعد $f_i \uparrow$ | التكرار النسبي f_i | التكرار التجميعي النازل $F_i \downarrow$ | التكرار التجميعي الصاعد $F_i \uparrow$ | التكرار: عدد الطلبة n_i | معدل الذكاء X_i |
|--|--|----------------------|---|---|---------------------------------|----------------------|
| 1 | 0.04 | 0.04 | 100 | 4 | 4 | 60-50 |
| 0.96 | 0.11 | 0.07 | 96 | 11 | 7 | 70-60 |
| 0.89 | 0.21 | 0.1 | 89 | 21 | 10 | 80-70 |
| 0.79 | 0.35 | 0.14 | 79 | 35 | 14 | 90-80 |

| | | | | | | |
|------|------|----------|----|-----|------------|---------|
| 0.65 | 0.52 | 0.17 | 65 | 52 | 17 | 100-90 |
| 0.48 | 0.73 | 0.21 | 48 | 73 | 21 | 110-100 |
| 0.27 | 0.96 | 0.23 | 27 | 96 | 23 | 120-110 |
| 0.04 | 1 | 0.04 | 4 | 100 | 4 | 130-120 |
| - | - | 1 | - | - | 100 | المجموع |

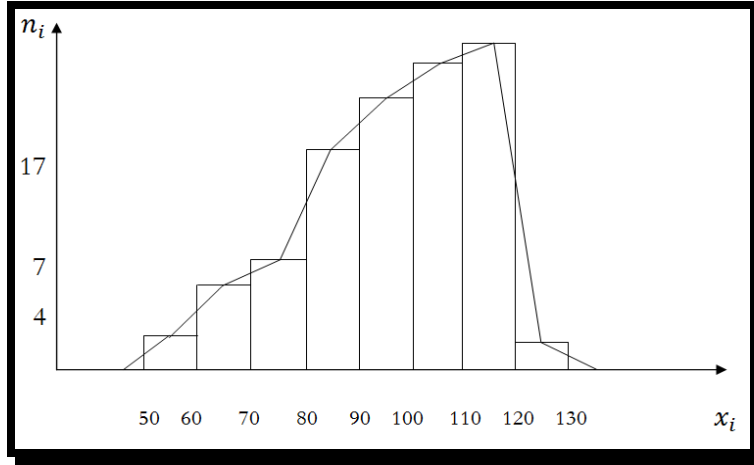
(2) حساب نسبة الطلبة الذين لديهم معدل ذكاء:

- نسبة الطلبة الذين لديهم معدل ذكاء ما بين 90 و 100 هي: 17%.
- نسبة الطلبة الذين لديهم معدل ذكاء ما بين 120 و 130 هي: 4%.
- نسبة الطلبة الذين لديهم معدل ذكاء 100 على الأكثر هي: 52% (مقابل التكرار التجميعي الصاعد).
- نسبة الطلبة الذين لديهم معدل ذكاء 90 على الأكثر هي: 35% (مقابل التكرار التجميعي الصاعد).
- نسبة الطلبة الذين لديهم معدل ذكاء 100 على الأقل هي: 48% (مقابل التكرار التجميعي النازل).
- نسبة الطلبة الذين لديهم معدل ذكاء 110 على الأقل هي: 27% (مقابل التكرار التجميعي النازل).
- نسبة الطلبة الذين لا يقل معامل الذكاء لديهم عن 90 هي 65%.

العرض البياني للتكرار المتجمع الصاعد والنازل:



(3) التمثيل البياني المناسب هو المدرج التكراري والمضلع التكراري:



التمرين (07)

ليكن لدينا معطيات المتغير الإحصائي X والموضح في الجدول في الجدول التالي:

| الفئات | 22-20 | 20-18 | 18-12 | 12-10 | 10-8 | 8-4 | 4-2 | المجموع |
|---------|-------|-------|-------|-------|------|-----|-----|---------|
| التكرار | 3 | 6 | 21 | 10 | 7 | 10 | 3 | 50 |

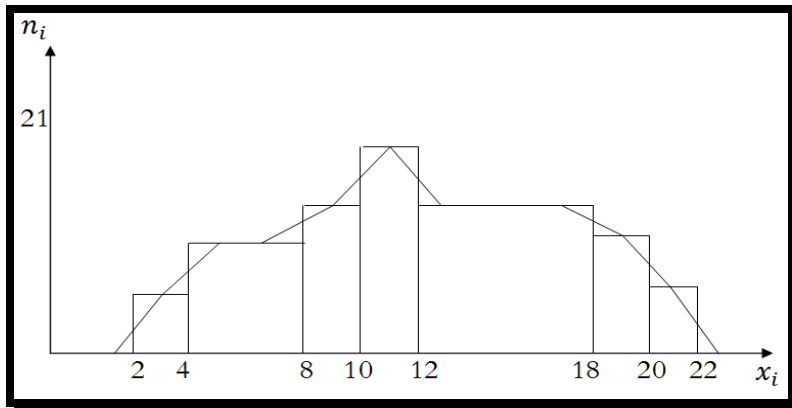
المطلوب: التمثيل البياني لقيم المتغير X .

الحل

نلاحظ أن أطوال الفئات غير متساوي وبالتالي يجب تصحيح التكرار بطريقة قسمة تكرار الفئات التي طولها من مضاعفات العدد 2 على قيمة المضاعف (طول أغلب الفئات هو العدد 2 ونبقي على تكرار الفئات التي طولها 2 كما هو). مثلا الفئة الخامسة 18-12 طولها هو العدد 6 أي 3×2 وبالتالي يجب قسمة تكرار هذه الفئة على العدد 3 ويصبح التكرار المصحح هو $21/3=7$.

| الفئات | 22-20 | 20-18 | 18-12 | 12-10 | 10-8 | 8-4 | 4-2 | المجموع |
|----------------|-------|-------|------------------|-------|------|------------------|-----|---------|
| التكرار | 3 | 6 | 21 | 10 | 7 | 10 | 3 | 50 |
| التكرار المصحح | 3 | 6 | $\frac{21}{3}=7$ | 10 | 7 | $\frac{10}{2}=5$ | 3 | 41 |

وسنرسم المدرج التكراري انطلاقا من معطيات التكرار المصحح.



2. مقياس الترتبة المركزية

التمرين (01)

ليكن لدينا الجدول الإحصائي التالي والذي يمثل توزيع عمال شركة ما حسب الأجر: الوحدة: 10^3 دج

| الأجر X | 30-25 | 35-30 | 40-35 | 45-40 | المجموع |
|--------------------------|-------|-------|-------|-------|---------|
| عدد العمال التكرار n_i | 7 | 10 | 16 | 7 | 50 |

المطلوب:

- حدد المجتمع الإحصائي، الوحدة الإحصائية، المتغير الإحصائي وطبيعته؟
- ما هو متوسط الأجر في هذه المؤسسة؟
- ما هو الأجر الذي يتقاضونه أكثر من 50 بالمائة من العمال وحدده بيانيا؟
- ما هو الأجر السائد في هذه المؤسسة (حدده بيانيا)؟
- مثل معطيات الجدول في شكل بياني مناسب.

الحل

- المجتمع الإحصائي هو عمال الشركة، الوحدة الإحصائية عامل، المتغير الأجر، طبيعتها كمي مستمر.
- حساب متوسط أجر في هذه المؤسسة، نحسب المتوسط الحسابي.

$$\bar{X} = \sum_{i=1}^n f_i \times x_i \quad \text{أو} \quad \bar{X} = \frac{\sum_{i=1}^n n_i \times x_i}{N}$$

حيث نستعمل مراكز الفئات C_i .

| $F \uparrow$ | $f_i \times C_i$ | $n_i \times C_i$ | مركز الفئة C_i | التكرار النسبي f_i | التكرار: عدد العمال n_i | الأجر X_i |
|--------------|------------------|------------------|------------------|----------------------|---------------------------|-------------|
| 7 | 4.81 | 192.5 | 27.5 | 0.175 | 7 | 30-25 |
| 17 | 8.125 | 325 | 32.5 | 0.250 | 10 | 35-30 |
| 33 | 15 | 600 | 37.5 | 0.400 | 16 | 40-35 |
| 40 | 7.43 | 297.5 | 42.5 | 0.175 | 7 | 45-40 |
| - | 35.36 | 1415 | - | 1 | 40 | المجموع |

$$\bar{X} = \sum_{i=1}^n f_i \times x_i = 35.36 \quad \text{أو} \quad \bar{X} = \frac{\sum_{i=1}^n n_i \times x_i}{N} = \frac{1415}{40} = 35.36$$

- الأجر الذي يتقاضونه أكثر من 50 بالمائة من العمال وتحديد بيانيا (يعني حساب الوسيط):

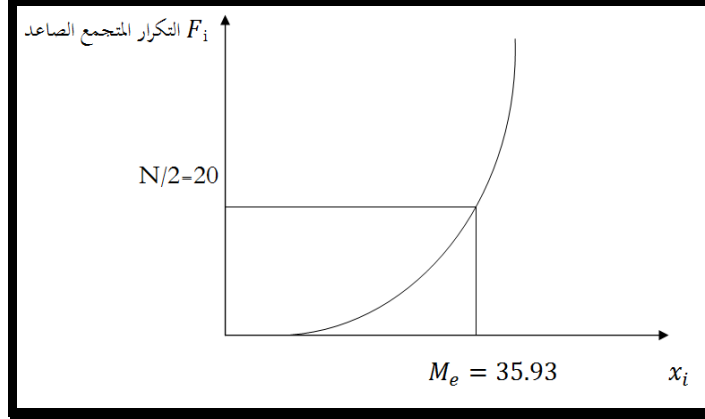
نستعمل لحساب الوسيط العلاقة الرياضية التالية:

$$M_e = e_{i-1} + a_i \times \left(\frac{N/2 - F_{i-1}}{n_i} \right)$$

كما يجب حساب التكرار المتجمع الصاعد، وهذا لتحديد الفئة الوسيطة، حيث هذه الفئة تقابل $N/2=20$ أو الأكبر منه مباشرة في عمود التكرار المتجمع الصاعد. (لا يوجد العدد 20 لكن الأكبر منه مباشرة هو 33)، أي أن الفئة 35-40 هي الفئة الوسيطة.

$$M_e = e_{i-1} + a_i \times \left(\frac{N/2 - F_{i-1}}{n_i} \right) = 35 + 5 \times \left(\frac{20 - 17}{16} \right) = 35.93$$

ومنه نعتبر أن 50 بالمائة من العمال يتقاضون أجراً أقل من 35 930 دج والباقي أي 50 بالمائة الأخرى أجراً يفوق 93035 دج.



(4) الأجر السائد في هذه الشركة مع تحديده بيانياً (يعني حساب المنوال):

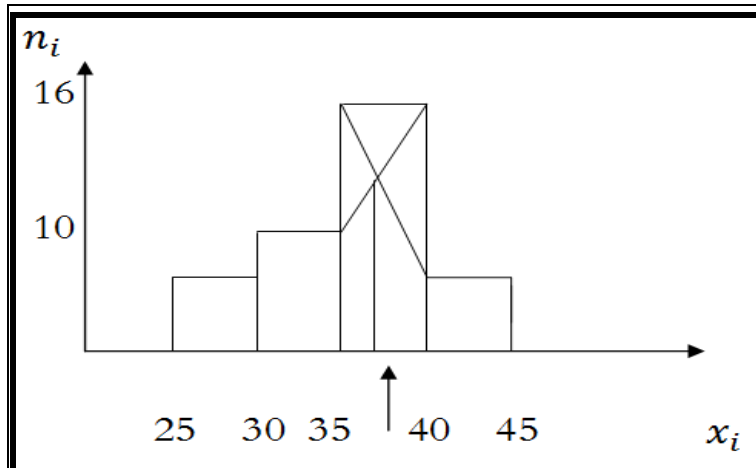
نستعمل لحساب المنوال العلاقة الرياضية التالية:

$$M_o = e_{i-1} + a_i \times \left(\frac{\alpha_1}{\alpha_1 + \alpha_2} \right)$$

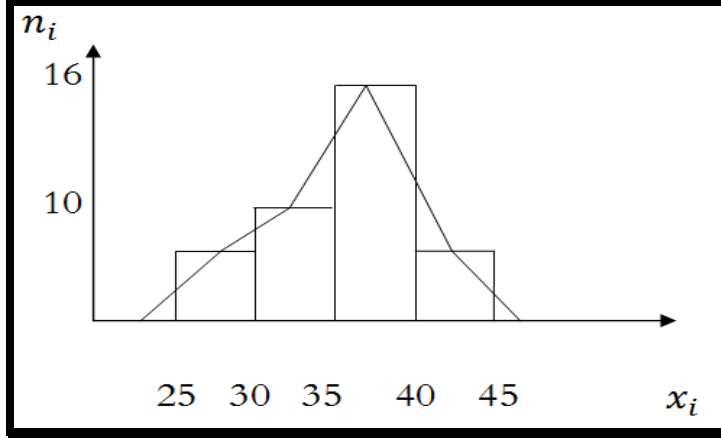
يجب تحديد الفئة المنوالية، حيث هذه الفئة تقابل أعلى تكرار وهو 16، (أي الفئة المنوالية 35-40)

$$M_o = e_{i-1} + a_i \times \left(\frac{\alpha_1}{\alpha_1 + \alpha_2} \right) = 35 + 5 \times \left[\frac{16 - 10}{(16 - 10) + (16 - 7)} \right] = 37$$

ومنه اغلب العمال يتقاضون أجراً يقارب 37 000 دج.



(5) تمثيل معطيات الجدول في شكل بياني مناسب (المدرج والمضلع التكراري):



التمرين (02)

ليكن لدينا معطيات المتغير X كما هو موضح في الجدول التالي:

| الفئات | 20-10 | 30-20 | 50-30 | 80-50 | 90-80 | المجموع |
|---------------|-------|-------|-------|-------|-------|---------|
| التكرار n_i | 10 | 13 | 47 | 33 | 17 | 120 |

المطلوب: حساب الوسيط، المنوال، الربع الأول والثالث، العشير الأول والمئيني 55.

الحل

| الفئات | التكرار n_i | التكرار المتجمع الصاعد $F \uparrow$ | التكرار المصحح n'_i |
|---------|---------------|-------------------------------------|-----------------------|
| 20-10 | 10 | 10 | 10 |
| 30-20 | 13 | 23 | 13 |
| 50-30 | 47 | 70 | 47/2=23.5 |
| 80-50 | 33 | 103 | 33/3=11 |
| 90-80 | 17 | 120 | 17 |
| المجموع | 120 | -- | -- |

■ حساب الوسيط: لدينا الفئة الوسيطة هي: 50-30

$$M_e = e_{i-1} + a_i \times \left(\frac{N/2 - F_{i-1}}{n_i} \right) = 30 + 20 \times \left(\frac{60 - 23}{47} \right) = 45.74$$

■ حساب المنوال: بعد تصحيح التكرار تبقى الفئة المنوالية: هي 50-30

$$M_o = e_{i-1} + a_i \times \left(\frac{\alpha_1}{\alpha_1 + \alpha_2} \right) = 30 + 10 \times \left[\frac{23.5 - 13}{(23.5 - 13) + (23.5 - 11)} \right] = 34.56$$

■ حساب الربع الأول: فئة الربع الأول هي: 50-30

$$Q_1 = e_{i-1} + a_i \times \left(\frac{N/4 - F_{i-1}}{n_i} \right) = 30 + 20 \times \left(\frac{30 - 23}{47} \right) = 32.97$$

■ حساب الربع الثالث: فئة الربع الثالث هي: 50-80

$$Q_3 = e_{i-1} + a_i \times \left(\frac{3N/4 - F_{i-1}}{n_i} \right) = 50 + 30 \times \left(\frac{90 - 70}{33} \right) = 68.18$$

■ حساب العشير الأول: فئة العشير الأول: 20-30

$$D_1 = e_{i-1} + a_i \times \left(\frac{N/10 - F_{i-1}}{n_i} \right) = 20 + 10 \times \left(\frac{12 - 10}{13} \right) = 21.53$$

■ حساب المئبي 55: فئة المئبي 55 هي: 30-50

$$P_{55} = e_{i-1} + a_i \times \left(\frac{55N/100 - F_{i-1}}{n_i} \right) = 30 + 20 \times \left(\frac{66 - 23}{47} \right) = 48.29$$

التمرين (03)

إذا علمت أن سرعة سيارة متجهة من المدينة أ إلى المدينة ب 56 كلم/سا وسرعتها من المدينة ب إلى المدينة ج 60 كلم/سا ومن المدينة ج إلى المدينة د 60 كلم/سا ومن المدينة د إلى المدينة هـ 75 كلم/سا.
المطلوب: أحسب متوسط سرعة السيارة من المدينة أ إلى المدينة هـ؟

الحل

نحسب هذا المتوسط باستعمال الوسط التوافقي (لأننا نحسب متوسط السرعات):

$$\bar{X}_H = \frac{N}{\sum_{i=1}^n \frac{n_i}{x_i}} = \frac{4}{\frac{1}{56} + \frac{2}{60} + \frac{1}{75}} = 61.99 \text{ km/h}$$

التمرين (04)

ليكن لدينا أسعار مادة مختارة من السوق في الفترة 2018-2020 حيث سعرها في سنة 2018 هو 45 دج وسعرها في سنة 2019 هو 60 دج، وأخيرا 80 دج في سنة 2020 وفي كل سنة كانت الميزانية المخصصة لشراء هذه المادة 500 دج. والمطلوب: حساب متوسط سعر هذه المادة خلال الفترة 2018-2020.

الحل

■ حساب متوسط السعر باستعمال الوسط التوافقي:

$$\bar{X}_H = \frac{N}{\sum_{i=1}^n \frac{n_i}{x_i}} = \frac{3}{\frac{1}{45} + \frac{1}{60} + \frac{1}{80}} = 58.37 \text{ DA}$$

■ حساب متوسط السعر من الجدول التالي (مع حساب عدد الكميات الممكن شراءها من ميزانية 500 دج):

$$\bar{X} = \frac{\sum_{i=1}^n n_i \times x_i}{N} = \frac{149975}{2569} = 58.37$$

| $x_i \times n_i$ | التكرار n_i | السعر X_i |
|------------------|---------------|-------------|
| 499.95 | 11.11=45/500 | 45 |
| 499.8 | 8.33=60/500 | 60 |
| 500 | 6.25=80/500 | 80 |
| 1499.75 | 25.69 | المجموع |

التمرين (05)

ليكن المتغير X يمثل أجور عمال الشركة في الجدول التالي: الوحدة 10^3 دج

| الأجر X_i | عدد العمال التكرار n_i | التكرار النسبي المتجمع الصاعد f_i^\uparrow |
|-------------|--------------------------|--|
| 7-5 | 6 | 0.04 |
| 11-7 | ... | 0.14 |
| 13-11 | ... | 0.44 |
| 15-13 | ... | 0.96 |
| 19-15 | ... | 1 |
| المجموع | | --- |

المطلوب:

- 1) أكمل معطيات هذا الجدول ثم أحسب الوسيط والمنوال.
- 2) هل هذا التوزيع متناظر؟

الحل

1) سنحسب التكرار النسبي أولاً في الجدول وتكون لدينا النتائج التالية:

| الأجر X_i | عدد العمال التكرار n_i | التكرار النسبي f_i | التكرار النسبي المتجمع الصاعد f_i^\uparrow | $x_i \times f_i$ |
|-------------|--------------------------|----------------------|--|------------------|
| 7-5 | 6 | 0.04 | 0.04 | 0.24 |
| 11-7 | 15 | 0.10 | 0.14 | 0.9 |
| 13-11 | 45 | 0.30 | 0.44 | 3.6 |
| 15-13 | 78 | 0.52 | 0.96 | 7.28 |
| 19-15 | 6 | 0.04 | 1 | 0.68 |
| المجموع | 150 | 1 | --- | 12.7 |

بما أن التكرار النسبي يحسب كما يلي:

$$f_i = n_i / N \Rightarrow N = n_i / f_i = 6 / 0.04 = 150$$

أي أن حجم العينة هو 150. وانطلاقاً من معطيات التكرار النسبي نحصل على التكرار المطلق $n_i = N \times f_i$ ونكمل الجدول.

(2) هل التوزيع الإحصائي متناظر؟

■ حساب الوسيط: الفئة الوسيطة هي التي تقابل 0.5 في التكرار المتجمع الصاعد وهي 13-15.

$$M_e = e_{i-1} + a_i \times \left(\frac{0.5 - f_{i-1}^{\uparrow}}{f_i} \right) = 13 + 2 \times \left(\frac{0.5 - 0.44}{0.52} \right) = 13.23$$

■ حساب المتوسط الحسابي: من خلال الجدول نجد أن: $\bar{X} = \sum_{i=1}^n f_i \times x_i = 12.7$

نلاحظ أن: $\bar{X} = 12.7 \neq M_e = 13.23$ وبالتالي التوزيع غير متناظر.

التمرين (06)

(1) حدد قيمة كل من α و β حتى تكون العلاقة التالية:

$$\varphi(x) = \left(\frac{\sum_{i=1}^n x_i^{\alpha}}{N} \right)^{\beta}$$

عبارة عن المتوسط الحسابي والوسط التريعي، المتوسط التوافقي.

(2) يبين الجدول التالي نتائج مسابقة الدخول إلى إحدى المعاهد المتخصصة بالجزائر العاصمة، حيث ترشح لهذه

المسابقة 200 طالب متحصل على شهادة البكالوريا.

| عدد الطلبة n_i | المعدلات X_i |
|------------------|----------------|
| 60 | 5-0 |
| 80 | 10-5 |
| 40 | 15-10 |
| 20 | 20-15 |
| 200 | المجموع |

المطلوب:

أ. حدد المجتمع الإحصائي، الوحدة، الوحدة الإحصائي، المتغير الإحصائي وطبيعته.

ب. ما هو متوسط هذه النتائج؟

ت. ما هو المعدل السائد بالنسبة لهذه النتائج؟

ث. إذا كانت نسبة النجاح هي 25% ما هو المعدل الذي يتم على إثره تحديد هدفه؟

ج. نفس السؤال إذا كانت نسبة النجاح 10%؟

الحل

(1) تحديد قيمة كل من α و β حتى تكون العلاقة السابقة:

$$\varphi(x) = \left(\frac{\sum_{i=1}^n x_i^\alpha}{N} \right)^\beta$$

■ عبارة عن المتوسط الحسابي: $\alpha=1$ و $\beta=1$

$$\varphi(x) = \frac{\sum_{i=1}^n x_i}{N} = \bar{X}$$

■ عبارة عن الوسط التربيعي: $\alpha=2$ و $\beta=1/2$

$$\varphi(x) = \sqrt{\frac{\sum_{i=1}^n x_i^2}{N}} = Q$$

■ عبارة عن المتوسط التوافقي: $\alpha=-1$ و $\beta=-1$

$$\varphi(x) = \frac{N}{\sum_{i=1}^n \left(\frac{1}{x_i} \right)} = H$$

(2) تحديد المجتمع الإحصائي، الوحدة، المتغير وطبيعته:

أ. المجتمع الإحصائي (200 طالب متحصل على شهادة البكالوريا)، الوحدة الإحصائية (طالب)، المتغير الإحصائي (المعدلات) وطبيعته (كمي مستمر).

ب. متوسط هذه النتائج، نحسب المتوسط الحسابي:

لدينا الجدول التالي:

| $F \uparrow$ | $f_i \times C_i$ | التكرار النسبي f_i | مركز الفئة C_i | عدد الطلبة n_i | المعدلات X_i |
|--------------|------------------|----------------------|------------------|------------------|----------------|
| 60 | 0.75 | 0.3 | 2.5 | 60 | 5-0 |
| 140 | 3 | 0.4 | 7.5 | 80 | 10-5 |
| 180 | 2.5 | 0.2 | 12.5 | 40 | 15-10 |
| 200 | 1.75 | 0.1 | 17.5 | 20 | 20-15 |
| -- | 8 | 1 | -- | 200 | المجموع |

يكون متوسط المعدلات هو:

$$\bar{X} = \sum_{i=1}^n f_i \times C_i = 8$$

ت. المعدل السائد بالنسبة لهذه النتائج، نحسب القيمة الأكثر انتشارا وهو المنوال: الفئة المنوالية هي 5-10.

$$M_o = e_{i-1} + a_i \times \left(\frac{\alpha_1}{\alpha_1 + \alpha_2} \right) = 5 + 5 \times \left[\frac{80 - 60}{(80 - 60) + (80 - 40)} \right] = 6.66$$

ث. إذا كانت نسبة النجاح هي 25% فيتم تحديد هذا المعدل بحساب الربيع الثالث (لأن النتائج المسابقة منطقيا مرتبة ترتيبا تصاعديا، فنلاحظ أن الناجحين يكونون أصحاب الأعلى معدلا وبالتالي إذا كانت نسبة النجاح 25% فيعني أن 75% من المشاهدات أقل منها أي أن الربيع الثالث يحدد هذه النسبة).
فئة الربيع الثالث هي الفئة التي تقابل $(3 \times N/4 = 3 \times 200/4 = 150)$ في التكرار المتجمع الصاعد وهي 10-15.

$$Q_3 = e_{i-1} + a_i \times \left(\frac{3N/4 - F_{i-1}}{n_i} \right) = 10 + 5 \times \left(\frac{150 - 140}{40} \right) = 11.25$$

ج. إذا كانت نسبة النجاح 10%، وبنفس ملاحظة السؤال الرابع (المشاهدات مرتبة ترتيبا تصاعديا)، نحسب المئيني 90 أو العشير التاسع. فئة العشير التاسع هي الفئة التي تقابل $(9 \times N/10 = 9 \times 200/10 = 180)$ في التكرار المتجمع الصاعد وهي 10-15.

$$D_9 = e_{i-1} + a_i \times \left(\frac{9N/10 - F_{i-1}}{n_i} \right) = 10 + 5 \times \left(\frac{180 - 140}{40} \right) = 15$$

التمرين (07)

يمثل الجدول التالي أجور عمال الشركة (ب) الوحدة: 10^3 دج

| الأجر X_i | عدد العمال n_i | التكرار النسبي f_i | f_i^{\uparrow} | التكرار المتجمع الصاعد F_i^{\uparrow} |
|-------------|------------------|----------------------|------------------|---|
| 80-90 | ... | ... | 0.2 | 200 |
| 90-110 | ... | ... | 0.45 | ... |
| 110-120 | ... | ... | ... | ... |
| 120-130 | ... | ... | ... | ... |
| 130-150 | ... | 0.1 | ... | ... |
| 150-160 | 50 | ... | ... | ... |
| المجموع | - | - | - | - |

المطلوب:

- أكمل معطيات هذا الجدول إذا علمت أن 50 بالمائة من العمال يتقاضون أكثر من 121250 دج؟
- ما هو الأجر السائد في هذه المؤسسة؟

الحل

(1) يمكن إكمال بعض المعطيات والتي هي واضحة في الجدول.

أولا: لاحظ أن التكرار النسبي الأول $f_1 = 0.2$ والتكرار المتجمع الصاعد $n_1 = F_1^{\uparrow} = 200$ وبالتالي يمكن استنتاج التكرار الكلي:

$$f_1 = \frac{n_1}{N} \Rightarrow N = \frac{n_1}{f_1} = \frac{200}{0.2} = 1000$$

| الأجر X_i | عدد العمال n_i | التكرار النسبي f_i | f_i^\uparrow | التكرار المتجمع الصاعد F_i^\uparrow |
|-------------|------------------|----------------------|----------------|---------------------------------------|
| 90-80 | 200 | 0.2 | 0.2 | 200 |
| 110-90 | 250 | 0.25 | 0.45 | 450 |
| 120-110 | n_3 | - | - | - |
| 130-120 | n_4 | - | - | 850 |
| 150-130 | 100 | 0.1 | - | 950 |
| 160-150 | 50 | 0.05 | - | 1000 |
| المجموع | 1000 | 1 | - | - |

ثانياً: لا يمكن معرفة قيمة كل من التكرارين الثالث والرابع و n_4 و n_3 إلا بالاستعانة بالمعلومة أن 50 بالمائة من العمال يتقاضون أكثر من 121.25 دج، أي أن الوسيط: $M_e = 121.25$ وهو ينتمي للفئة الوسيطة 120-130 يكون:

$$M_e = e_{i-1} + a_i \times \left(\frac{N/2 - F_{i-1}^\uparrow}{n_i} \right) = 120 + 10 \times \left(\frac{1000/2 - F_3^\uparrow}{n_4} \right) = 121.25$$

$$\Rightarrow F_3^\uparrow = 500 - 0.125 \times n_4$$

ومن جهة أخرى لدينا: $F_3^\uparrow + n_4 = 850$ يكون: $n_4 = 400$ وبالتالي: $n_5 = 0$

ويمكننا الآن تعبئة بقية قيم الجدول:

| الأجر X_i | عدد العمال n_i | التكرار النسبي f_i | f_i^\uparrow | التكرار المتجمع الصاعد F_i^\uparrow |
|-------------|------------------|----------------------|----------------|---------------------------------------|
| 90-80 | 200 | 0.2 | 0.2 | 200 |
| 110-90 | 250 | 0.25 | 0.45 | 450 |
| 120-110 | 0 | 0 | 0.45 | 450 |
| 130-120 | 400 | 0.4 | 0.85 | 850 |
| 150-130 | 100 | 0.1 | 0.95 | 950 |
| 160-150 | 50 | 0.05 | 1 | 1000 |
| المجموع | 1000 | 1 | - | - |

التمرين (08)

تشير معطيات الجدول التالي إلى أرقام أعمال (الوحدة مليون دج) لشركات متوسطة و صغيرة في منطقة صناعية ما :

| رقم الأعمال X_i دج 10^6 | عدد العمال n_i | التكرار المصحح n'_i | f_i^\uparrow | التكرار المتجمع الصاعد F_i^\uparrow |
|-----------------------------|------------------|-----------------------|----------------|---------------------------------------|
| 20-10 | | ... | ... | 12 |
| 30-20 | ... | ... | 0.23 | ... |
| 50-30 | ... | 15 | ... | ... |
| 90-50 | ... | ... | ... | ... |
| 100-90 | ... | ... | ... | ... |
| 110-100 | 10 | ... | ... | ... |
| المجموع | 100 | - | - | - |

المطلوب:

- (1) أكمل معطيات هذا الجدول إذا علمت أن رقم الأعمال السائد 34 مليون دج؟
- (2) ماهو متوسط رقم الأعمال في هذه المنطقة ؟
- (3) هل هذا التوزيع متناظر؟

الحل

(1) يمكن إكمال بعض المعطيات والتي هي واضحة في الجدول.

أولاً: لاحظ أن التكرار المتجمع الصاعد الأول هو $F_1^{\uparrow} = 12$ والتكرار الكلي هو 100 وبالتالي التكرار المطلق الأول هو $n_1 = 12$ أي $f_1^{\uparrow} = 0.12$

| رقم الأعمال X_i | عدد العمال n_i | التكرار المصحح n'_i | f_i^{\uparrow} | التكرار المتجمع الصاعد F_i^{\uparrow} |
|-------------------|------------------|-----------------------|------------------|---|
| 20-10 | 12 | 12 | 0.12 | 12 |
| 30-20 | 11 | 11 | 0.23 | 23 |
| 50-30 | 30 | 15 | 0.53 | 53 |
| 90-50 | n_4 | $\frac{n_4}{4}$ | ... | ... |
| 100-90 | n_5 | n_5 | ... | ... |
| 110-100 | 10 | 10 | 1 | 100 |
| المجموع | 100 | - | - | - |

ثانياً: لايمكن معرفة قيمة التكرار الرابع n_4 إلا بالاستعانة بالمعلومة أن رقم الأعمال السائد هو 34 مليون دج: $M_o = 34$ وهو ينتمي للفئة الوسيطة 30-50:

$$M_o = e_{i-1} + a_i \times \left(\frac{\alpha_1}{\alpha_1 + \alpha_2} \right) = 30 + 10 \times \left[\frac{(15-11)}{(15-11) + (15-n_4/4)} \right] = 34 \Rightarrow n_4 = 36$$

يكون: $n_5 = 3$ ويكون الجدول:

| رقم الأعمال X_i | عدد العمال n_i | التكرار المصحح n'_i | f_i^{\uparrow} | التكرار المتجمع الصاعد F_i^{\uparrow} | $n_i \times x_i$ |
|-------------------|------------------|-----------------------|------------------|---|------------------|
| 20-10 | 12 | 12 | 0.12 | 12 | 180 |
| 30-20 | 11 | 11 | 0.23 | 23 | 275 |
| 50-30 | 30 | 15 | 0.53 | 53 | 1200 |
| 90-50 | 36 | 9 | 0.89 | 89 | 2520 |
| 100-90 | 1 | 1 | 0.90 | 90 | 95 |
| 110-100 | 10 | 10 | 1 | 100 | 1050 |
| المجموع | 100 | - | - | - | 5320 |

(2) حساب متوسط رقم الأعمال: حساب المتوسط الحسابي: من خلال الجدول نجد أن:

$$\bar{X} = \frac{\sum_{i=1}^n n_i \times x_i}{N} = \frac{5320}{100} = 53.20$$

(3) هل التوزيع متناظر؟ نحسب الوسيط: الفئة الوسيطة هي التي تقابل 50 في F_i^{\uparrow} وهي 30-50.

$$M_e = e_{i-1} + a_i \times \left(\frac{N/2 - F_{i-1}^{\uparrow}}{n_i} \right) = 30 + 20 \times \left(\frac{50 - 23}{30} \right) = 48$$

نلاحظ أن: $\bar{X} = 53.20 \neq M_e = 48$ وبالتالي التوزيع غير متناظر.

3. مقاييس: التشتت، الشكل: الالتواء والتقاطح

التمرين (01)

يعبر المتغير X عن علامات مادة الإحصاء لطلبة الفوج رقم 01 ضمن تخصص العلوم الاقتصادية

| العلامات X | 7 | 8 | 9 | 10 | 11 | 12 | 14 | المجموع |
|--------------|----|----|----|----|----|----|----|---------|
| عدد الطلبة | 10 | 15 | 20 | 25 | 15 | 10 | 6 | 120 |

المطلوب: أحسب الانحراف المتوسط، التباين والانحراف المعياري.

الحل

| النقاط X_i | عدد الطلبة n_i | التكرار النسبي f_i | $f_i \times x_i$ |
|--------------|------------------|----------------------|------------------|
| 7 | 10 | 0.2 | 1.4 |
| 8 | 15 | 0.3 | 2.4 |
| 9 | 12 | 0.24 | 2.16 |
| 10 | 7 | 0.14 | 1.4 |
| 11 | 3 | 0.06 | 0.66 |
| 12 | 2 | 0.04 | 0.48 |
| 14 | 1 | 0.02 | 0.28 |
| المجموع | 50 | 1 | 8.78 |

■ حساب الانحراف المتوسط: لحساب الانحراف المتوسط نحسب في البداية المتوسط الحسابي

$$\bar{X} = \sum_{i=1}^n f_i \times x_i = 8.78$$

$$\sum_{i=1}^n f_i \times |x_i - \bar{X}| = 1.18$$

فيمكن القول أن النقاط تبعد في المتوسط عن المتوسط الحسابي بـ: 1.18.

$$V(X) = \sum_{i=1}^n f_i \times (x_i - \bar{X})^2 = 2.29$$

$$SD = \sqrt{V(X)} = \sqrt{2.29} = 1.51$$

ويمكن القول أن النقاط تبعد في المتوسط عن المتوسط الحسابي بـ: 1.51.

| $f_i \times (x_i - \bar{X})^2$ | $(x_i - \bar{X})^2$ | $f_i \times x_i - \bar{X} $ | $ x_i - \bar{X} $ | f_i | X_i |
|--------------------------------|---------------------|------------------------------|-------------------|----------|---------|
| 0.63 | 3.16 | 0.356 | 1.78 | 0.2 | 7 |
| 0.18 | 0.6 | 0.234 | 0.78 | 0.3 | 8 |
| 0.011 | 0.04 | 0.052 | 0.22 | 0.24 | 9 |
| 0.20 | 1.48 | 0.17 | 1.22 | 0.14 | 10 |
| 0.29 | 4.92 | 0.13 | 2.22 | 0.06 | 11 |
| 0.41 | 10.36 | 0.12 | 3.22 | 0.04 | 12 |
| 0.54 | 27.24 | 0.1 | 5.22 | 0.02 | 14 |
| 2.29 | - | 1.18 | - | 1 | المجموع |

التمرين (03)

تشير معطيات الجدول التالي إلى عدد حوادث المرور خلال 100 يوم في منطقة معينة:

| عدد الحوادث X | 7 | 6 | 5 | 4 | 3 | 2 | 1 | 0 |
|-----------------|---|---|---|---|----|----|----|----|
| عدد الأيام | 1 | 1 | 1 | 2 | 10 | 20 | 25 | 10 |

المطلوب:

- حساب المقاييس الثلاثة للنزعة المركزية: المنوال، الوسيط، المتوسط الحسابي.
- حساب الانحراف المعياري ومعامل التغير.

الحل

(1) حساب المقاييس الثلاثة للنزعة المركزية:

| F^{\uparrow} | $f_i \times x_i^2$ | $f_i \times x_i$ | التكرار النسبي f_i | عدد الأيام n_i | عدد الحوادث X_i |
|----------------|--------------------|------------------|----------------------|------------------|-------------------|
| 10 | 0 | 0 | 0.14 | 10 | 0 |
| 35 | 0.35 | 0.35 | 0.35 | 25 | 1 |
| 55 | 1.12 | 0.57 | 0.28 | 20 | 2 |
| 65 | 1.26 | 0.42 | 0.14 | 10 | 3 |
| 67 | 0.448 | 0.11 | 0.028 | 2 | 4 |
| 68 | 0.35 | 0.07 | 0.014 | 1 | 5 |
| 69 | 0.504 | 0.08 | 0.014 | 1 | 6 |
| 70 | 0.686 | 0.1 | 0.014 | 1 | 7 |
| - | 4.71 | 1.72 | 1 | 70 | المجموع |

- حساب المنوال: $M_o = 1$
- حساب الوسيط: $M_e = 1$ لأنه يقابل: $N/2 = 35$ في التكرار المتجمع الصاعد.

حساب الوسط الحسابي: $\bar{X} = \sum_{i=1}^n f_i \times x_i = 1.72$

(2) حساب الانحراف المعياري ومعامل التغير:

■ حساب التباين: $Var(X) = \sum_{i=1}^n f_i \times x_i^2 - \bar{X}^2 = 4.71 - 1.72^2 = 1.75$

■ حساب الانحراف المعياري: $SD = \sqrt{V(X)} = \sqrt{1.75} = 1.32$

■ معامل التغير: $CV = \frac{SD}{\bar{X}} = \frac{1.32}{1.72} = 0.767$

التمرين (04)

قارن بين السلسلتين الإحصائيتين (نتائج امتحان مقياس الاقتصاد الجزئي) وذلك بحساب: المنوال، الوسيط، المتوسط

الحسابي، الانحراف المعياري ومعامل التغير:

القسم A: 9 15 10 3 4 5 7 9 10 6 11 16 8 15 11 12 9 10 10 11 13 14 7 8 16 16 11 13 14

.10 11 4 5 8 10 15 14 14 6

القسم B: 10 11 15 8 6 7 15 16 12 3 10 16 17 15 13 12 8 11 12 8 11 12 13 14 10 9 8 11

.14 10 15 17 11 18 15 12 14

ماذا تلاحظ؟

الحل

| $f_i \times x_i^2$ | $f_i \times x_i$ | التكرار النسبي f_i | F^\uparrow | التكرار n_i | القسم A: X_i |
|--------------------|------------------|----------------------|--------------|---------------|----------------|
| 0.025 | 0.025 | 0.025 | 1 | 1 | 3 |
| 0.205 | 0.102 | 0.051 | 3 | 2 | 4 |
| 0.205 | 0.102 | 0.051 | 5 | 2 | 5 |
| 0.205 | 0.102 | 0.051 | 7 | 2 | 6 |
| 0.205 | 0.102 | 0.051 | 9 | 2 | 7 |
| 0.692 | 0.230 | 0.076 | 12 | 3 | 8 |
| 0.692 | 0.230 | 0.076 | 15 | 3 | 9 |
| 5.53 | 0.923 | 0.153 | 21 | 6 | 10 |
| 3.2 | 0.641 | 0.128 | 26 | 5 | 11 |
| 0.025 | 0.025 | 0.025 | 27 | 1 | 12 |
| 0.205 | 0.102 | 0.051 | 29 | 2 | 13 |
| 1.64 | 0.410 | 0.102 | 33 | 4 | 14 |
| 0.692 | 0.230 | 0.076 | 36 | 3 | 15 |
| 0.692 | 0.230 | 0.076 | 39 | 3 | 16 |
| 14.23 | 3.46 | 1 | - | 39 | المجموع |

■ حساب المنوال: $M_o = 10$

■ تحديد الوسيط: $M_e = 6$ لأنه يقابل: $N/2$ في التكرار المتجمع الصاعد.

- حساب الوسط الحسابي: $\bar{X} = \sum_{i=1}^n f_i \times x_i = 3.46$
- حساب التباين: $Var(X) = \sum_{i=1}^n f_i \times x_i^2 - \bar{X}^2 = 14.23 - 3.46^2 = 2.24$
- حساب الانحراف المعياري: $SD = \sqrt{V(X)} = \sqrt{2.24} = 1.49$
- معامل التغير: $CV = \frac{SD}{\bar{X}} = \frac{1.49}{3.46} = 0.43$

| $f_i \times x_i^2$ | $f_i \times x_i$ | التكرار النسبي f_i | F^\uparrow | التكرار n_i | القسم X_i : B |
|--------------------|------------------|----------------------|--------------|---------------|-----------------|
| 0.027 | 0.027 | 0.027 | 1 | 1 | 3 |
| 0.027 | 0.027 | 0.027 | 2 | 1 | 6 |
| 0.027 | 0.027 | 0.027 | 3 | 1 | 7 |
| 1.72 | 0.432 | 0.108 | 7 | 4 | 8 |
| 0.027 | 0.027 | 0.027 | 8 | 1 | 9 |
| 1.72 | 0.432 | 0.108 | 12 | 4 | 10 |
| 3.37 | 0.675 | 0.135 | 17 | 5 | 11 |
| 3.37 | 0.675 | 0.135 | 22 | 5 | 12 |
| 0.21 | 0.108 | 0.054 | 24 | 2 | 13 |
| 0.729 | 0.243 | 0.081 | 27 | 3 | 14 |
| 3.37 | 0.675 | 0.135 | 32 | 5 | 15 |
| 0.21 | 0.108 | 0.054 | 34 | 2 | 16 |
| 0.21 | 0.108 | 0.054 | 36 | 2 | 17 |
| 0.027 | 0.027 | 0.027 | 37 | 1 | 18 |
| 15.10 | 3.59 | 1 | - | 37 | المجموع |

- حساب المنوال: $M_{o3} = 15$ ، $M_{o2} = 12$ ، $M_{o1} = 11$
- تحديد الوسيط: $M_e = 12$ لأنه يقابل: $N/2$ في التكرار المتجمع الصاعد.
- حساب الوسط الحسابي: $\bar{X} = \sum_{i=1}^n f_i \times x_i = 3.59$
- حساب التباين: $Var(X) = \sum_{i=1}^n f_i \times x_i^2 - \bar{X}^2 = 15.10 - 3.59^2 = 2.18$
- حساب الانحراف المعياري: $SD = \sqrt{V(X)} = \sqrt{2.18} = 1.47$
- معامل التغير: $CV = \frac{SD}{\bar{X}} = \frac{1.47}{3.59} = 0.41$

التمرين (05)

لتكن السلسلتان التاليتان A و B: A : 9 3 88 9 9 8 18 و B : 12 6 7 3 15 10 18 5

المطلوب:

- (1) حدد الوسيط والمنوال للسلسلتين.
- (2) هل يمكن استعمال المدى العام للمقارنة بين مستوى تشتت السلسلتين؟
- (3) ماهو مقياس التشتت المناسب في المقارنة بين السلسلتين؟

الحل

(1) تحديد الوسيط والمنوال للسلسلتين:

■ تحديد الوسيط والمنوال للسلسلة A: A : 9 3 88 9 9 8 18

تحديد المنوال: $M_{o1} = 8$ ، $M_{o2} = 9$

تحديد الوسيط: $M_e = 8$ لأنه يقابل المرتبة: $N/2 = 4$ في ترتيب السلسلة تصاعديا.

■ تحديد الوسيط والمنوال للسلسلة B: B : 12 6 7 3 15 10 18 5

تحديد المنوال: سلسلة عديمة المنوال لأن جميع القيم لها نفس التكرار.

تحديد الوسيط: $M_e = 7$ لأنه يقابل المرتبة: $N/2 = 4$ في ترتيب السلسلة تصاعديا.

حساب المدى العام للسلسلتين:

■ حساب المدى العام للسلسلة A: $E = X_{\max} - X_{\min} = 18 - 3 = 15$

■ حساب المدى العام للسلسلة B: $E = X_{\max} - X_{\min} = 18 - 3 = 15$

(2) لهما نفس المدى العام وبالتالي لا يكفي استعمال مقياس المدى العام.

(3) للمقارنة بين السلسلتين نحسب معامل التباين:

■ حساب معامل التباين للسلسلة A

| $f_i \times x_i^2$ | $f_i \times x_i$ | التكرار النسبي f_i | التكرار n_i | السلسلة A |
|--------------------|------------------|----------------------|---------------|----------------|
| 1.125 | 0.375 | 0.125 | 1 | 3 |
| 30.37 | 3.375 | 0.375 | 3 | 8 |
| 30.37 | 3.375 | 0.375 | 3 | 9 |
| 40.5 | 2.25 | 0.125 | 1 | 18 |
| 102.37 | 9.37 | 1 | 8 | المجموع |

في البداية نحسب التباين: $Var(X) = \sum_{i=1}^n f_i \times x_i^2 - \bar{X}^2 = 102.37 - 9.37^2 = 14.48$

يكون الانحراف المعياري: $SD = \sqrt{V(X)} = \sqrt{14.48} = 3.8$

ومنه معامل التغير للسلسلة A: $CV = \frac{SD}{\bar{X}} = \frac{3.8}{14.48} = 0.26$

■ حساب معامل التغير للسلسلة B

| $f_i \times x_i^2$ | $f_i \times x_i$ | التكرار النسبي f_i | التكرار n_i | السلسلة B |
|--------------------|------------------|----------------------|---------------|----------------|
| 1.28 | 0.428 | 0.142 | 1 | 3 |
| 3.57 | 0.714 | 0.142 | 1 | 5 |
| 5.14 | 0.857 | 0.142 | 1 | 6 |
| 7 | 1 | 0.142 | 1 | 7 |
| 14.28 | 1.42 | 0.142 | 1 | 10 |
| 20.57 | 1.714 | 0.142 | 1 | 12 |
| 46.28 | 2.57 | 0.142 | 1 | 18 |
| 98.14 | 8.71 | 1 | 8 | المجموع |

$$Var(X) = \sum_{i=1}^n f_i \times x_i^2 - \bar{X}^2 = 98.14 - 8.71^2 = 89.42 \quad \text{حسب التباين:}$$

$$SD = \sqrt{V(X)} = \sqrt{14.48} = 9.45 \quad \text{يكون الانحراف المعياري:}$$

$$CV = \frac{SD}{\bar{X}} = \frac{9.45}{8.71} = 1.08 \quad \text{ومنه معامل التغير للسلسلة B:}$$

وبمقارنة معاملي التغير بين السلسلتين نلاحظ انه بالنسبة للسلسلة A اقل منه في السلسلة B وبالتالي فالسلسلة B أكثر تشتت من السلسلة A.

التمرين (06)

يبين التوزيع التكراري التالي توزيع أوزان بعض السلع المرسله إلى أحد المتاجر، الوحدة: طن.

| عدد السلع n_i | الفئات |
|-----------------|----------------|
| 8 | $x_i < 10$ |
| 3 | 20-10 |
| 5 | 30-20 |
| 6 | 40-30 |
| 3 | 50-40 |
| 3 | 60-50 |
| 1 | 70-60 |
| 1 | $x_i > 10$ |
| 30 | المجموع |

المطلوب:

- (1) هل يمكن تحديد الانحراف المعياري لهذا التوزيع و لماذا؟
- (2) ما هو مقياس التشتت المناسب؟ أحسب قيمته؟
- (3) أدرس شكل هذا التوزيع باستعمال مقياس يول.

الحل

(1) لا يمكن لأننا نحتاج إلى المتوسط الحسابي ولا نستطيع تحديد مركز الفئة الأولى والأخيرة.

(2) مقياس التشتت المناسب هو المدى الربيعي: $IQ = Q_3 - Q_1$

| $F \uparrow$ | عدد السلع n_i | الفئات |
|--------------|-----------------|------------|
| 5 | 5 | $x_i < 10$ |
| 11 | 6 | 20-10 |
| 16 | 5 | 30-20 |
| 22 | 6 | 40-30 |
| 25 | 3 | 50-40 |
| 28 | 3 | 60-50 |
| 29 | 1 | 70-60 |
| 30 | 1 | $x_i > 10$ |
| --- | 30 | المجموع |

■ حساب قيمة الربع الأول:

لدينا: $N/4 = 30/4 = 7.5$ تكون فئة الربع الأول هي: 10-20 تكون قيمة الربع الأول هي:

$$Q_1 = e_{i-1} + a_i \times \left(\frac{N/4 - F_{i-1}}{n_i} \right) = 10 + 10 \times \left(\frac{7.5 - 5}{6} \right) = 14.16$$

■ حساب قيمة الربع الثالث:

لدينا: $3N/4 = 90/4 = 22.5$ تكون فئة الربع الثالث هي: 40-50 تكون قيمة الربع الثالث هي:

$$Q_3 = e_{i-1} + a_i \times \left(\frac{3N/4 - F_{i-1}}{n_i} \right) = 40 + 10 \times \left(\frac{22.5 - 22}{3} \right) = 41.66$$

■ حساب المدى الربيعي: $IQ = 41.66 - 14.16 = 27.5$

(3) دراسة شكل هذا التوزيع باستعمال مقياس يول.

حساب الوسيط: لدينا $N/2 = 30/2 = 15$ تكون الفئة الوسيطة: 20-30

$$M_e = e_{i-1} + a_i \times \left(\frac{N/2 - F_{i-1}}{n_i} \right) = 20 + 10 \times \left(\frac{15 - 11}{6} \right) = 26.66$$

تكون قيمة مقياس يول هي:

$$\gamma = \frac{(Q_3 - M_e) - (M_e - Q_1)}{(Q_3 - M_e) + (M_e - Q_1)} = \frac{(41.66 - 26.66) - (26.66 - 14.16)}{(41.66 - 26.66) + (26.66 - 14.16)} = 0.09 > 0$$

ومنه التوزيع ملتوي نحو اليمين.

التمرين (07)

تشير المعطيات التالية إلى الأجر الشهري لعمال شركة خاصة في منطقة صناعية ما. الوحدة: 1000 دج

| الفئات | التكرار n_i | $F \uparrow$ |
|---------|---------------|--------------|
| 60-50 | 8 | 8 |
| 70-60 | 10 | 18 |
| 80-70 | 16 | 34 |
| 90-80 | 14 | 48 |
| 100-90 | 10 | 58 |
| 110-100 | 5 | 63 |
| 120-110 | 2 | 65 |
| المجموع | 65 | - |

المطلوب:

أدرس شكل هذا التوزيع باستعمال المعاملات التالية: معامل بيرسن الأول والثاني، معامل فيشر، معامل يول للتناظر ومعامل بيرسن للتفلطح، معامل فيشر للتفلطح.

الحل

| الفئات | التكرار n_i | $F \uparrow$ | التكرار النسبي f_i | $f_i \times x_i$ | $f_i \times x_i^2$ | $f_i \times (x_i - \bar{X})^3$ | $f_i \times (x_i - \bar{X})^4$ |
|---------|---------------|--------------|----------------------|------------------|--------------------|--------------------------------|--------------------------------|
| 60-50 | 8 | 8 | 0.12 | 6.77 | 372.31 | -1870.31 | 46326.20 |
| 70-60 | 10 | 18 | 0.15 | 10.00 | 650.00 | -495.63 | 7320.12 |
| 80-70 | 16 | 34 | 0.25 | 18.46 | 1384.62 | -26.70 | 127.35 |
| 90-80 | 14 | 48 | 0.22 | 18.31 | 1556.15 | 30.83 | 161.24 |
| 100-90 | 10 | 58 | 0.15 | 14.62 | 1388.46 | 543.57 | 8278.93 |
| 110-100 | 5 | 63 | 0.08 | 8.08 | 848.08 | 1235.52 | 31173 |
| 120-110 | 2 | 65 | 0.03 | 3.54 | 406.92 | 1345.50 | 47402.93 |
| المجموع | 65 | - | 1 | 79.77 | 6606.54 | 762.76 | 140789.77 |

■ حساب معامل بيرسن الأول: $R_1 = (\bar{X} - M_o) / SD$

$$\bar{X} = \sum_{i=1}^n f_i \times x_i = 79.77 \text{ : حساب المتوسط}$$

$$\text{Var}(X) = \sum_{i=1}^n f_i \times x_i^2 - \bar{X}^2 = 660654 - 79.76^2 = 243.41 \text{ : حساب التباين}$$

$$SD = \sqrt{V(X)} = \sqrt{243.41} = 15.60 \text{ : حساب الانحراف المعياري}$$

حساب المنوال: لدينا الفئة المنوالية هي 80 - 70

$$M_o = e_{i-1} + a_i \times \left(\frac{\alpha_1}{\alpha_1 + \alpha_2} \right) = 70 + 10 \times \left[\frac{(16-10)}{(16-10) + (16-14)} \right] = 77.5$$

يكون معامل بيرسن الأول هو: $P_1 = (79.77 - 77.5) / 15.60 = 0.145 > 0$ ومنه التوزيع ملتوي نحو اليمين.

$$P_2 = \mu_3^2 / \mu_2^3 \quad \blacksquare \text{ معامل بيرسن الثاني:}$$

$$\mu_2 = V(X) = 243.41 \text{ لدينا:}$$

$$\mu_3 = \sum_{i=1}^n f_i \times (x_i - \bar{X})^3 = 76276 \text{ ولدينا كذلك:}$$

$$P_2 = 76276^2 / 243.41^3 = 0.04 \text{ يكون:}$$

وعلى اعتبار أن: $P_2 = 0.04 > 0$ أو $(\mu_3 > 0)$ فالتوزيع ملتوي نحو اليمين

$$\blacksquare \text{ معامل فيشر للتناظر: } F = \mu_3 / SD^3 = 76276 / 15.60 = 0.20$$

$F = 0.20 > 0$ فالتوزيع ملتوي نحو اليمين.

$$\blacksquare \text{ معامل يول: } \gamma = \frac{(Q_3 - M_e) - (M_e - Q_1)}{(Q_3 - M_e) + (M_e - Q_1)}$$

حساب الوسيط: لدينا $N/2 = 65/2 = 32.5$ تكون الفئة الوسيطة: $80 - 70$

$$M_e = e_{i-1} + a_i \times \left(\frac{N/2 - F_{i-1}}{n_i} \right) = 70 + 10 \times \left(\frac{32.5 - 18}{16} \right) = 79.06$$

حساب قيمة الربع الأول:

لدينا: $N/4 = 65/4 = 16.25$ تكون فئة الربع الأول هي: $70 - 60$ وتكون قيمة الربع الأول هي:

$$Q_1 = e_{i-1} + a_i \times \left(\frac{N/4 - F_{i-1}}{n_i} \right) = 60 + 10 \times \left(\frac{16.25 - 8}{10} \right) = 68.25$$

حساب قيمة الربع الثالث:

لدينا: $3N/4 = 90/4 = 48.75$ تكون فئة الربع الثالث هي: $100 - 90$ تكون قيمة الربع الثالث هي:

$$Q_3 = e_{i-1} + a_i \times \left(\frac{3N/4 - F_{i-1}}{n_i} \right) = 90 + 10 \times \left(\frac{48.75 - 48}{10} \right) = 90.75$$

تكون قيمة مقياس يول هي:

$$\gamma = \frac{(Q_3 - M_e) - (M_e - Q_1)}{(Q_3 - M_e) + (M_e - Q_1)} = \frac{(90.75 - 79.06) - (79.06 - 68.25)}{(90.75 - 79.06) + (79.06 - 68.25)} = 7.06 > 0$$

ومنه التوزيع ملتوي نحو اليمين.

$$\blacksquare \text{ معامل بيرسن للتفلطح: } K = \mu_4 / \mu_2^2$$

لدينا: $\mu_2 = V(X) = 243.41$

ولدينا كذلك: $\mu_4 = \sum_{i=1}^n f_i \times (x_i - \bar{X})^4 = 14078977$

يكون معامل بيرسن للتفلطح: $K = \mu_4 / \mu_2^2 = 14078977 / 243.41^2 = 2.38$

$K < 3$ نقول عندئذ عن التوزيع انه متفلطح كثيراً (Platykurtic)

■ معامل فيشر للتفلطح: $B = \mu_4 / \mu_2^2 - 3$

يكون: $B = \mu_4 / \mu_2^2 - 3 = 2.38 - 3 = -0.62$

$B < 0$ نقول عندئذ عن التوزيع انه متفلطح كثيراً (Platykurtic).

التمرين (09)

أدرس شكل التوزيع للمتغير الإحصائي X والمعرفة قيمه في الجدول التالي:

| | | | | | |
|-------|-------|-------|-------|-------|-------|
| 4 | 3 | 2 | 1 | 0 | X_i |
| 0.006 | 0.058 | 0.288 | 0.432 | 0.216 | f_i |

الحل

سنختار مقياس معامل بيرسن الثاني للالتواء و معامل بيرسن للتفلطح.

■ معامل بيرسن الثاني: $P_2 = \mu_3^2 / \mu_2^3$

لدينا: $\mu_2 = V(X) = 0.74$

ولدينا كذلك: $\mu_3 = \sum_{i=1}^n f_i \times (x_i - \bar{X})^3 = 0.227$

يكون: $P_2 = 0.227^2 / 0.74^3 = 0.22$

وعلى اعتبار أن: $P_2 = 0.22 > 0$ أو $(\mu_3 > 0)$ فالتوزيع ملتوي نحو اليمين

| $f_i \times (x_i - \bar{X})^4$ | $f_i \times (x_i - \bar{X})^3$ | $f_i \times (x_i - \bar{X})^2$ | $f_i \times x_i$ | f_i | X_i |
|--------------------------------|--------------------------------|--------------------------------|------------------|----------|---------|
| 0.456 | -0.378 | 0.314 | 0 | 0.216 | 0 |
| 0.0007 | -0.003 | 0.018 | 0.432 | 0.432 | 1 |
| 0.1144 | 0.144 | 0.181 | 0.576 | 0.288 | 2 |
| 0.600 | 0.334 | 0.186 | 0.174 | 0.058 | 3 |
| 0.365 | 0.130 | 0.046 | 0.024 | 0.006 | 4 |
| 1.53 | 0.227 | 0.74 | 1.20 | 1 | المجموع |

■ معامل بيرسن للتفلطح: $K = \mu_4 / \mu_2^2$

لدينا: $\mu_4 = \sum_{i=1}^n f_i \times (x_i - \bar{X})^4 = 1.53$

يكون معامل بيرسن للتفلطح: $K = \mu_4 / \mu_2^2 = 1.53 / 0.74^2 = 2.79$

$K < 3$ نقول عندئذ عن التوزيع انه متفلطح (Platykurtic).

4. الانحدار الخطي البسيط والارتباط

تمرين (1)

يبين الجدول التالي قيم الاستهلاك والدخل الحقيقيين للعائلات الجزائرية خلال الفترة 2000-2014: الوحدة: 10^6 دج

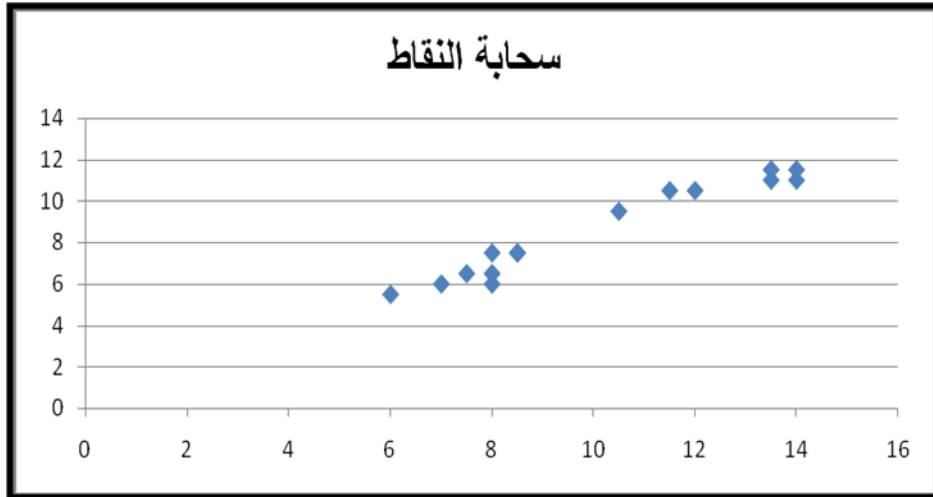
| السنوات | 2000 | 2001 | 2002 | 2003 | 2004 | 2005 | 2006 | |
|-----------|------|------|------|------|------|------|------|------|
| الاستهلاك | 5.5 | 6 | 6.5 | 6 | 7.5 | 7.5 | 7.5 | |
| الدخل | 6 | 7 | 7.5 | 8 | 8 | 8.5 | 8.5 | |
| السنوات | 2007 | 2008 | 2009 | 2010 | 2011 | 2012 | 2013 | 2014 |
| الاستهلاك | 8 | 8.5 | 9 | 10.5 | 11 | 11.5 | 12 | 12.5 |
| الدخل | 9 | 9 | 10 | 12 | 13 | 13 | 14.5 | 15 |

المطلوب:

- أرسم الشكل الذي يبين انتشار قيم المتغيرين؟
- أوجد معادلة انحدار الاستهلاك بدلالة الدخل.
- أحسب معامل الارتباط بين قيم المتغيرين الاستهلاك والدخل.
- إذا علمت أن قيمة الدخل في سنة 2015 هي 14 مليون دينار جزائري، فما هي قيمة الاستهلاك المتوقعة لنفس السنة؟

الحل

- الشكل الذي يبين انتشار القيم يتمثل في تعيين نقاط تمثل الثنائيات (X_i, Y_i) أو ما يسمى بسحابة النقاط.



- إيجاد معادلة الانحدار الاستهلاك والدخل: $Y_i = a + b \times X_i + \zeta_i$

ونحسب قيم \hat{a} و \hat{b} بالاستعانة بالجدول الإحصائي التالي:

| Y_i^2 | X_i^2 | $X_i \times Y_i$ | الاستهلاك Y_i | الدخل X_i |
|---------|---------|------------------|-----------------|-------------|
|---------|---------|------------------|-----------------|-------------|

| | | | | |
|----------------|-------------|----------------|---------------|------------|
| 30.25 | 36 | 33 | 5.5 | 6 |
| 36 | 49 | 42 | 6 | 7 |
| 42.25 | 56.25 | 48.75 | 6.5 | 7.5 |
| 36 | 64 | 48 | 6 | 8 |
| 56.25 | 64 | 60 | 7.5 | 8 |
| 56.25 | 72.25 | 63.75 | 7.5 | 8.5 |
| 56.25 | 72.25 | 63.75 | 7.5 | 8.5 |
| 64 | 81 | 72 | 8 | 9 |
| 72.25 | 81 | 76.5 | 8.5 | 9 |
| 81 | 100 | 90 | 9 | 10 |
| 110.25 | 144 | 126 | 10.5 | 12 |
| 121 | 169 | 143 | 11 | 13 |
| 132.25 | 169 | 149.5 | 11.5 | 13 |
| 144 | 210.25 | 174 | 12 | 14.5 |
| 156.25 | 225 | 187.5 | 12.5 | 15 |
| 1149.25 | 1593 | 1377.75 | 129.25 | 149 |

نعلم أن حجم العينة هو $n = 15$ ، ومن نتائج الجدول السابق نجد أن:

$$\bar{Y} = \frac{129.25}{15} = 8.63 \quad \text{و} \quad \bar{X} = \frac{149}{15} = 9.93$$

$$\hat{b} = \frac{\sum_{i=1}^n X_i Y_i - n\bar{X}\bar{Y}}{\sum_{i=1}^n X_i^2 - n\bar{X}^2} = \frac{1377.75 - 15 \times 9.93 \times 8.63}{1593 - 15 \times 9.93^2} = 0.8$$

وباستعمال قيمة \hat{b} في علاقة التالية: $\hat{a} = \bar{Y} - \hat{b} \times \bar{X} = 8.63 - 0.8 \times 9.93 = 0.59$

ومنه تصبح العلاقة المقدرة بين النفقات والدخل كالتالي: $Y_i = 0.59 + 0.8X_i + e_i$

(3) حساب معامل الارتباط بين قيم المتغيرين الاستهلاك والدخل:

$$r = \frac{\sum_{i=1}^n X_i Y_i - n\bar{X}\bar{Y}}{\sqrt{\sum_{i=1}^n X_i^2 - n\bar{X}^2} \times \sqrt{\sum_{i=1}^n Y_i^2 - n\bar{Y}^2}} = \frac{1377.75 - 15 \times 9.93 \times 8.63}{\sqrt{1593 - 15 \times 9.93^2} \times \sqrt{1149.25 - 15 \times 8.63^2}} = 0.98$$

نلاحظ قوة الارتباط بين المتغيرين تقدر بـ 97% وهي علاقة قوية وموجبة.

من خلال قيمة معامل الارتباط فإن العلاقة (قوة الارتباط) بين المتغيرين الدخل والاستهلاك Y, X هي 98%.

(4) نقوم بتعويض قيمة الدخل 14 في معادلة النموذج ويصبح لدينا:

$$E(Y_{2015}) = 0.59 + 0.8X_{2015} = 0.59 + 0.8 \times 14 = 11.79$$

وعليه لما بلغ الدخل في سنة 2015 القيمة 14 مليون دينار جزائري، فإننا نتوقع أن تكون قيمة الاستهلاك لنفس السنة هي 11.79 مليون دينار جزائري.

تمرين (2)

في إطار تقدير نموذج AK (Rebelo - 1991) المتعلق بالنمو الاقتصادي، وبالاعتماد على البنك الدولي نقترح بيانات تخص الاقتصاد الجزائري خلال الفترة من 2000 إلى غاية 2012 و الممثلة في حصة الفرد من الناتج Y ومن رأس المال المادي K الحقيقي في الجدول التالي:

| السنوات | 2000 | 2001 | 2002 | 2003 | 2004 | 2005 | 2006 |
|---------|---------|---------|---------|---------|---------|----------|---------|
| Y | 20.6766 | 22.8397 | 24.5714 | 24.0877 | 24.0181 | 22.3703 | 23.1656 |
| K | 25.0243 | 26.8410 | 30.6534 | 30.3406 | 33.2635 | 31.6564 | 30.1704 |
| السنوات | 2007 | 2008 | 2009 | 2010 | 2011 | 2012 | / |
| Y | 26.3247 | 29.2324 | 38.2364 | 36.2832 | 31.8194 | 31.4214 | / |
| K | 34.469 | 37.3484 | 46.8764 | 41.4303 | 37.9132 | 37.48305 | / |

المطلوب:

- إذا كان نموذج AK على النحو: $Y = AK^\alpha$ ، اكتب هذا النموذج على الشكل الخطي؛
- احسب: LnY و LnK ؛
- احسب معامل الارتباط الخطي البسيط بين: LnY و LnK ؛
- باستعمال طريقة المربعات الصغرى قدر النموذج السابق على الشكل الخطي؛
- مثل بيانياً LnY بدلالة LnK في النموذج السابق على الشكل الخطي؛
- اكتب الآن النموذج على الشكل الأصلي بعد التقدير.

الحل

- إذا كان نموذج AK على النحو: $Y = AK^\alpha$ ، كتابة هذا النموذج على الشكل الخطي:

$$LnY = LnA + \alpha LnK$$

$$LnY = y ; LnA = \beta ; LnK = k \quad \text{و بوضع:}$$

$$y = \beta + \alpha k \quad \text{يكون النموذج على الشكل الخطي:}$$

- حساب: LnY و LnK :

| 2012 | 2011 | 2010 | 2009 | 2008 | 2007 | 2006 | 2005 | 2004 | 2003 | 2002 | 2001 | 2000 | |
|------|------|------|------|------|------|------|------|------|------|------|------|------|---|
| 3.45 | 3.46 | 3.59 | 3.64 | 3.38 | 3.27 | 3.14 | 3.11 | 3.18 | 3.18 | 3.2 | 3.13 | 3.3 | y |
| 3.62 | 3.64 | 3.72 | 3.85 | 3.62 | 3.54 | 3.41 | 3.45 | 3.5 | 3.41 | 3.42 | 3.29 | 3.22 | k |

- حساب معامل الارتباط الخطي البسيط بين: $LnY = y$ و $LnK = k$ ؛

$$r_{y,k} = \frac{Cov(y,k)}{\sigma_y \sigma_k} \text{ لدينا:}$$

و الجدول التالي يساعد في حساب التباين المشترك و الانحرافات المعيارية:

| السنوات | y | k | y^2 | k^2 | $y \times k$ |
|---------|-------|-------|-------|-------|--------------|
| 2000 | 3.029 | 3.22 | 9.175 | 10.37 | 9.753 |
| 2001 | 3.129 | 3.29 | 9.788 | 10.82 | 10.29 |
| 2002 | 3.202 | 3.423 | 10.25 | 11.72 | 10.96 |
| 2003 | 3.182 | 3.412 | 10.12 | 11.65 | 10.86 |
| 2004 | 3.179 | 3.504 | 10.1 | 12.28 | 11.14 |
| 2005 | 3.108 | 3.455 | 9.658 | 11.94 | 10.74 |
| 2006 | 3.143 | 3.407 | 9.876 | 11.61 | 10.71 |
| 2007 | 3.271 | 3.54 | 10.7 | 12.53 | 11.58 |
| 2008 | 3.375 | 3.62 | 11.39 | 13.11 | 12.22 |
| 2009 | 3.644 | 3.848 | 13.28 | 14.8 | 14.02 |
| 2010 | 3.591 | 3.724 | 12.9 | 13.87 | 13.37 |
| 2011 | 3.46 | 3.635 | 11.97 | 13.22 | 12.58 |
| 2012 | 3.447 | 3.624 | 11.89 | 13.13 | 12.49 |
| المجموع | 42.76 | 45.7 | 141.1 | 161 | 150.7 |

■ المتوسطات الحسابية:

$$\bar{k} = \frac{45.7}{13} = 3.516 \quad \text{و} \quad \bar{y} = \frac{42.76}{13} = 3.289$$

$$Cov(y,k) = \frac{1}{n} \sum_{t=2000}^{2012} y_i k_i - \bar{y} \bar{k} = 150.7/13 - 3.289 \times 3.516 = 0.0298 \text{ التباين المشترك:}$$

■ الانحرافات المعيارية:

$$V(y) = \frac{1}{n} \sum_i y_i^2 - \bar{y}^2 = \frac{141.1}{13} - (3.289)^2 = 0.0353 \Rightarrow \sigma_y = 0.1878$$

$$V(k) = \frac{1}{n} \sum_i k_i^2 - \bar{k}^2 = \frac{161}{13} - (3.516)^2 = 0.028 \Rightarrow \sigma_k = 0.1674$$

يكون معامل الارتباط الخطي البسيط بين: $LnY = y$ و $LnK = k$ هو:

$$r_{y,k} = \frac{Cov(y,k)}{\sigma_y \sigma_k} = \frac{0.0298}{0.1878 \times 0.1674} = 0.9478$$

(4) باستعمال طريقة المربعات الصغرى (ols) نقدر النموذج السابق على الشكل الخطي:

$$y_t = \hat{\beta} + \hat{\alpha} k_t + \eta_t \text{ تقدير النموذج على الشكل الخطي:}$$

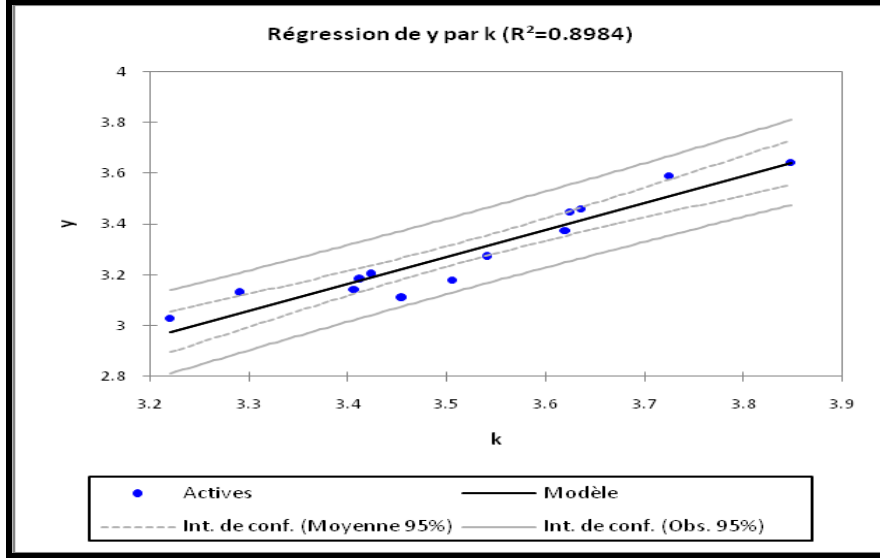
$$\hat{\alpha} = \frac{Cov(y, k)}{V(k)} = \frac{0.0298}{0.028} = 1.0629 \quad \text{لدينا:}$$

$$\hat{\beta} = \bar{y} - \alpha \bar{k} = -0.448 \quad \text{و يكون:}$$

و عليه فان النموذج على شكل لوغاريتم الخطي هو:

$$\ln Y_t = -0.448 + 1.0629 \ln K_t + e_t$$

(5) التمثيل البياني لـ $\ln Y = y$ بدلالة $\ln K = k$ في النموذج السابق على الشكل الخطي؛



(6) كتاب النموذج على الشكل الأصلي بعد التقدير:

$$\ln A = \beta \Rightarrow A = e^{\beta} \Rightarrow A = e^{-0.448} = 0.6392 \quad \text{لدينا:}$$

يكون النموذج على الشكل الأصلي بعد التقدير هو: $Y_t = 0.6392 \times K_t^{1.0629} + e_t$

5. الأرقام القياسية

التمرين رقم (01)

تشير معطيات الجدول التالي إلى قيم الاستهلاك الكهربائي (الوحدة كيلو واط ساعي) من منطقة ريفية مختارة من مناطق الوطن.

| السنوات | 2010 | 2015 | 2020 |
|---------------|------|------|------|
| كيلو واط ساعي | 1500 | 1400 | 1200 |

المطلوب:

(1) حساب الأرقام القياسية للسنوات التالية: $I_{2015/2010}$ ، $I_{2020/2015}$ و $I_{2020/2010}$

(2) ثم ماذا نلاحظ حول خصائص حساب الأرقام القياسية؟

الحل

(1) حساب الأرقام القياسية:

■ حساب: $I_{2015/2010}$

$$I_{2015/2010}(Q) = \frac{Q_{2015}}{Q_{2010}} \times 100\% = \frac{1400}{1500} \times 100\% = 0.93 \times 100\% = 93\%$$

هناك انخفاض في مستوى استهلاك الكهرباء في سنة 2015 يقدر بـ 7% مقارنة بسنة 2010. (في الأرقام القياسية نقارن النتيجة مع العدد 100، فإذا كانت هذه النتيجة أكبر من 100 معناها هناك زيادة وإذا كان العكس فيكون هناك انخفاض).

■ حساب: $I_{2020/2015}$

$$I_{2020/2015}(Q) = \frac{Q_{2020}}{Q_{2015}} \times 100\% = \frac{1200}{1400} \times 100\% = 0.85 \times 100\% = 85\%$$

هناك انخفاض في مستوى استهلاك الكهرباء في سنة 2020 يقدر بـ 15% مقارنة بسنة 2015.

■ حساب: $I_{2020/2010}$

$$I_{2020/2010}(Q) = \frac{Q_{2020}}{Q_{2010}} \times 100\% = \frac{1200}{1500} \times 100\% = 0.80 \times 100\% = 80\%$$

هناك انخفاض في مستوى استهلاك الكهرباء في سنة 2020 يقدر بـ 20% مقارنة بسنة 2010.

(2) نلاحظ حول خصائص حساب الأرقام القياسية مايلي:

■ خاصية المطابقة: $I_{t/t}(Q) = \frac{Q_t}{Q_t} \times 100\% = 100$

مثلا: $I_{2020/2020}(Q) = \frac{1200}{1200} \times 100\% = 100$

■ خاصية الانعكاس: $I_{t/b}(Q) = \frac{1}{I_{b/t}(Q)}$

مثلا: $I_{2020/2015}(Q) = \frac{Q_{2020}}{Q_{2015}} \times 100\% = \frac{1}{\frac{Q_{2015}}{Q_{2020}} \times 100\%} = \frac{1}{I_{2015/2020}(Q)}$

ومنه: $I_{2020/2015}(Q) \times I_{2015/2020}(Q) = 1$

■ خاصية قابلية التحول:

على حسب قيم استهلاك الكهرباء في الأزمنة 2010، 2015 و 2020 نلاحظ أن:

$$I_{2020/2010}(Q) = \frac{1200}{1400} \times \frac{1400}{1500} \times 100\% = I_{2020/2015}(Q) \times I_{2015/2010}(Q)$$

التمرين (02)

ليكن لدينا الجدول التالي والذي يمثل المعطيات الخاصة بأسعار وكميات المواد الغذائية (الحليب، السكر، اللحم) وفي السنوات 2005، 2015، 2020 الجزائر العاصمة:

| الكميات (مليون طن) | السعر (دج) | المواد | الفترات |
|--------------------|------------|---------------------|---------|
| 5 | 25 | الحليب (لتر) | 2005 |
| 2 | 40 | السكر(الكيلو غرام) | |
| 1.5 | 800 | اللحم (الكيلو غرام) | |
| 5 | 30 | الحليب (لتر) | 2015 |
| 2.5 | 55 | السكر(الكيلو غرام) | |
| 2 | 1000 | اللحم (الكيلو غرام) | |
| 10 | 35 | الحليب (لتر) | 2020 |
| 3 | 75 | السكر(الكيلو غرام) | |
| 3 | 1200 | اللحم (الكيلو غرام) | |

المطلوب:

حساب الأرقام القياسية: $I_{2015/2005}$ و $I_{2020/2005}$ للسعر والكميات مع التحليل وذلك باستعمال الرقم القياسي ل: Laspeyres، Fischer و Paasche. ثم ماذا تلاحظ حول خواص حساب الأرقام القياسية بالنسبة لهذه الأرقام؟

الحل

(1) حساب الرقم القياسي للأسعار: $I_{2015/2005}$

■ حساب الرقم القياسي للأسعار (Laspeyres):

$$I_{t/b}(P) = \frac{\sum_{i=1}^k P_{it} \times Q_{ib}}{\sum_{i=1}^k P_{ib} \times Q_{ib}} \times 100\% \Rightarrow I_{2015/2005}(P) = \frac{\sum_{i=1}^k P_{i2015} \times Q_{i2005}}{\sum_{i=1}^k P_{i2005} \times Q_{i2005}} \times 100\%$$

$$I_{2015/2005}(P) = \frac{(30 \times 5) + (55 \times 2) + (1000 \times 1.5)}{(25 \times 5) + (40 \times 2) + (800 \times 1.5)} \times 100\% = \frac{1760}{1405} \times 100\% = 125\%$$

بناء على هذا المقياس فإن الأسعار في سنة 2015 عرفت ارتفاعا يقدر بـ 25% مقارنة بسنة الأساس 2005.

■ حساب الرقم القياسي للأسعار (Paasche):

$$I_{t/b}(P) = \frac{\sum_{i=1}^k P_{it} \times Q_{it}}{\sum_{i=1}^k P_{ib} \times Q_{it}} \times 100\% \Rightarrow I_{2015/2005}(P) = \frac{\sum_{i=1}^k P_{i2015} \times Q_{i2015}}{\sum_{i=1}^k P_{i2005} \times Q_{i2015}} \times 100\%$$

$$I_{2015/2005}(P) = \frac{(30 \times 5) + (55 \times 2.5) + (1000 \times 2)}{(25 \times 5) + (40 \times 2.5) + (800 \times 2)} \times 100\% = \frac{2287.5}{1825} \times 100\% = 125\%$$

بناء على هذا المقياس فإن الأسعار في سنة 2015 عرفت ارتفاعا يقدر بـ 25% مقارنة بسنة الأساس 2005.

■ حساب الرقم القياسي للأسعار (Fischer):

$$F_{t/b}(P) = \sqrt{I_{t/b}(P)_{Laspeyres} \times I_{t/b}(P)_{Paasche}}$$

$$F_{2015/2005}(P) = \sqrt{I_{2015/2005}(P)_{Laspeyres} \times I_{2015/2005}(P)_{Paasche}}$$

$$F_{2015/2005}(P) = \sqrt{125 \times 125} = 125$$

بناء على هذا المقياس فإن الأسعار في سنة 2015 عرفت ارتفاعا يقدر بـ 25% مقارنة بسنة الأساس 2005.

(2) حساب الرقم القياسي للكميات: $I_{2015/2005}$

■ حساب الرقم القياسي للكميات لـ (Laspeyres):

$$I_{t/b}(Q) = \frac{\sum_{i=1}^k P_{ib} \times Q_{it}}{\sum_{i=1}^k P_{ib} \times Q_{ib}} \times 100\% \Rightarrow I_{2015/2005}(Q) = \frac{\sum_{i=1}^k P_{i2005} \times Q_{i2015}}{\sum_{i=1}^k P_{i2005} \times Q_{i2005}} \times 100\%$$

$$I_{2015/2005}(Q) = \frac{25 \times 5 + 40 \times 2.5 + 800 \times 2}{25 \times 5 + 40 \times 2 + 800 \times 1.5} \times 100\% = \frac{1825}{1405} \times 100\% = 130\%$$

بناء على هذا المقياس فإن الطلب على الكميات في سنة 2015 عرفت ارتفاعا يقدر بـ 30% مقارنة بسنة 2005.

■ حساب الرقم القياسي للكميات لـ (Paasche):

$$I_{t/b}(Q) = \frac{\sum_{i=1}^k P_{it} \times Q_{it}}{\sum_{i=1}^k P_{it} \times Q_{ib}} \times 100\%$$

$$I_{t/b}(Q) = \frac{\sum_{i=1}^k P_{it} \times Q_{it}}{\sum_{i=1}^k P_{it} \times Q_{ib}} \times 100\% \Rightarrow I_{2015/2005}(Q) = \frac{\sum_{i=1}^k P_{i2015} \times Q_{i2015}}{\sum_{i=1}^k P_{i2015} \times Q_{i2005}} \times 100\%$$

$$I_{2015/2005}(Q) = \frac{30 \times 5 + 55 \times 2.5 + 1000 \times 2}{30 \times 5 + 55 \times 2 + 1000 \times 1.5} \times 100\% = \frac{2287.5}{1760} \times 100\% = 130\%$$

بناء على هذا المقياس فإن الطلب على الكميات في سنة 2015 عرفت ارتفاعا يقدر بـ 30% مقارنة بسنة الأساس 2005.

■ حساب الرقم القياسي للكميات لـ (Fischer):

$$F_{t/b}(Q) = \sqrt{I_{t/b}(Q)_{Laspeyres} \times I_{t/b}(Q)_{Paasche}}$$

$$F_{2015/2005}(Q) = \sqrt{I_{2015/2005}(Q)_{Laspeyres} \times I_{2015/2005}(Q)_{Paasche}}$$

$$F_{2015/2005}(Q) = \sqrt{130 \times 130} = 130$$

بناء على هذا المقياس فإن الطلب على الكميات في سنة 2015 عرفت ارتفاعا يقدر بـ 30% مقارنة بسنة الأساس 2005.

(3) حساب الرقم القياسي للأسعار: $I_{2020/2005}$

■ حساب الرقم القياسي للأسعار (Laspeyres):

$$I_{2020/2005}(P) = \frac{\sum_{i=1}^k P_{i2020} \times Q_{i2005}}{\sum_{i=1}^k P_{i2005} \times Q_{i2005}} \times 100\%$$

$$I_{2020/2005}(P) = \frac{(35 \times 5) + (75 \times 2) + (1200 \times 1.5)}{(25 \times 5) + (40 \times 2) + (800 \times 1.5)} \times 100\% = \frac{2125}{1405} \times 100\% = 151\%$$

بناء على هذا المقياس فإن الأسعار في سنة 2020 عرفت ارتفاعا يقدر بـ 51% مقارنة بسنة الأساس 2005.

■ حساب الرقم القياسي للأسعار (Paasche):

$$I_{2020/2005}(P) = \frac{\sum_{i=1}^k P_{i2020} \times Q_{i2020}}{\sum_{i=1}^k P_{i2005} \times Q_{i2020}} \times 100\%$$

$$I_{2015/2005}(P) = \frac{(35 \times 10) + (75 \times 3) + (1200 \times 3)}{(25 \times 10) + (40 \times 3) + (800 \times 3)} \times 100\% = \frac{4175}{2770} \times 100\% = 151\%$$

بناء على هذا المقياس فإن الأسعار في سنة 2020 عرفت ارتفاعا يقدر بـ 51% مقارنة بسنة الأساس 2005.

■ حساب الرقم القياسي للأسعار (Fischer):

$$F_{t/b}(P) = \sqrt{I_{t/b}(P)_{Laspeyres} \times I_{t/b}(P)_{Paasche}}$$

$$F_{2020/2005}(P) = \sqrt{I_{2020/2005}(P)_{Laspeyres} \times I_{2020/2005}(P)_{Paasche}}$$

$$F_{2020/2005}(P) = \sqrt{151 \times 151} = 151$$

بناء على هذا المقياس فإن الأسعار في سنة 2020 عرفت ارتفاعا يقدر بـ 51% مقارنة بسنة الأساس 2005.

(4) حساب الرقم القياسي للكميات: $I_{2020/2005}$

■ حساب الرقم القياسي للكميات (Laspeyres):

$$I_{2020/2005}(Q) = \frac{\sum_{i=1}^k P_{i2005} \times Q_{i2020}}{\sum_{i=1}^k P_{i2005} \times Q_{i2005}} \times 100\%$$

$$I_{2020/2005}(Q) = \frac{25 \times 10 + 40 \times 3 + 800 \times 3}{25 \times 5 + 40 \times 2 + 800 \times 1.5} \times 100\% = \frac{2770}{1405} \times 100\% = 197\%$$

بناء على هذا المقياس فإن الطلب على الكميات في سنة 2020 عرفت ارتفاعا يقدر بـ 97% مقارنة بسنة الأساس

2005.

■ حساب الرقم القياسي للكميات (Paasche):

$$I_{2020/2005}(Q) = \frac{\sum_{i=1}^k P_{i2020} \times Q_{i2020}}{\sum_{i=1}^k P_{i2020} \times Q_{i2005}} \times 100\%$$

$$I_{2015/2005}(Q) = \frac{35 \times 10 + 75 \times 3 + 1200 \times 3}{35 \times 5 + 75 \times 2 + 1200 \times 1.5} \times 100\% = \frac{4175}{2125} \times 100\% = 196\%$$

بناءً على هذا المقياس فإن الطلب على الكميات في سنة 2020 عرفت ارتفاعاً يقدر بـ 96% مقارنة بسنة الأساس 2005.

■ حساب الرقم القياسي للكميات لـ (Fischer):

$$F_{t/b}(Q) = \sqrt{I_{t/b}(Q)_{Laspeyres} \times I_{t/b}(Q)_{Paasche}}$$

$$F_{2020/2005}(Q) = \sqrt{I_{2020/2005}(Q)_{Laspeyres} \times I_{2020/2005}(Q)_{Paasche}}$$

$$F_{2020/2005}(Q) = \sqrt{197 \times 1196} = 196$$

بناءً على هذا المقياس فإن الطلب على الكميات في سنة 2015 عرفت ارتفاعاً يقدر بـ 96% مقارنة بسنة الأساس 2005.